



الطبعة الأولى، 2025م

رقم الإيداع لدى دائرة المكتبة الوطنية
(2024/12/6889)

عنوان الكتاب: دمج مهارات التفكير في تدريس فقه المعاملات: تطبيقات عملية

تأليف: حماد، حمزه عبد الكريم محمد

بيانات النشر: عمان: دار الجنان للنشر والتوزيع، 2024

رقم التصنيف: 273.00711

الواصفات: /المعاملات (فقه إسلامي) // مهارات التفكير // أساليب التدريس // الشريعة الإسلامية // التعليم العالي /
الطبعة: الطبعة الأولى

ISBN

978-9923-35-315-8

(ردمك)

يتحمل المؤلف كامل المسؤولية القانونية عن محتوى مصنفه، ولا يعبر هذا المصنف عن رأي دائرة المكتبة الوطنية أو أي
جهة حكومية أخرى.

جميع الحقوق محفوظة، لا يسمح بإعادة إصدار هذا الكتاب أو أي جزء منه أو تخزينه في نطاق استعادة
المعلومات أو نقله بأي شكل من الأشكال دون إذن خطي مسبق من المؤلف.

دار الجنان

المملكة الأردنية الهاشمية

هاتف: 00962795747460

E-mail: dar_jenan@yahoo.com


دمج مهارات التفكير في تدريس فقه المعاملات تطبيقات عملية

إعداد

الدكتور

حمزة عبد الكريم حماد

كلية الشريعة، جامعة جرش، الأردن



الفهرس

الموضوع	رقم الصفحة
المقدمة	23
أولاً: أوراق عمل مقدمات في فقه المعاملات	25
ورقة عمل رقم: 1 تعريف المعاملات	25
ورقة عمل رقم: 2 المقارنة الثنائية المفتوحة بين المعاملات المالية والاقتصاد الإسلامي	26
ورقة عمل رقم: 3 المقارنة الثنائية المفتوحة بين المعاملات المالية والمعاملات الأدبية	27
ورقة عمل رقم: 4 المقارنة الثنائية المفتوحة بين المالية العامة والمعاملات المالية	28
ورقة عمل رقم: 5 المقارنة الثنائية المفتوحة بين القانون المدني والمعاملات المدنية	29
ورقة عمل رقم: 6 المقارنة الثنائية المفتوحة بين القانون التجاري والمعاملات المدنية	30
ورقة عمل رقم: 7 المقارنة الثنائية المفتوحة بين العبادات والمعاملات	31
ورقة عمل رقم: 8 المقارنة الخماسية المفتوحة بين المعاوضات، والتبرعات، والإسقاطات، والمشاركات، والتوثيقات	32
ورقة عمل رقم: 9 المقارنة الثنائية المفتوحة بين التبرعات والمعاملات	33

34	ورقة عمل رقم: 10 المقارنة الثنائية المفتوحة بين التبرعات والإسقاطات
35	ورقة عمل رقم: 11 المقارنة الثنائية المفتوحة بين إباحة المنافع وتمليك المنافع
36	ورقة عمل رقم: 12 المقارنة الثنائية المفتوحة بين الملك التام والملك الناقص
37	ورقة عمل رقم: 13 التفصيل أو الإجمال في أحكام المعاملات
38	ورقة عمل رقم: 14 قاعدة الأصل في المعاملات الحل
39	ورقة عمل رقم: 15 التوظيف المعاصر لقاعدة الخراج بالضمنان
40	ورقة عمل رقم: 16 القواعد العامة للمعاملات
41	ورقة عمل رقم: 17 تأثير الأخلاق في المعاملات المالية
42	ورقة عمل رقم: 18 الأصل في المعاملات الحل أو الإباحة
43	ورقة عمل رقم: 19 المعاملات معقولة المعنى
45	ثانياً: أوراق عمل المال
45	ورقة عمل رقم: 20 تعريف المال
46	ورقة عمل رقم: 21 تعريف المال
47	ورقة عمل رقم: 22 المقارنة الرباعية المفتوحة بين الملك والمنافع والحقوق والديون
48	ورقة عمل رقم: 23 أسباب التملك
49	ورقة عمل رقم: 24 أنواع الملكية
50	ورقة عمل رقم: 25 المال والمتقوم

51	ورقة عمل رقم: 26 المنفعة مال أم ملك
52	ورقة عمل رقم: 27 المقارنة الثنائية المفتوحة بين المال والملك
53	ورقة عمل رقم: 28 المقارنة الثنائية المفتوحة بين الفوائد العرضية والفوائد المادية
54	ورقة عمل رقم: 29 المنافع وعلاقتها بالمال
55	ورقة عمل رقم: 30 الحق وعلاقته بالمال
56	ورقة عمل رقم: 31 المقارنة الثنائية المفتوحة بين الحق عند الفقهاء والحق عند القانونيين
57	ورقة عمل رقم: 32 نظرة الإسلام إلى المال
58	ورقة عمل رقم: 33 المقارنة الثنائية المفتوحة بين المال المتقوم والمال غير المتقوم
59	ورقة عمل رقم: 34 أنواع المال
60	ورقة عمل رقم: 35 المقارنة الثنائية المفتوحة بين المال المثلي والمال القيمي
61	ورقة عمل رقم: 36 المقارنة الثنائية المفتوحة بين الأموال الظاهرة والأموال الباطنة
62	ورقة عمل رقم: 37 المقارنة الثنائية المفتوحة بين المال النامي والمال غير النامي
63	ثالثاً: أوراق عمل الملكية
63	ورقة عمل رقم: 38 المقارنة الثلاثية المفتوحة بين الملكية والإباحة والاختصاص

64	ورقة عمل رقم: 39 المقارنة الثنائية المفتوحة بين الملكية النامة والملكية الناقصة
65	ورقة عمل رقم: 40 المقارنة الثنائية المفتوحة بين ملك العين بلا منفعة وملك المنفعة بلا عين
66	ورقة عمل رقم: 41 المقارنة الثنائية المفتوحة بين ملك المنفعة وحق الانتفاع
67	ورقة عمل رقم: 42 المقارنة الثنائية المفتوحة بين الملكية العامة والملكية الخاصة
68	ورقة عمل رقم: 43 المقارنة الثنائية المفتوحة بين الكنز الإسلامي والكنز الجاهلي
69	ورقة عمل رقم: 44 المقارنة الرباعية المفتوحة بين الناتج والربح والغلة والنماء
70	ورقة عمل رقم: 45 القيود الملازمة للانتفاع بالملكية
71	ورقة عمل رقم: 46 قابلية المال للتملك
72	ورقة عمل رقم: 47 المقارنة الثلاثية المفتوحة بين ملك العين فقط، وملك المنفعة الشخصي، وملك المنفعة العيني
73	ورقة عمل رقم: 48 المقارنة الثنائية المفتوحة بين الإباحة والمملك
74	ورقة عمل رقم: 49 المقارنة الثنائية المفتوحة بين حق الارتفاق وحق الانتفاع الشخصي
75	ورقة عمل رقم: 50 من أسباب التملك: الاصطيد
76	ورقة عمل رقم: 51 حكم الاستملاك الجبري للأرض

77	ورقة عمل رقم: 52 المقارنة الثنائية المفتوحة بين الركاز والمعدن
78	ورقة عمل رقم: 53 حكم المعادن الموجودة في الأرض المملوكة
79	ورقة عمل رقم: 54 المقارنة الثنائية المفتوحة بين الكنز الإسلامي والكنز الجاهلي
80	ورقة عمل رقم: 55 النقود العثمانية
81	رابعاً: أوراق عمل العقود
81	ورقة عمل رقم: 56 المقارنة الرباعية المفتوحة بين العقد والتصرف والالتزام والوعد
82	ورقة عمل رقم: 57 نظرة الإسلام إلى العقود
83	ورقة عمل رقم: 58 المقارنة الثلاثية المفتوحة بين العقد المنجر والعقد المضاف والعقد المعلق
84	ورقة عمل رقم: 59 الإيجاب والقبول بإشارات/ رموز "الإيموجي"
85	ورقة عمل رقم: 60 العلاقة بين العقد والالتزام
86	ورقة عمل رقم: 61 المقارنة الثنائية المفتوحة بين العقود المسماة والعقود غير المسماة
87	ورقة عمل رقم: 62 المقارنة الثلاثية المفتوحة بين عقود المعاوضات وعقود التبرعات والعقود التي تحتوي معنى التبرع ابتداءً والمعاوضة انتهاءً

88	ورقة عمل رقم: 63 المقارنة الثنائية المفتوحة بين عقود الفورية والعقود المستمرة
89	ورقة عمل رقم: 64 المقارنة الثنائية المفتوحة بين العقود الأصلية والعقود التبعية
90	ورقة عمل رقم: 65 تصنيف أنواع العقود
91	ورقة عمل رقم: 66 المقارنة الثنائية المفتوحة بين العقد النافذ والعقد الموقوف
92	ورقة عمل رقم: 67 المقارنة الثنائية المفتوحة بين العقد والالتزام
93	ورقة عمل رقم: 68 المقارنة الثنائية المفتوحة بين العقد والتصرف
94	ورقة عمل رقم: 69 المقارنة الثنائية المفتوحة بين العقد والوعد
95	ورقة عمل رقم: 70 المقارنة الثنائية المفتوحة بين القيمة والتمن
96	ورقة عمل رقم: 71 المقارنة الثنائية المفتوحة بين المال المقدر والمال الجزاف
97	ورقة عمل رقم: 72 المقارنة الثنائية المفتوحة بين النقود والعروض
98	ورقة عمل رقم: 73 المقارنة الثنائية المفتوحة بين المال الاستهلاكي والمال الاستعمالي
99	ورقة عمل رقم: 74 المقارنة الثنائية المفتوحة بين الانتفاع والمنفعة

100	ورقة عمل رقم: 75 المقارنة الثنائية المفتوحة بين ملك الانتفاع وملك المنفعة
101	ورقة عمل رقم: 76 المقارنة الثنائية المفتوحة بين حق الانتفاع والتمليك
103	خامساً: أوراق عمل البيع
103	ورقة عمل رقم: 77 تعريف البيع
104	ورقة عمل رقم: 78 أركان العقد
105	ورقة عمل رقم: 79 أركان البيع
106	ورقة عمل رقم: 80 تعريف الإيجاب
107	ورقة عمل رقم: 81 المقارنة الرباعية المفتوحة بين شروط الانعقاد، والنفاذ، والصحة، واللزوم
108	ورقة عمل رقم: 82 تصنيف شروط عقد البيع عند الحنفية
110	ورقة عمل رقم: 83 تصنيف شروط عقد البيع عند المالكية
112	ورقة عمل رقم: 84 تصنيف شروط عقد البيع عند الشافعية
114	ورقة عمل رقم: 85 تصنيف شروط عقد البيع عند الحنابلة
116	ورقة عمل رقم: 86 الشروط في البيع وشروط البيع
117	ورقة عمل رقم: 87 اشتراط عدم رد البضاعة وعدم استبدالها
118	ورقة عمل رقم: 88 البيع بشرط البراءة من العيوب
119	ورقة عمل رقم: 89 شروط البيع
120	ورقة عمل رقم: 90 أحكام البيع
121	ورقة عمل رقم: 91 المقارنة الرباعية المفتوحة بين بيع الملامسة والمحاقلة والمخاضرة والمزبنة

122	ورقة عمل رقم: 92 الصور المعاصرة لبعض البيوع المنهي عنها
123	ورقة عمل رقم: 93 المقارنة الثنائية المفتوحة بين العينة والتورق
124	ورقة عمل رقم: 94 البيوع المنهي عنها
125	ورقة عمل رقم: 95 تصنيف أمثلة معاصرة للبيوع
127	ورقة عمل رقم: 96 المقارنة الرباعية المفتوحة بين خيار الشرط، وخيار المجلس، وخيار العيب، وخيار الرؤية
128	ورقة عمل رقم: 97 المقارنة الثنائية المفتوحة بين خيار النقد وخيار الشرط
129	ورقة عمل رقم: 98 المقارنة الثنائية المفتوحة بين العقد الصحيح والعقد غير الصحيح
130	ورقة عمل رقم: 99 المقارنة الثنائية المفتوحة بين العقد اللازم والعقد غير اللازم
131	ورقة عمل رقم: 100 المقارنة الثنائية المفتوحة بين العقد النافذ والعقد الموقوف
132	ورقة عمل رقم: 101 المقارنة الثنائية المفتوحة بين العقد الباطل والعقد الفاسد
133	ورقة عمل رقم: 102 المقارنة الخماسية المفتوحة بين الغرر والجهالة والغبن والتدليس والغش
134	ورقة عمل رقم: 103 المقارنة الثلاثية المفتوحة بين بيع المراجحة، وبيع التولية، وبيع الوضعية

135	ورقة عمل رقم: 104 المقارنة الثلاثية المفتوحة بين الغلط، والتدليس، والغبن
136	ورقة عمل رقم: 105 المقارنة الرباعية المفتوحة بين الغلط، والإكراه، والغبن، والتغيير
137	ورقة عمل رقم: 106 المقارنة الثنائية المفتوحة بين الغلط والغبن
138	ورقة عمل رقم: 107 المقارنة الثنائية المفتوحة بين الغرر والتدليس
139	ورقة عمل رقم: 108 التلاعب بصورة المنتج المباع عبر وسائل التواصل الاجتماعي
140	ورقة عمل رقم: 109 صور معاصرة للتغيير في العقود
141	ورقة عمل رقم: 110 شروط العاقلين
142	ورقة عمل رقم: 111 اتحاد مجلس الإيجاب والقبول
143	ورقة عمل رقم: 112 المقارنة الثنائية المفتوحة بين الخيار الحكمي والخيار الإرادي
144	ورقة عمل رقم: 113 المقارنة الثلاثية المفتوحة بين خيار المجلس، وخيار الرجوع، وخيار القبول
145	ورقة عمل رقم: 114 خيار المجلس و"الوتس أب"
146	ورقة عمل رقم: 115 البيوع الباطلة/ الفاسدة
147	ورقة عمل رقم: 116 الاحتكار
149	سادساً: أوراق عمل الربا
149	ورقة عمل رقم: 117 حَكَم تحريم الربا

150	ورقة عمل رقم: 118 المقارنة الثنائية المفتوحة بين الربا والبيع
151	ورقة عمل رقم: 119 المقارنة الثلاثية المفتوحة بين أنواع الربا عند الشافعية
152	ورقة عمل رقم: 120 المقارنة الثنائية المفتوحة بين الربا والقرض
153	ورقة عمل رقم: 121 المقارنة الثنائية المفتوحة بين ربا الفضل وربا النسيئة
154	ورقة عمل رقم: 122 علة الربا
155	ورقة عمل رقم: 123 الفرق بين ربا الديون وبيع التقسيط
156	ورقة عمل رقم: 124 الربا في تبادل المركبات
157	ورقة عمل رقم: 125 الربا في تبادل مزرعة حمصيات بمزرعة زيتون
158	ورقة عمل رقم: 126 الآثار العملية المترتبة على الاختلاف في علة الربا
159	ورقة عمل رقم: 127 الربا في بيع الزيتون بزيت الزيتون
160	ورقة عمل رقم: 128 جريان الربا في الدول الأجنبية اليوم
161	سابعاً: أوراق عمل الحوالة
161	ورقة عمل رقم: 129 التكيف الفقهي لـ "تظهير/ تجيير الشيط"
162	ورقة عمل رقم: 130 المقارنة الثنائية المفتوحة بين الحوالة المطلقة والحوالة المقيدة

163	ورقة عمل رقم: 131 المقارنة الثنائية المفتوحة بين حوالة الحق وحوالة الدين
165	ثامناً: أوراق عمل السلم
165	ورقة عمل رقم: 132 جريان السلم في شراء المركبات
166	ورقة عمل رقم: 133 السلم في الأبقار والأغنام
167	ورقة عمل رقم: 134 السلم في لحم "البقر"
168	ورقة عمل رقم: 135 السلم في السمك
169	ورقة عمل رقم: 136 السلم في الخبز "الكيك"
170	ورقة عمل رقم: 137 المقارنة الثنائية المفتوحة بين السلم والاستصناع
171	ورقة عمل رقم: 138 المقارنة الثنائية المفتوحة بين السلم والبيع
173	تاسعاً: أوراق عمل الاستصناع
173	ورقة عمل رقم: 139 المقارنة الثنائية المفتوحة بين الاستصناع والإجارة
174	ورقة عمل رقم: 140 المقارنة الثنائية المفتوحة بين الاستصناع والبيع
175	ورقة عمل رقم: 141 تخريج عقد الاستصناع
176	ورقة عمل رقم: 142 التكييف الفقهي لعقد إجراء عملية جراحية
177	ورقة عمل رقم: 143 تكييف العمل الطبي لمريض دخل الطوارئ

179	عاشراً: أوراق عمل الصرف
179	ورقة عمل رقم: 144 المقارنة الثنائية المفتوحة بين البيع والصرف
181	حادي عشر: أوراق عمل الإجارة
181	ورقة عمل رقم: 145 المقارنة الثنائية المفتوحة بين الأجير الخاص والأجير المشترك
183	ثاني عشر: أوراق عمل الوكالة
183	ورقة عمل رقم: 146 المقارنة الثنائية المفتوحة بين الوكالة العامة والوكالة الخاصة
184	ورقة عمل رقم: 147 المقارنة الثنائية المفتوحة بين الوكالة المطلقة والوكالة المقيدة
185	ورقة عمل رقم: 148 أفعال لا تقبل الوكالة
186	ورقة عمل رقم: 149 الحكم التكليفي للوكالة
187	ورقة عمل رقم: 150 توكيل غير المسلم
189	ثالث عشر: أوراق عمل الكفالة
189	ورقة عمل رقم: 151 تعريف الكفالة
190	ورقة عمل رقم: 152 التكييف الفقهي لخطاب الضمان المستندي
191	ورقة عمل رقم: 153 أخذ مبالغ مالية على الكفالة
192	ورقة عمل رقم: 154 المقارنة الثنائية المفتوحة بين الكفالة بالنفس والكفالة بالمال

193	ورقة عمل رقم: 155 المقارنة الثنائية المفتوحة بين الكفالة بالدين والكفالة بالعين والكفالة بالدرك
195	رابع عشر: أوراق عمل الشركات
195	ورقة عمل رقم: 156 المقارنة الثنائية المفتوحة بين شركة الأملاك وشركة العقود
196	ورقة عمل رقم: 157 المقارنة الثنائية المفتوحة بين شركة العنان وشركة المفاوضة وشركة الأبدان وشركة الوجوه
197	ورقة عمل رقم: 158 المقارنة الخماسية المفتوحة بين أنواع الشركات: العنان، والمفاوضة، والأبدان، والوجوه، والمضاربة
199	خامس عشر: أوراق عمل الرهن
199	ورقة عمل رقم: 159 الاستفادة من الشقة المرهونة بحسم الإجرة من الدين
200	ورقة عمل رقم: 160 رهن قلادة ذهبية فيها صليب
201	ورقة عمل رقم: 161 المقارنة الثنائية المفتوحة بين الرهن الصحيح والرهن الفاسد
203	سادس عشر: أوراق عمل الجعالة
203	ورقة عمل رقم: 162 صور معاصرة للجعالة
204	ورقة عمل رقم: 163 عمرة مجاناً للفائز في مسابقة حفظ القرآن الكريم
205	ورقة عمل رقم: 164 - 10 درجات لتخريج حديث
206	ورقة عمل رقم: 165 جعالة على الرقية

207	ورقة عمل رقم: 166 المقارنة الثنائية المفتوحة بين الجمالة والإجارة على العمل
209	سابع عشر: أوراق عمل الإقالة
209	ورقة عمل رقم: 167 حكمة مشروعية الإقالة
210	ورقة عمل رقم: 168 الاختلاف في ماهية الإقالة
211	ثامن عشر: أوراق عمل عقود التبرعات
211	ورقة عمل رقم: 169 خصائص عقود التبرعات
212	ورقة عمل رقم: 170 التبرعات مبنية على التسامح
213	ورقة عمل رقم: 171 تصنيف عقود التبرعات إلى لازمة وغير لازمة
215	تاسع عشر: أوراق عمل الهبة
215	ورقة عمل رقم: 172 تعريف الهبة
216	ورقة عمل رقم: 173 المقارنة الرباعية المفتوحة بين الهبة والصدقة والهدية والعطية
217	ورقة عمل رقم: 174 المقارنة الثنائية المفتوحة بين الهبة والوصية
218	ورقة عمل رقم: 175 الصدقة والهدية في حق النبي صلى الله عليه وسلم
219	ورقة عمل رقم: 176 المقارنة الثنائية المفتوحة بين هبة الرقبة وهبة المنفعة
220	ورقة عمل رقم: 177 المقارنة الثنائية المفتوحة بين الإبراء والهبة

221	ورقة عمل رقم: 178 المقارنة الثلاثية المفتوحة بين الهبة والهدية والصدقة
223	عشرون: أوراق عمل العارية
223	ورقة عمل: 179 الحكم التكميلي للعارية
224	ورقة عمل رقم: 180 إعارة المصحف لغير المسلم
225	ورقة عمل رقم: 181 المقارنة الثنائية المفتوحة بين العارية والإجارة
227	حادي وعشرون: أوراق عمل الوقف
227	ورقة عمل رقم: 182 تاريخ الوقف
228	ورقة عمل رقم: 183 كتابة اسم الواقف على الموقوف
229	ورقة عمل رقم: 184 نقل الوقف للمنفعة
230	ورقة عمل رقم: 185 الأفضلية للوقف أم الصدقة
231	ورقة عمل رقم: 186 استعمال الوقف لغير الحاجة التي وقف عليها
232	ورقة عمل رقم: 187 استعمال الوقف لغير الحاجة التي وقف عليها
233	ورقة عمل رقم: 188 الأخذ من الأرض الموقوفة للشارع العام
234	ورقة عمل رقم: 189 التصرف في الكتب الموقوفة لأحد المساجد
235	ورقة عمل رقم: 190 المقارنة الثنائية المفتوحة بين الوقف الذري والوقف الخيري

236	ورقة عمل رقم: 191 المقارنة الثلاثية المفتوحة بين الوقف الخيري والوقف الأهلي والوقف المشترك
237	ثاني وعشرون: أوراق عمل اللقطة
237	ورقة عمل رقم: 192 اللقطة في دولة أجنبية
238	ورقة عمل رقم: 193 المقارنة الثنائية المفتوحة بين اللقطة والضالة
239	ورقة عمل رقم: 194 الحكم التكليفي لالتقاط اللقطة
240	ورقة عمل رقم: 195 لقطة الحرم المكي والمدني
241	ورقة عمل رقم: 196 المقارنة الثنائية المفتوحة بين اللقطة واللقيط
242	ورقة عمل رقم: 197 المقارنة الثنائية المفتوحة بين اللقطة والغنيمة
243	ورقة عمل رقم: 198 المقارنة الثنائية المفتوحة بين لقطة المال والمحتاج والتقاط ضالة الحيوان
244	ورقة عمل رقم: 199 المقارنة الثلاثية المفتوحة بين اللقطة واللقيط والضالة
245	ورقة عمل رقم: 200 لقطة "علبة سجائر"
246	ورقة عمل رقم: 201 الأحكام المترتبة على استثمار اللقطة
247	ثالث وعشرون: أوراق عمل الوصية
247	ورقة عمل رقم: 202 الحكم التكليفي للوصية
248	ورقة عمل رقم: 203 الوصية بعدم حضور الجنازة
249	ورقة عمل رقم: 204 الوصية بالدفن في مكة المكرمة

250	ورقة عمل رقم: 205 الوصية بحرمان الابن العاق من الميراث
251	رابع وعشرون: أوراق عمل الغصب
251	ورقة عمل رقم: 206 تعريف الغصب
252	ورقة عمل رقم: 207 تعريف الغصب
253	ورقة عمل رقم: 208 المقارنة الثنائية المفتوحة بين الإعارة والغصب
254	ورقة عمل رقم: 209 المقارنة الثنائية المفتوحة بين السرقة والغصب
255	ورقة عمل رقم: 210 هل الموت يطيب المال المغصوب؟
256	ورقة عمل رقم: 211 منفعة المغصوب
257	ورقة عمل رقم: 212 تقدير قيمة المغصوب
258	ورقة عمل رقم: 213 تقدير قيمة القلادة المغصوبة
259	ورقة عمل رقم: 214 غصب الخنزير
260	ورقة عمل رقم: 215 غصب التماثيل
261	ورقة عمل رقم: 216 اتلاف الدم
263	خامس وعشرون: أوراق عمل الوديعة
263	ورقة عمل رقم: 217 الحكم التكميلي للوديعة
264	ورقة عمل رقم: 218 المقارنة الثنائية المفتوحة بين الوديعة والأمانة
265	ورقة عمل رقم: 219 الاتجار بمال الوديعة
267	سادس وعشرون: أوراق عمل القرض

267	ورقة عمل رقم: 220 المقارنة الثنائية المفتوحة بين القرض والبيع
268	ورقة عمل رقم: 221 التوبة من القرض الربوي
269	ورقة عمل رقم: 222 أداء القرض النقدي من مال غيره
270	ورقة عمل رقم: 223 انخفاض القيمة السوقية للقرض
271	ورقة عمل رقم: 224 وضع شرط جزائي عند التأخر عن سداد القرض
273	سابع وعشرون: أوراق عمل الشفعة
273	ورقة عمل رقم: 225 حكمة وجود الشفعة
274	ورقة عمل رقم: 226 الشفعة في الشقق السكنية
275	ورقة عمل رقم: 227 تعدد الشفعاء في البنايات السكنية
277	الخاتمة

المقدمة

الحمد لله رب العالمين، والصلاة والسلام على رسوله خاتم النبيين والمرسلين، وعلى آله وصحبه الطيبين الطاهرين، وبعد،،،

يأتي هذا الكتاب استكمالاً لجهود سابقة للباحث في دمج مهارات التفكير في تدريس العلوم الشرعية؛ إذ سبق له الإعداد أو المشاركة في إعداد عدد من الكتب العملية؛ هي: دمج مهارات التفكير في تدريس أحكام التلاوة والتجويد، ودمج مهارات التفكير في تدريس العقيدة الإسلامية، ودمج مهارات التفكير في تدريس مساق الأحوال الشخصية، ودمج مهارات التفكير في تدريس علوم الحديث، ودمج مهارات التفكير في تدريس فقه الجنايات، ودمج مهارات التفكير في تدريس فقه الطهارة والصلاة، ودمج مهارات التفكير في تدريس فقه الصيام والزكاة والحج، ودمج مهارات التفكير في تدريس أصول الفقه، ودمج مهارات التفكير في تدريس السيرة النبوية، ودمج مهارات التفكير في تدريس فقه الأيمان والندور والحظر والإباحة. حاول الباحث في هذا الكتاب توظيف العديد من مهارات التفكير في مباحث موضوعات فقه المعاملات؛ ويمكن لأستاذ المساق توظيفها بتوزيع الطلبة إلى مجموعات عمل، أو يقدمها للطلبة على شكل واجبات منزلية، مع أهمية الإشارة إلى أنّ الأوراق لا تعني حرفية التطبيق على ما هي عليه؛ فيمكن للمدرس أن يحذف من الورقة الواحدة فقرات أو يزيد عليها أو يدمج أكثر من ورقة معاً أو يقدم أو يؤخر كما يراه مناسباً للتطبيق في الموقف التعليمي.

والحمد لله رب العالمين

المؤلف

د. حمزة عبد الكريم حماد

hamza041@yahoo.com

أولاً: أوراق عمل مقدمات في فقه المعاملات
ورقة عمل رقم: 1 تعريف المعاملات

عزيمي الباحث:

اختلف الفقهاء القدامى والمعاصرون فيما تشمله المعاملات؛ فالقدامى أدخلوا
المناكحات ضمن المعاملات في حين أخرجها المعاصرون.
برأيك: ما أسباب الاختلاف، وما الآثار العملية المترتبة على هذا الاختلاف؟

.....

.....

.....

.....

.....

.....

.....

.....

.....

.....

.....

.....

.....

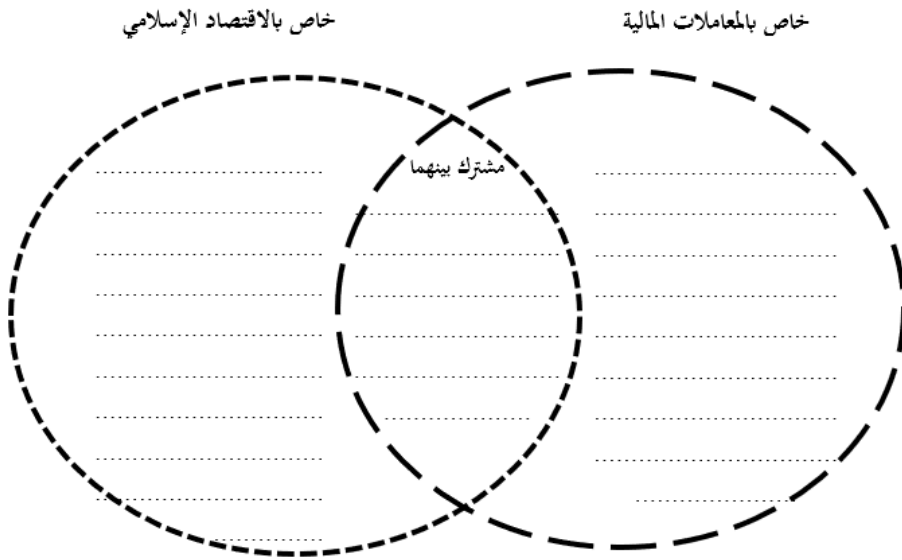
.....

.....

ورقة عمل رقم: 2 المقارنة الثنائية المفتوحة بين المعاملات المالية والاقتصاد الإسلامي

عزيزي الطالب:

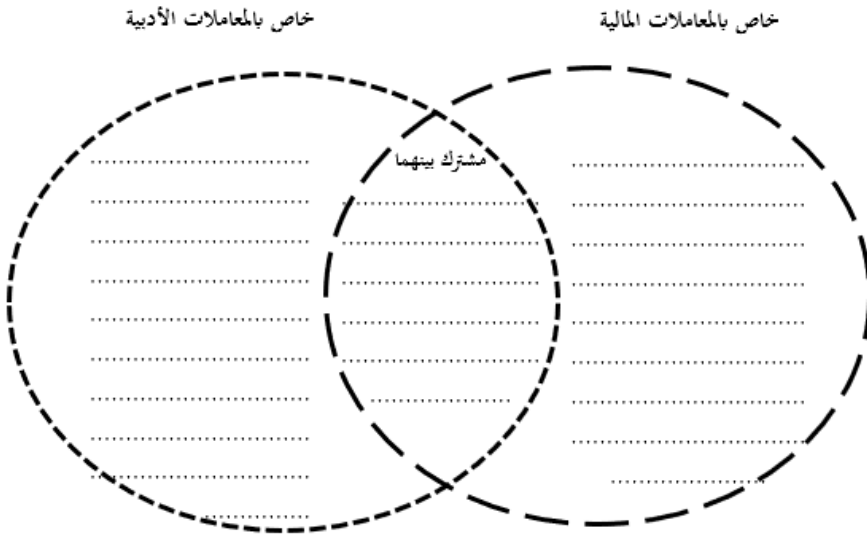
قارن بين المعاملات المالية والاقتصاد الإسلامي من خلال المخطط الآتي:



ورقة عمل رقم: 3 المقارنة الثنائية المفتوحة بين المعاملات المالية والمعاملات الأدبية

عزيزي الطالب:

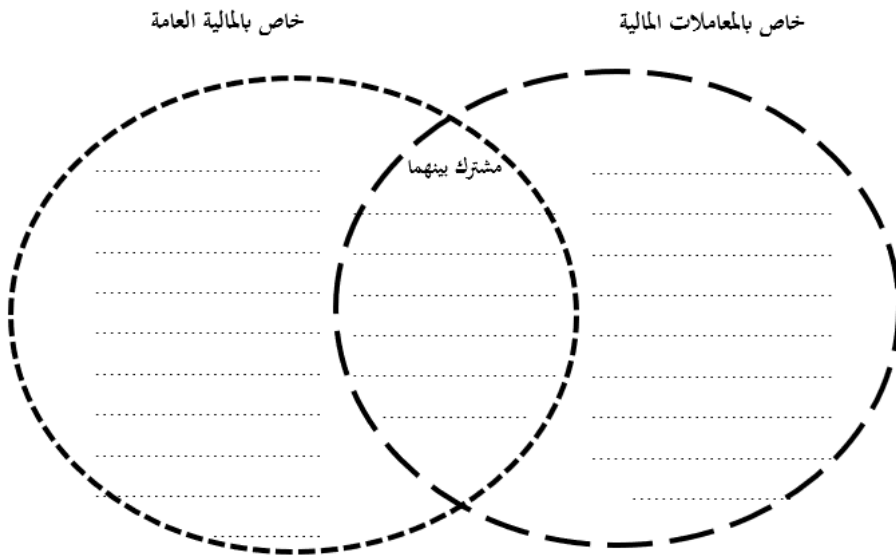
قارن بين المعاملات المالية والمعاملات الأدبية من خلال المخطط الآتي:



ورقة عمل رقم: 4 المقارنة الثنائية المفتوحة بين المالية العامة والمعاملات المالية

عزيزي الطالب:

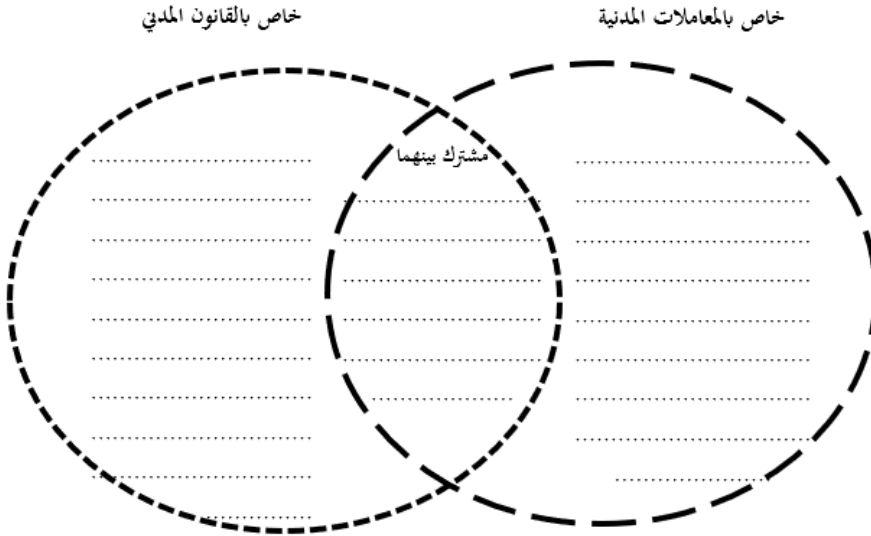
قارن بين المالية العامة والمعاملات المالية من خلال المخطط الآتي:



ورقة عمل رقم: 5 المقارنة الثنائية المفتوحة بين القانون المدني والمعاملات المدنية

عزيزي الطالب:

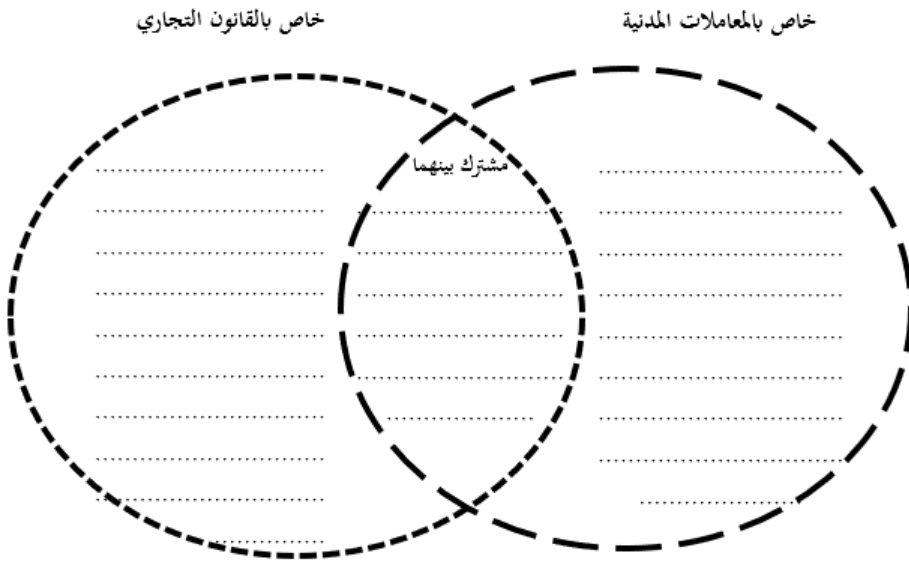
قارن بين القانون المدني والمعاملات المدنية من خلال المخطط الآتي:



ورقة عمل رقم: 6 المقارنة الثنائية المفتوحة بين القانون التجاري والمعاملات المدنية

عزيزي الطالب:

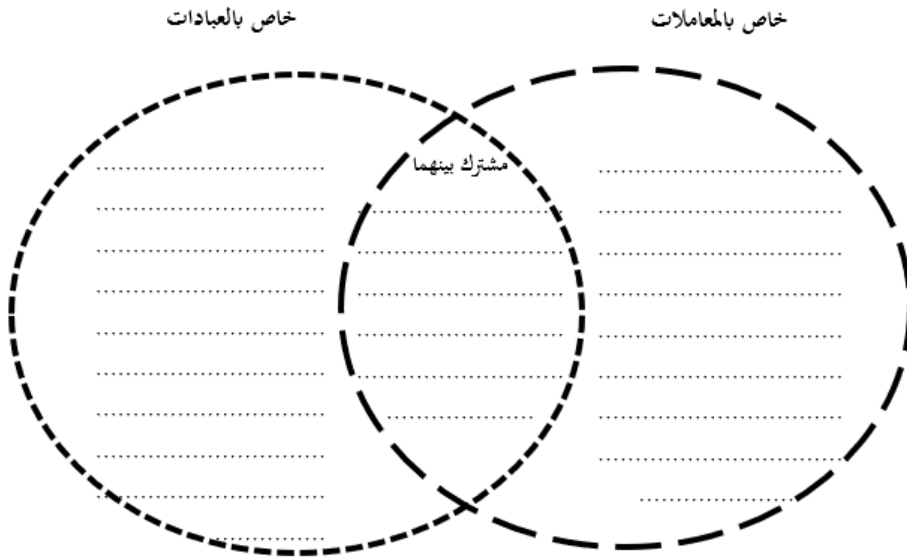
قارن بين القانون التجاري والمعاملات المدنية من خلال المخطط الآتي:



ورقة عمل رقم: 7 المقارنة الثنائية المفتوحة بين العبادات والمعاملات

عزيزي الطالب:

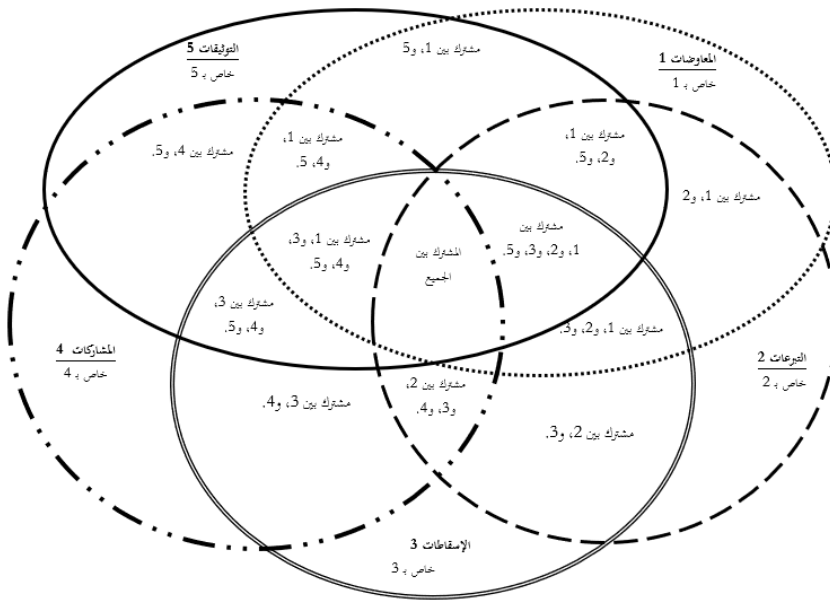
قارن بين العبادات والمعاملات من خلال المخطط الآتي:



ورقة عمل رقم: 8 المقارنة الخماسية المفتوحة بين المعاوضات، والتبرعات، والإسقاطات، والمشاركات، والتوثيقات

عزيري الباحث:

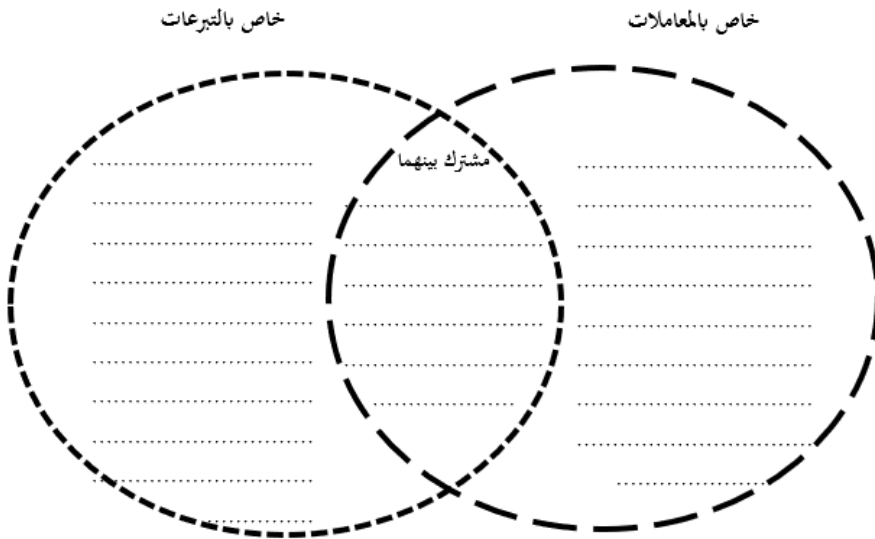
قارن بين المعاوضات، والتبرعات، والإسقاطات، والمشاركات، والتوثيقات من خلال المخطط الآتي:



ورقة عمل رقم: 9 المقارنة الثنائية المفتوحة بين التبرعات والمعاملات

عزيزي الطالب:

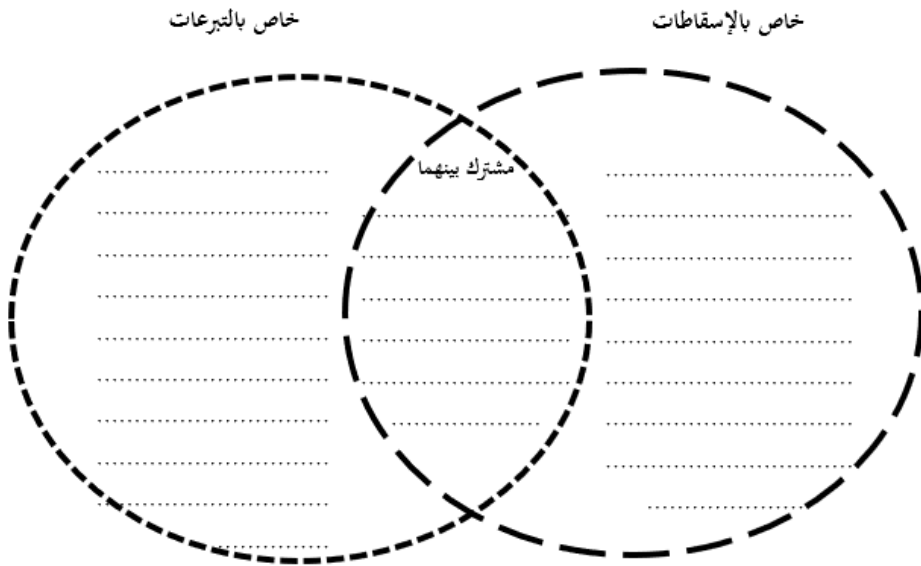
قارن بين التبرعات والمعاملات من خلال المخطط الآتي:



ورقة عمل رقم: 10 المقارنة الثنائية المفتوحة بين التبرعات والإسقاطات

عزيزي الطالب:

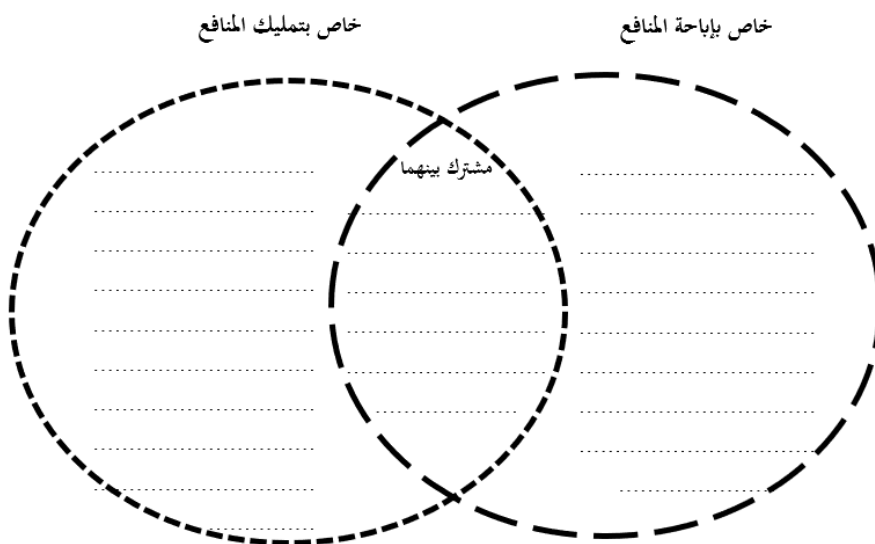
قارن بين التبرعات والإسقاطات من خلال المخطط الآتي:



ورقة عمل رقم: 11 المقارنة الثنائية المفتوحة بين إباحة المنافع وتمليك المنافع

عزيزي الباحث:

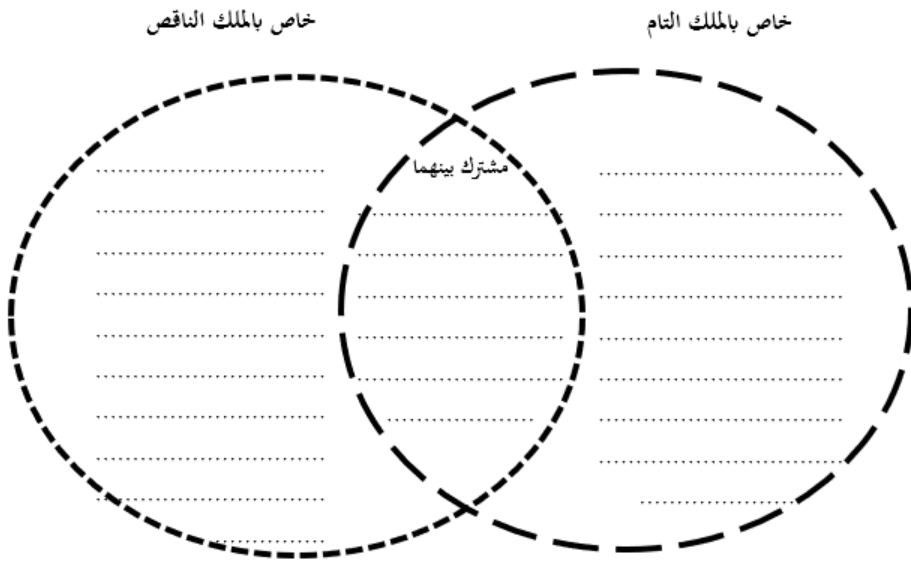
قارن بين إباحة المنافع وتمليك المنافع من خلال المخطط الآتي:



ورقة عمل رقم: 12 المقارنة الثنائية المفتوحة بين الملك التام والملك الناقص

عزيزي الطالب:

قارن بين الملك التام والملك الناقص من خلال المخطط الآتي:



ورقة عمل رقم: 13 التفصيل أو الإجمال في أحكام المعاملات

عزيزي الباحث:

تقوم المعاملات في الإسلام على أساس القواعد الكلية العامة كالنهي عن الربا ووجوب العدل مثلاً ولا تقوم على التفصيلات؛ مثل التفصيل في أحكام الصلاة، وأحكام المواريث، لماذا؟

وماذا تتوقع أن يحدث لو جاءت أحكام المعاملات مفصلة في القرآن والسنة؟

.....

.....

.....

.....

.....

.....

.....

.....

.....

.....

.....

.....

.....

.....

.....

ورقة عمل رقم: 14 قاعدة الأصل في المعاملات الحل

عزیزى الباحت:

سبق أن علمت أن الأصل في المعاملات الحل كيف يستقيم ذلك وبعض المعاملات محرمة؟

This image shows a full page of white paper with horizontal dotted lines, typical of primary-ruled notebook paper. The lines are evenly spaced and extend across the width of the page. There are no margins, text, or other markings present.

ورقة عمل رقم: 15 التوظيف المعاصر لقاعدة الخراج بالضمان

عزيزي الباحث:

سبق أن درست قاعدة الخراج بالضمان؛ هات تطبيقات معاصرة على قاعدة الخراج بالضمان في المعاملات الحالية

الرقم	التطبيق
1	
2	
3	
4	
5	

ورقة عمل رقم: 16 القواعد العامة للمعاملات

عزيزي الطالب:

استخرج آية أو حديث لكل قاعدة من من قواعد المعاملات الآتية:

القاعدة	آية	حديث
الرضا وطيب النفس		
الوفاء بالعقود		
النهي عن الغرر		
النهي عن الربا		
النهي عن الميسر القمار		
منع الظلم ووجوب العدل		

ورقة عمل رقم: 17 تأثير الأخلاق في المعاملات المالية

عزيزي الباحث:

استنبط تأثير الأخلاق في المعاملات المالية.

.....
.....
.....
.....
.....
.....
.....
.....
.....
.....
.....
.....
.....
.....
.....
.....
.....
.....
.....
.....
.....

ورقة عمل رقم: 18 الأصل في المعاملات الحل أو الإباحة

عزيزي الباحث:

الأصل في المعاملات الحل أو الإباحة ماذا تتوقع لو كانت المعاملات مثل العبادات
بأن الأصل فيها الحظر والمنع حتى يرد بها نص من الشارع؟

.....

.....

.....

.....

.....

.....

.....

.....

.....

.....

.....

.....

.....

.....

.....

.....

.....

.....

.....

.....

.....

.....

ورقة عمل رقم: 19 المعاملات معقولة المعنى

عزیزى الباحث:

غالبية العبادات في الإسلام تعبدية غير معقولة المعنى بينما غالبية المعاملات معقولة المعنى غير تعبدية؛ لماذا؟

[illegible]

ثانياً: أوراق عمل المال

ورقة عمل رقم: 20 تعريف المال

عزيزي الباحث:

اختلف الفقهاء الحنفية والجمهور في تعريف المال:

برأيك ما أسباب الاختلاف؟

وما الآثار العملية المترتبة على هذا الاختلاف؟

.....

.....

.....

.....

.....

.....

.....

.....

.....

.....

.....

.....

.....

.....

.....

ورقة عمل رقم: 21 تعريف المال

عزيزي الباحث:

اختلف الفقهاء في تعريف المال أي اتجاه ترجحه، ولماذا؟

.....
.....
.....
.....
.....
.....
.....
.....
.....
.....
.....
.....
.....
.....
.....
.....
.....
.....
.....
.....
.....

ورقة عمل رقم: 22 المقارنة الرباعية المفتوحة بين الملك والمنافع والحقوق والديون

عزيزي الطالب:

قارن بين بين الملك والمنافع والحقوق والديون من خلال المخطط الآتي:

الملك، خاص بـ: 1		المشترك بين 1، و 4		الديون، خاص بـ: 4	
.....		
.....		
.....		
.....		
.....		
.....		
.....		
.....		
.....		
.....		
.....		
.....		
.....		
.....		
.....		
.....		
.....		
.....		
.....		
.....		
.....		
.....		
.....		
.....		
.....		
.....		
.....		
.....		
.....		
.....		
.....		
.....		
.....		
.....		
.....		
.....		
.....		
.....		
.....		
.....		
.....		
.....		
.....		
.....		
.....		
.....		
.....		
.....		
.....		
.....		
.....		
.....		
.....		
.....		
.....		
.....		
.....		
.....		
.....		
.....		
.....		
.....		
.....		
.....		
.....		
.....		
.....		
.....		
.....		
.....		
.....		
.....		
.....		
.....		
.....		
.....		
.....		
.....		
.....		
.....		
.....		
.....		
.....		
.....		
.....		
.....		
.....		
.....		
.....		
.....		
.....		
.....		
.....		
.....		
.....		
.....		
.....		
.....		
.....		
.....		
.....		
.....		
.....		
.....		
.....		
.....		
.....		
.....		
.....		
.....		
.....		
.....		
.....		
.....		
.....		
.....		
.....		
.....		
.....		
.....		
.....		
.....		
.....		
.....		
.....		
.....		
.....		
.....		
.....		
.....		
.....		
.....		
.....		
.....		
.....		
.....		
.....		
.....		
.....		
.....		
.....		
.....		
.....		
.....		
.....		
.....		
.....		
.....		
.....		
.....		
.....		
.....		
.....		
.....				

ورقة عمل رقم: 23 أسباب التملك

عزيزي الطالب:

بين يديك مجموعة أسباب للتملك؛ قم بتصنيفها وفق الجدول أدناه:

الرقم	السبب	الرقم	السبب
1	الميراث	6	الهدية
2	الوقف	7	الدية
3	الغصب	8	الوصية
4	الهبة	9	الصيد
5	المهر	10	حيازة مياه البحر

سبب مثبت للملك	سبب ناقل للملك	سبب خلافة الملك

ورقة عمل رقم: 24 أنواع الملكية

عزيزي الطالب:

بين يدبك مجموعة أنواع للملكية؛ قم بتصنيفها وفق الجدول أدناه:

الرقم	الملكية	الرقم	الملكية
1	الشفعة	7	حق التأليف
2	الهبة	8	الرهن
3	الوديعة	9	حق العلو
4	الإعارة	10	البيع
5	حق المسيل	11	الوقف
6	الإجارة	12	الحوالة

ملكية الأعيان	ملكية المنافع	ملكية الحقوق

ورقة عمل رقم: 25 المال والمتقوم

عزيزي الباحث:

برأيك أيهما أعم المال أم المتقوم، ولماذا؟

<p>.....</p> <p>.....</p> <p>.....</p> <p>.....</p> <p>.....</p> <p>.....</p> <p>.....</p> <p>.....</p> <p>.....</p> <p>.....</p> <p>.....</p> <p>.....</p> <p>.....</p> <p>.....</p> <p>.....</p> <p>.....</p> <p>.....</p> <p>.....</p> <p>.....</p> <p>.....</p>

ورقة عمل رقم: 26 المنفعة مال أم ملك

عزيزي الباحث:

برأيك هل المنفعة مال أم ملك، ولماذا؟

.....

.....

.....

.....

.....

.....

.....

.....

.....

.....

.....

.....

.....

.....

.....

.....

.....

.....

.....

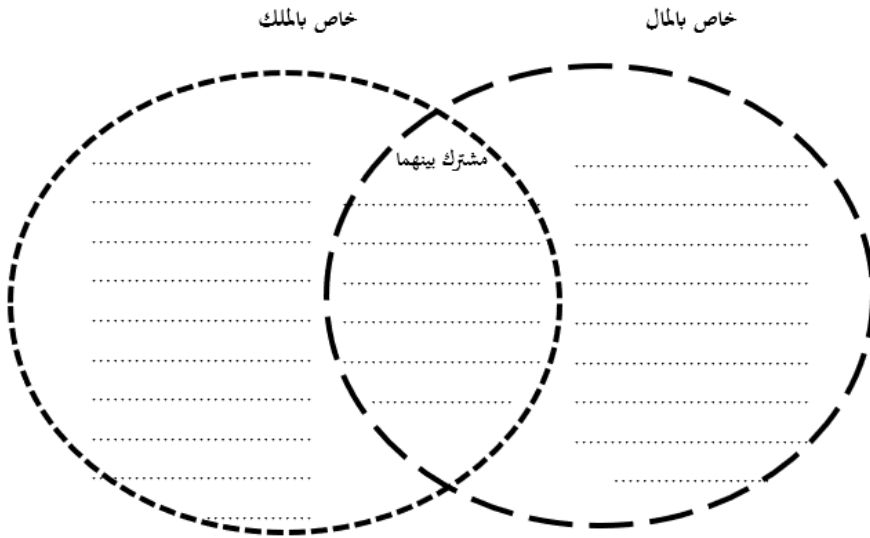
.....

.....

ورقة عمل رقم: 27 المقارنة الثنائية المفتوحة بين المال والملك

عزيزي الطالب:

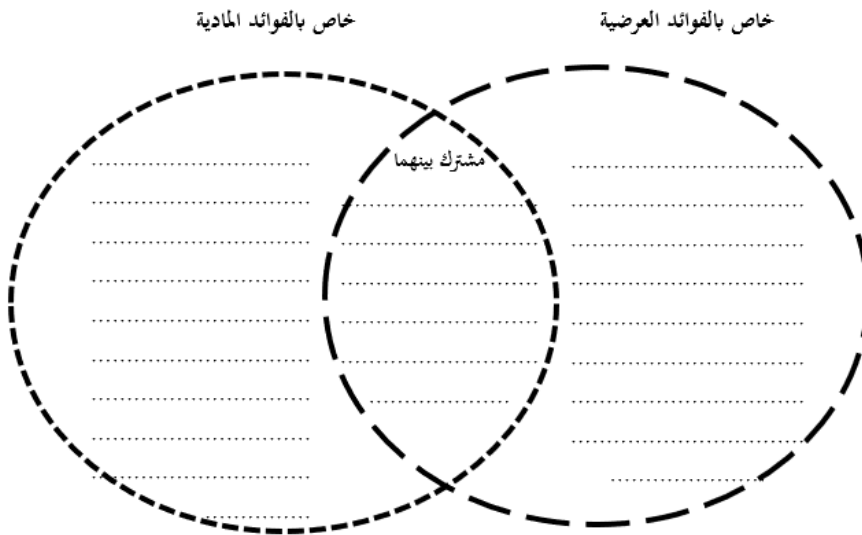
قارن بين المال والملك من خلال المخطط الآتي:



ورقة عمل رقم: 28 المقارنة الثنائية المفتوحة بين الفوائد العرضية والفوائد المادية

عزيزي الطالب:

قارن بين الفوائد العرضية والفوائد المادية من خلال المخطط الآتي:



ورقة عمل رقم: 29 المنافع وعلاقتها بالمال

عزيزي الباحث:

اختلف الفقهاء في مسألة: هل تعدُّ جزءاً من المال أم لا؟

برأيك: ما الآثار العملية المترتبة على هذا الاختلاف؟

.....

.....

.....

.....

.....

.....

.....

.....

.....

.....

.....

.....

.....

.....

.....

.....

.....

.....

.....

.....

.....

.....

ورقة عمل رقم: 30 الحق وعلاقته بالمال

عزیزى الباحت:

اختلف الفقهاء في مسألة هل تعدُّ الحقوق أموالاً أم لا؟

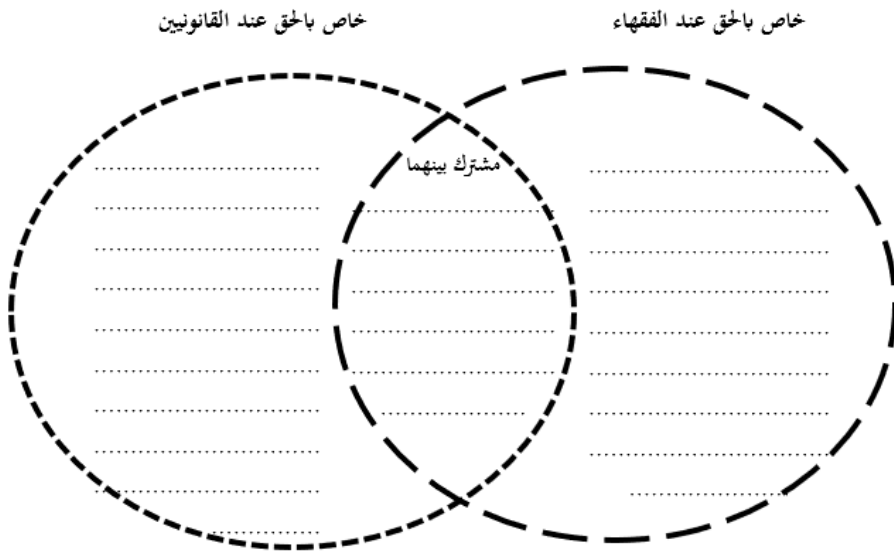
برأيك: ما الآثار العملية المترتبة على هذا الاختلاف؟

This image shows a full page of white paper with horizontal dotted lines, typical of primary-ruled notebook paper. The lines are evenly spaced and run across the width of the page. There are no margins, text, or other markings on the paper.

ورقة عمل رقم: 31 المقارنة الثنائية المفتوحة بين الحق عند الفقهاء والحق عند القانونيين

عزيزي الطالب:

قارن بين الحق عند الفقهاء والحق عند القانونيين من خلال المخطط الآتي:



ورقة عمل رقم: 32 نظرة الإسلام إلى المال

عزيزي الطالب:

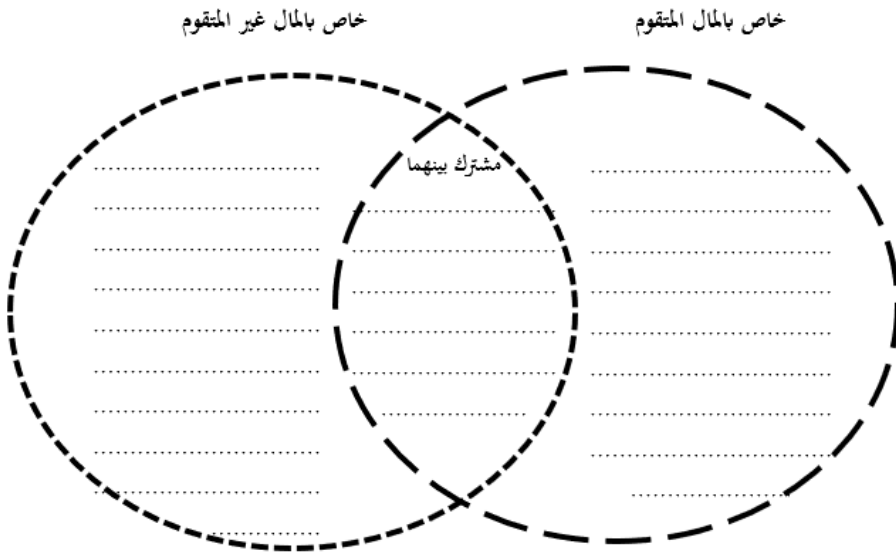
استخرج آية أو حديث يبين نظرة الإسلام للمال في ضوء المخطط الآتي:

حديث	آية	
		مراعاة الإسلام لغريزة حب المال
		المال قوام الحياة وزينتها
		المال وسيلة لا غاية
		جمع المال مسؤولية لا سلطة

ورقة عمل رقم: 33 المقارنة الثنائية المفتوحة بين المال المتقوم والمال غير المتقوم

عزيزي الطالب:

قارن بين المال المتقوم والمال غير المتقوم من خلال المخطط الآتي:



ورقة عمل رقم: 34 أنواع المال

عزيزي الباحث:

يمكن القول بأن "أرز تايجر، متوسط الحبة، 3.5 كغم" يعدّ مثلاً لـ:
1. المال المتقوم. 2. المال المثلي. 3. المال المقدر. 4. المال الاستهلاكي.
وضّح ذلك.

.....

.....

.....

.....

.....

.....

.....

.....

.....

.....

.....

.....

.....

.....

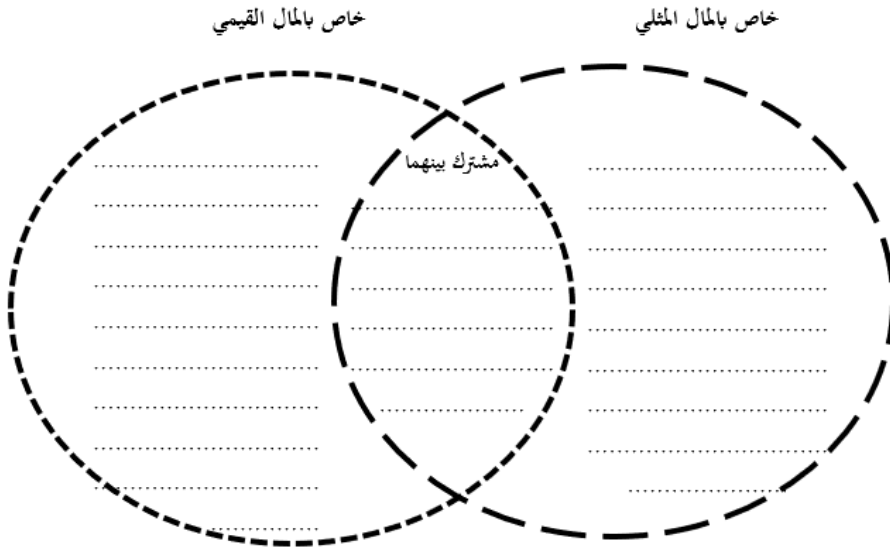
.....

.....

ورقة عمل رقم: 35 المقارنة الثنائية المفتوحة بين المال المثلي والمال القيمي

عزيزي الطالب:

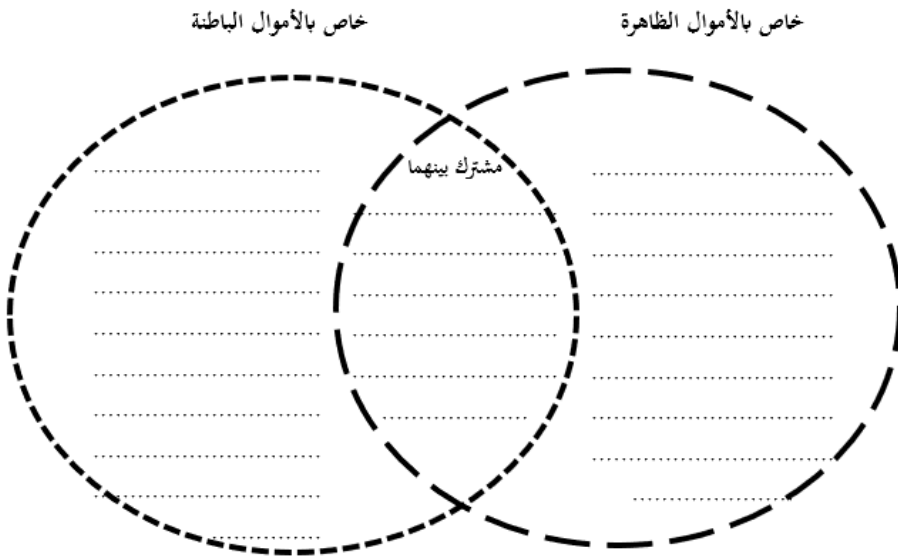
قارن بين المال المثلي والمال القيمي من خلال المخطط الآتي:



ورقة عمل رقم: 36 المقارنة الثنائية المفتوحة بين الأموال الظاهرة والأموال الباطنة

عزيزي الطالب:

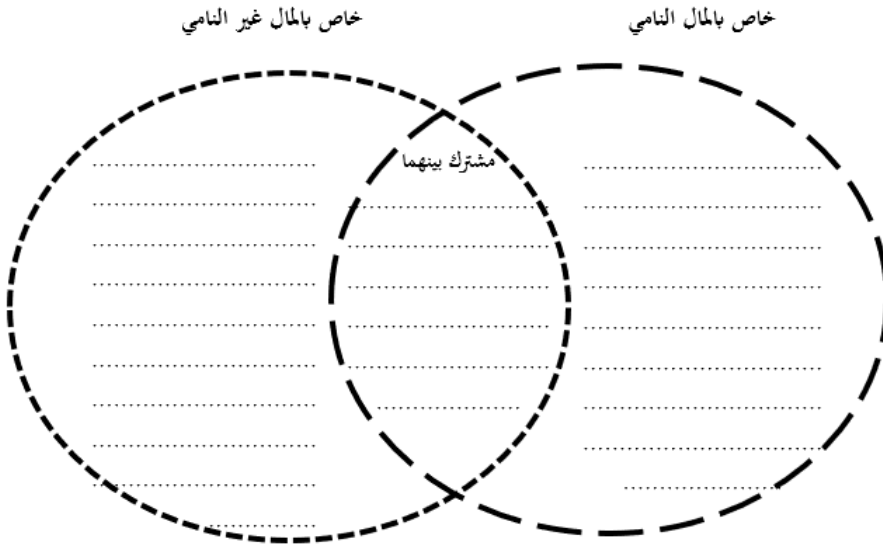
قارن بين الأموال الظاهرة والأموال الباطنة من خلال المخطط الآتي:



ورقة عمل رقم: 37 المقارنة الثنائية المفتوحة بين المال النامي والمال غير النامي

عزيزي الطالب:

قارن بين المال النامي والمال غير النامي من خلال المخطط الآتي:

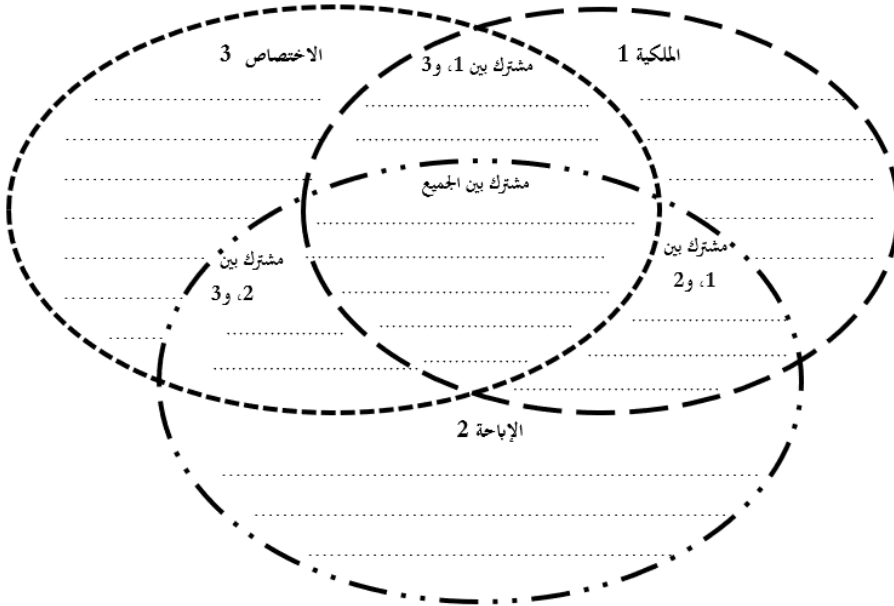


ثالثاً: أوراق عمل الملكية

ورقة عمل رقم: 38 المقارنة الثلاثية المفتوحة بين الملكية والإباحة والاختصاص

عزيزي الطالب:

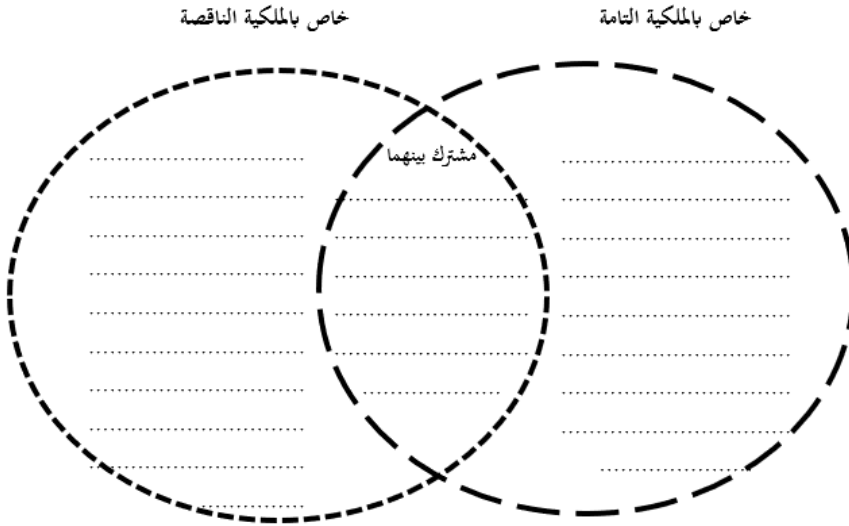
قارن بين الملكية والإباحة والاختصاص من خلال المخطط الآتي:



ورقة عمل رقم: 39 المقارنة الثنائية المفتوحة بين الملكية التامة والملكية الناقصة

عزيزي الطالب:

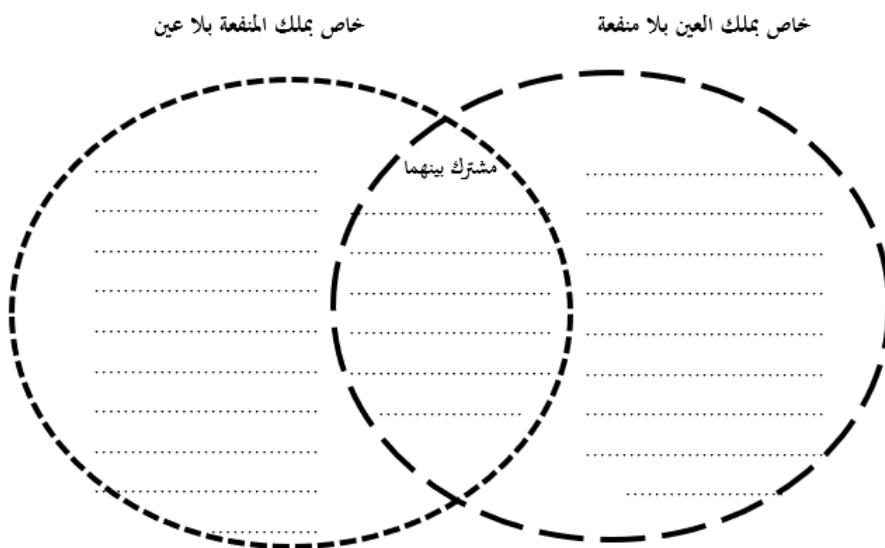
قارن بين الملكية التامة والملكية الناقصة من خلال المخطط الآتي:



ورقة عمل رقم: 40 المقارنة الثنائية المفتوحة بين ملك العين بلا منفعة وملك المنفعة بلا عين

عزيزي الطالب:

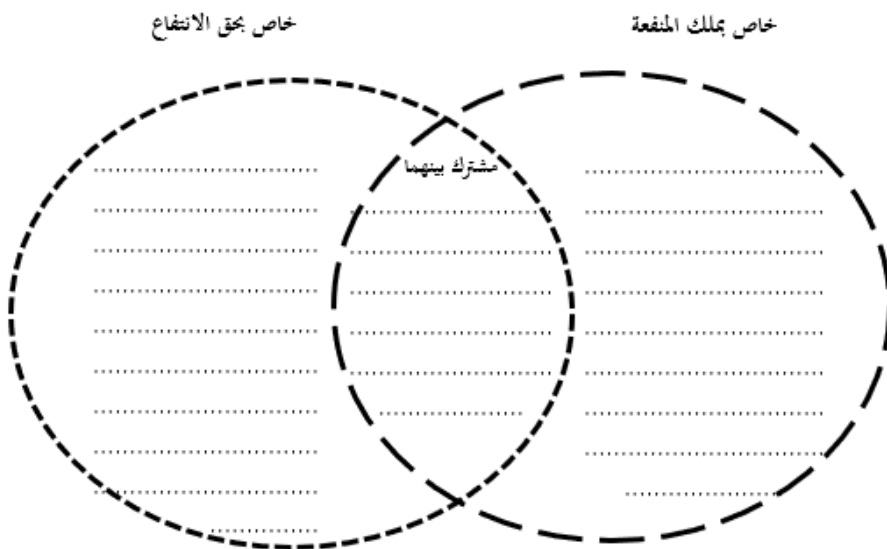
قارن بين ملك العين بلا منفعة وملك المنفعة بلا عين من خلال المخطط الآتي:



ورقة عمل رقم: 41 المقارنة الثنائية المفتوحة بين ملك المنفعة وحق الانتفاع

عزيزي الطالب:

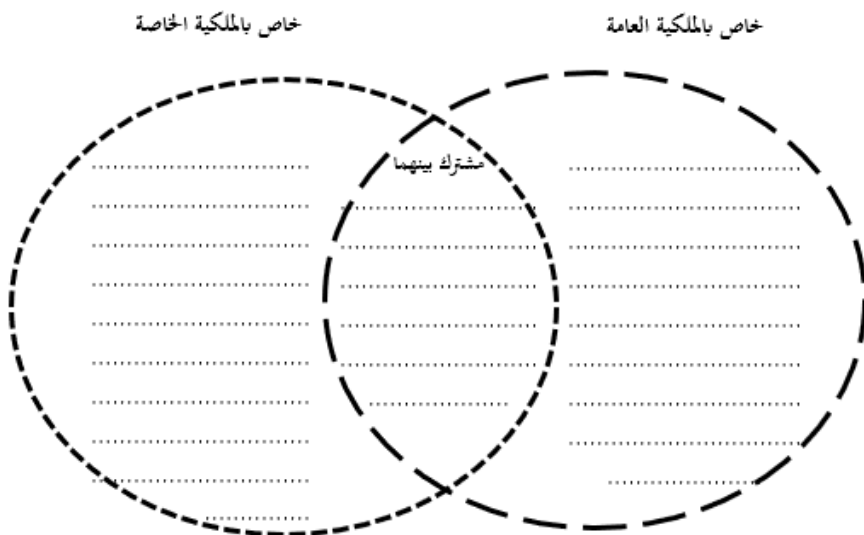
قارن بين ملك المنفعة وحق الانتفاع من خلال المخطط الآتي:



ورقة عمل رقم: 42 المقارنة الثنائية المفتوحة بين الملكية العامة والملكية الخاصة

عزيزي الطالب:

قارن الملكية العامة والملكية الخاصة من خلال المخطط الآتي:



ورقة عمل رقم: 45 القيود الملازمة للانتفاع بالملكية

عزيزي الطالب:

في ضوء دراستك للقيود الملازمة للانتفاع بالملكية هات آية أو حديث لكل قيد من القيود الآتية:

القيود	آية	حديث
إحسان الانتفاع بالمال والتصرف فيه		
عدم الإضرار بالأفراد		
عدم الإضرار بالمجتمع		

ورقة عمل رقم: 46 قابلية المال للتملك

عزيزي الباحث:

بين يديك مجموعة من أصناف الأموال؛ قم بتصنيفها وفق الجدول أدناه:

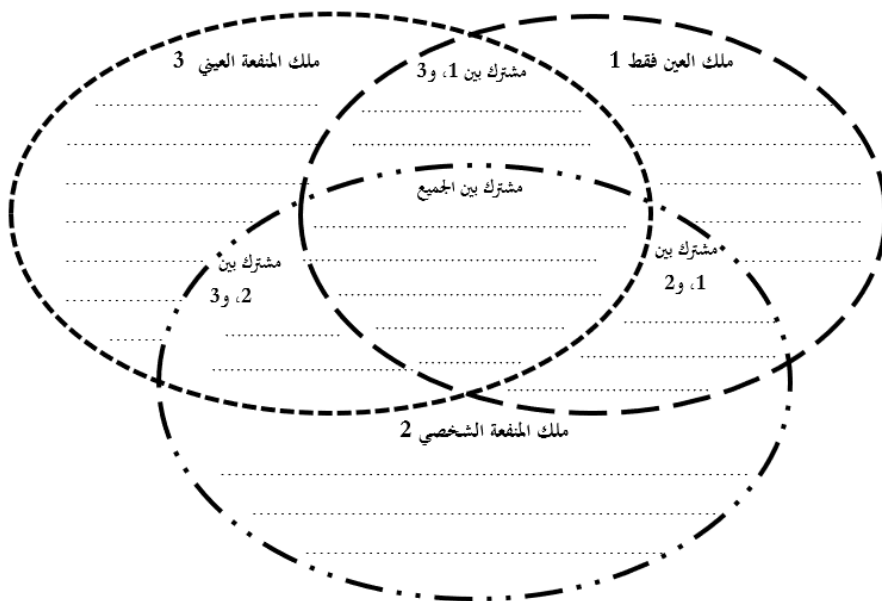
الرقم	الصنف	الرقم	الصنف
1	الأموال الموقوفة	9	الأنهار
2	الطرق العامة	10	الحاسوب المحمول
3	المركبات الخاصة	11	المتاحف
4	الجسور	12	"ميموري كارد"
5	البيوت	13	المكتبات العامة
6	الحصون	14	الأملاك الحكومية
7	الهاتف الجوال	15	الحدائق العامة
8	السكك الحديدية	16	الكتب

ما لا يقبل التملك ولا التملك	ما لا يقبل التملك إلا بمسوغ شرعي	ما يجوز تملكه وتملكه مطلقاً بدون قيد

ورقة عمل رقم: 47 المقارنة الثلاثية المفتوحة بين ملك العين فقط، وملك المنفعة الشخصي، وملك المنفعة العيني

عزيزي الباحث:

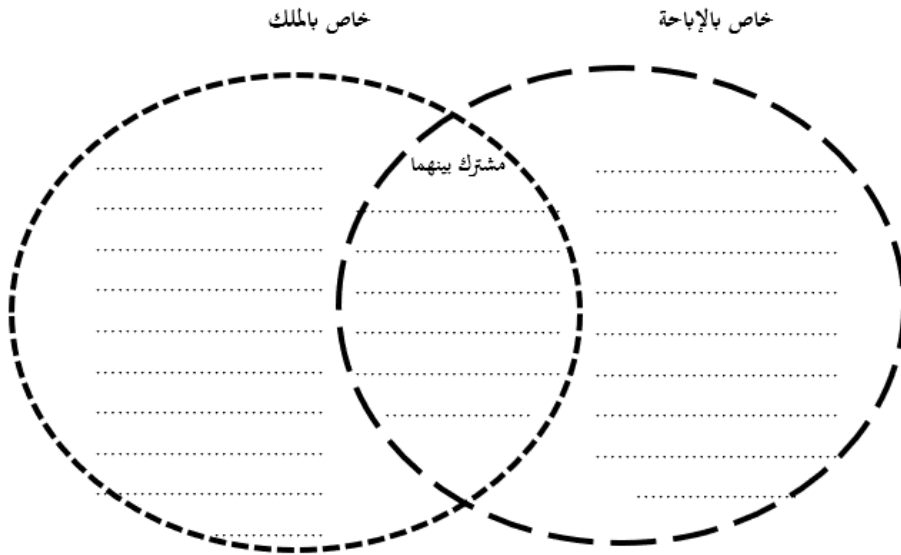
قارن بين ملك العين فقط، وملك المنفعة الشخصي، وملك المنفعة العيني من خلال المخطط الآتي:



ورقة عمل رقم: 48 المقارنة الثنائية المفتوحة بين الإباحة والملك

عزيزي الباحث:

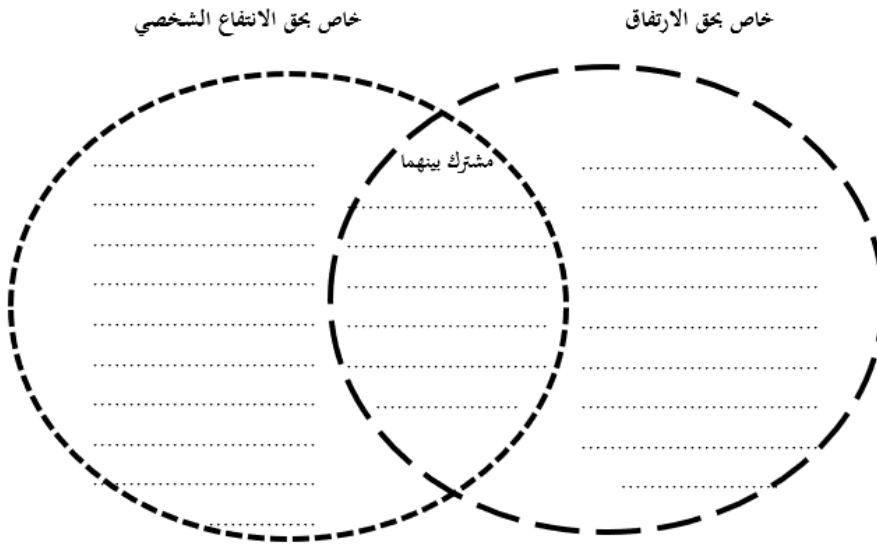
قارن بين الإباحة والملك من خلال المخطط الآتي:



ورقة عمل رقم: 49 المقارنة الثنائية المفتوحة بين حق الارتفاق وحق الانتفاع الشخصي

عزيزي الباحث:

قارن بين حق الارتفاق وحق الانتفاع الشخصي من خلال المخطط الآتي:



ورقة عمل رقم: 50 من أسباب التملك: الاصطياد

عزيزي الباحث:

إنَّ الصيد حلال للإنسان إلا إذا كان مُحَرَّمًا بالحج أو العمرة.

ما تعليلك لتحريم الصيد بحق المحرم بالحج أو العمرة؟

.....

.....

.....

.....

.....

.....

.....

.....

.....

.....

.....

.....

.....

.....

.....

.....

.....

.....

.....

.....

.....

.....

ورقة عمل رقم: 51 حكم الاستملاك الجبري للأرض

عزيري الباحث:

نصت المادة رقم 1216 من مجلة الأحكام العدلية على أنه: "يُؤْخَذُ لَدَى الْحَاجَةِ مِلْكُ
أَيِّ أَحَدٍ بِقِيَمَتِهِ بِأَمْرِ السُّلْطَانِ وَيُلْحَقُ بِالطَّرِيقِ، وَلَكِنْ لَا يُؤْخَذُ مِلْكُهُ مِنْ يَدِهِ مَا لَمْ يُؤَدَّ
لَهُ الثَّمَنُ."

كيف توفق بين ما أجازته هذه المادة من استملاك أرض أو بيت جبراً عن صاحبه،
وقول النبي صلى الله عليه وسلم: "لَا يَحِلُّ مَالُ امْرِئٍ مُسْلِمٍ إِلَّا بِطَيْبِ نَفْسٍ مِنْهُ."؟

.....

.....

.....

.....

.....

.....

.....

.....

.....

.....

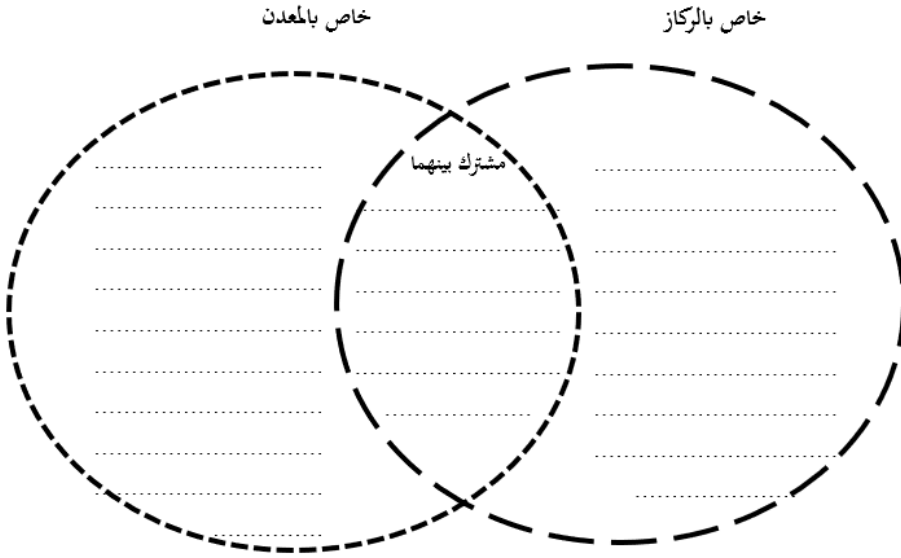
.....

.....

ورقة عمل رقم: 52 المقارنة الثنائية المفتوحة بين الركاز والمعدن

عزيزي الباحث:

قارن بين الركاز والمعدن من خلال المخطط الآتي:



ورقة عمل رقم: 53 حكم المعادن الموجودة في الأرض المملوكة

عزيزي الباحث:

اشترى رجل قطعة أرض كبيرة جداً، ثم اكتشف وجود معدن النحاس بكميات كبيرة في هذه الأرض.

برأيك: لمن تعود ملكية هذا المعدن لصاحب الأرض أم الدولة، ولماذا؟

.....

.....

.....

.....

.....

.....

.....

.....

.....

.....

.....

.....

.....

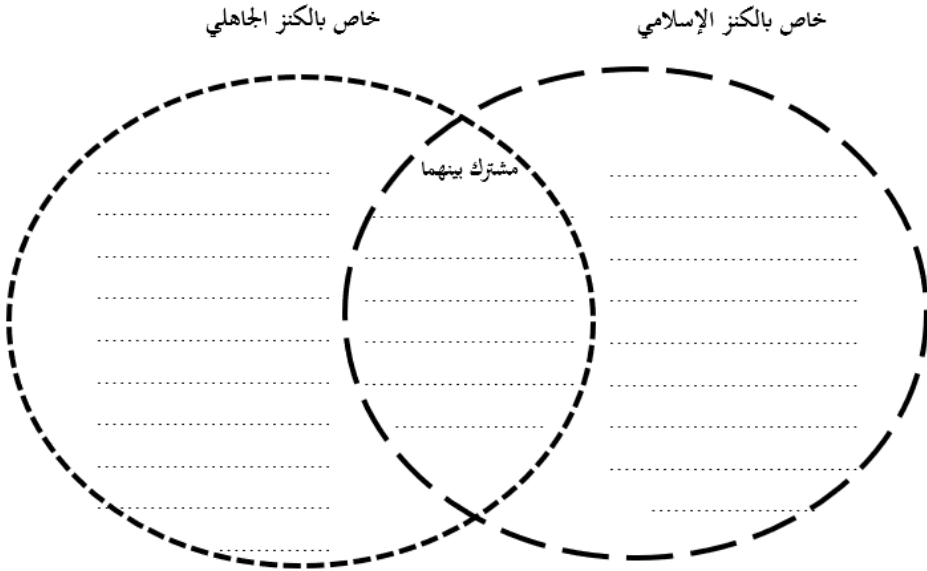
.....

.....

ورقة عمل رقم: 54 المقارنة الثنائية المفتوحة بين الكنز الإسلامي والكنز الجاهلي

عزيزي الباحث:

قارن بين الكنز الإسلامي والكنز الجاهلي من خلال المخطط الآتي:



ورقة عمل رقم: 55 النقود العثمانية

عزيزي الباحث:

أحد المسلمين اشترى قطعة أرض وبدأ بحفر الأساسات لبناء بيته؛ فظهر له "جرة" فيها دنانير ذهبية تعود إلى الدولة العثمانية.

ما الواجب عليه شرعاً تجاه هذه الدنانير، ولماذا؟

.....

.....

.....

.....

.....

.....

.....

.....

.....

.....

.....

.....

.....

.....

.....

ورقة عمل رقم: 56 المقارنة الرباعية المفتوحة بين العقد والتصرف والالتزام والوعد

قارن بين العقد والتصرف والالتزام والوعد من خلال المخطط الآتي:

<p>العقد، خاص بـ: 1</p> <p>المشترك بين 1، و 4</p> <p>الوعد، خاص بـ: 4</p>	
<p>المشترك بين 1، و 2</p> <p>المشترك بين 1، و 3</p> <p>المشترك بين 1، و 4</p>	<p>المشترك بين 2، و 3</p> <p>المشترك بين 2، و 4</p> <p>المشترك بين 3، و 4</p>
<p>التصرف، خاص بـ: 2</p> <p>المشترك بين 2، و 3</p> <p>المشترك بين 2، و 4</p>	<p>الانقراض، خاص بـ: 3</p> <p>المشترك بين 3، و 4</p>

ورقة عمل رقم: 57 نظرة الإسلام إلى العقود

عزيزي الطالب:

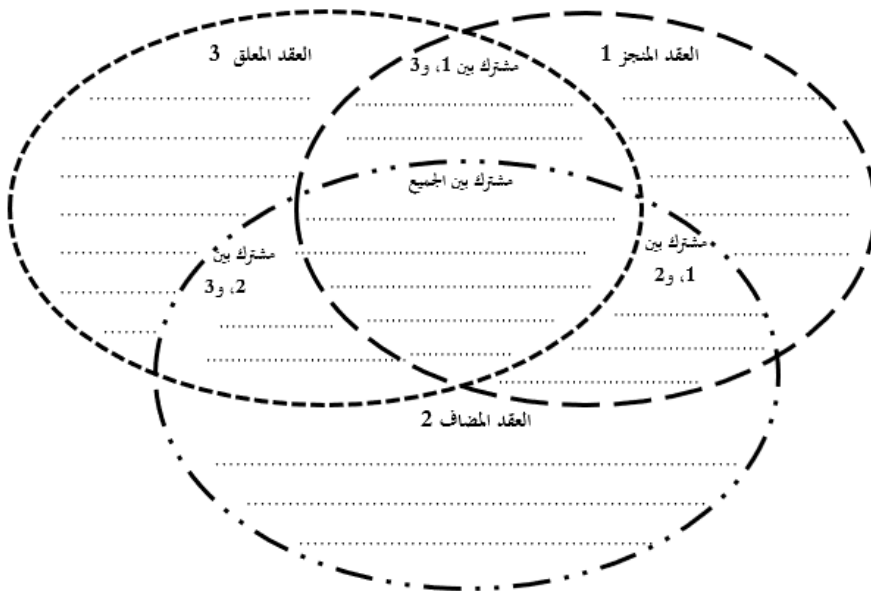
في ضوء دراستك لنظرة الإسلام إلى العقود؛ هات آية أو حديث لكل من الآتي:

حديث	آية	
		شرعت العقود لسد حاجات الناس
		أقام الإسلام العقود على الرضا وطيب النفس
		أقام الإسلام العقود على حرية التعاقد
		بنى الإسلام العقود على المقاصد والنيات
		دعا الإسلام إلى احترام العقود والوفاء

ورقة عمل رقم: 58 المقارنة الثلاثية المفتوحة بين العقد المنجر والعقد المضاف والعقد المعلق

عزيزي الطالب:

قارن بين العقد المنجر والعقد المضاف والعقد المعلق من خلال المخطط الآتي:



ورقة عمل رقم: 59 الإيجاب والقبول بإشارات / رموز "الإيموجي"

عزيزي الباحث:

من خلال التواصل عبر الواتس أب، اتفق (س) مع محل لبيع العباءات النسائية على شراء عباءة معينة وبعد أن قام صاحب المحل بشرح كافة التفاصيل من حيث اللون والمقاس واللون والسعر، أرسل (س) إشارة "إيموجي" 🙏 التي تعني الموافقة. هل تم العقد بذلك، ولماذا؟

.....

.....

.....

.....

.....

.....

.....

.....

.....

.....

.....

.....

.....

.....

.....

ورقة عمل رقم: 60 العلاقة بين العقد والالتزام

عزيزي الباحث:

ما العلاقة بين العقد والالتزام؟

.....

.....

.....

.....

.....

.....

.....

.....

.....

.....

.....

.....

.....

.....

.....

.....

.....

.....

.....

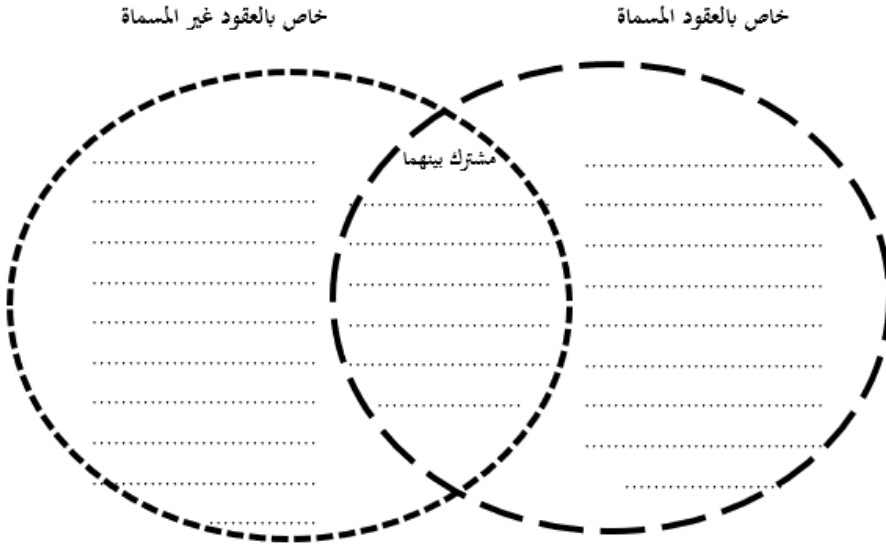
.....

.....

ورقة عمل رقم: 61 المقارنة الثنائية المفتوحة بين العقود المسماة والعقود غير المسماة

عزيزي الطالب:

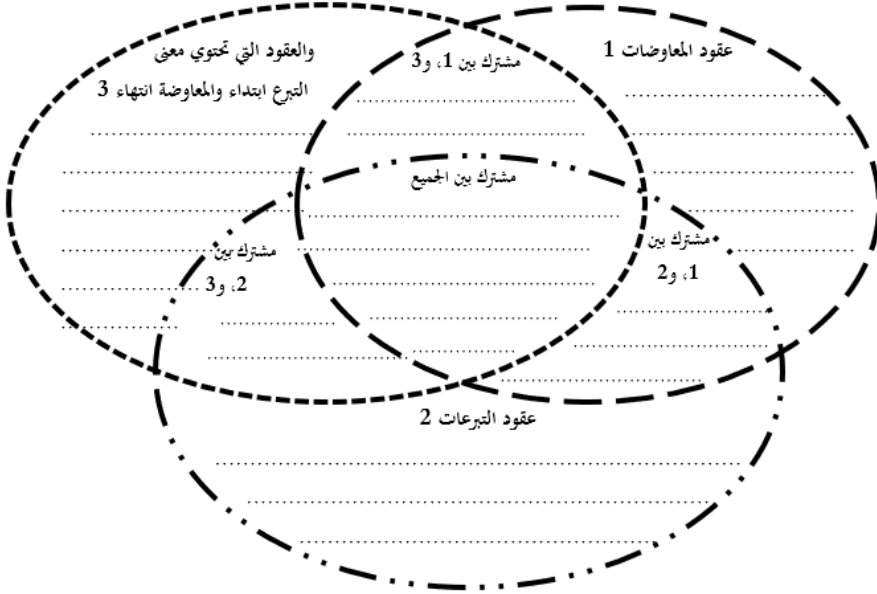
قارن بين العقود المسماة والعقود غير المسماة من خلال المخطط الآتي:



ورقة عمل رقم: 62 المقارنة الثلاثية المفتوحة بين عقود المعاوضات وعقود التبرعات والعقود التي تحتوي معنى التبرع ابتداء والمعاوضة انتهاء

عزيزي الطالب:

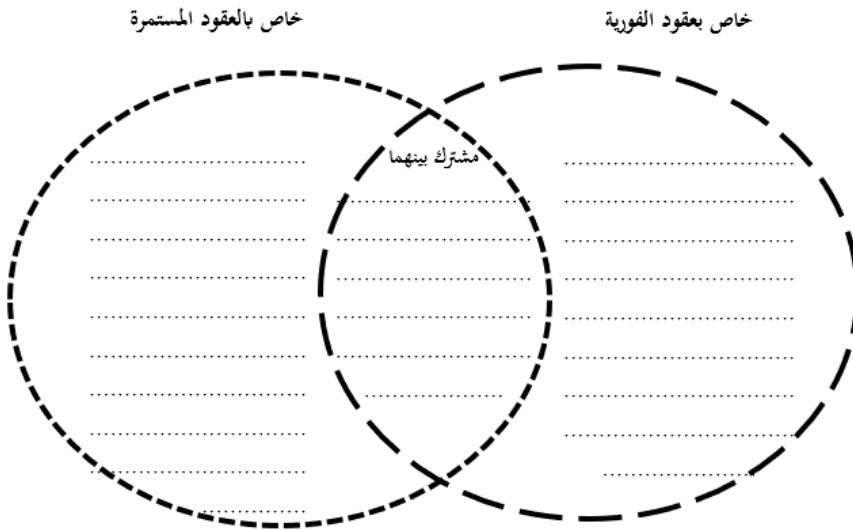
قارن بين عقود المعاوضات وعقود التبرعات والعقود التي تحتوي معنى التبرع ابتداء والمعاوضة انتهاء من خلال المخطط الآتي:



ورقة عمل رقم: 63 المقارنة الثنائية المفتوحة بين عقود الفورية والعقود المستمرة

عزيزي الطالب:

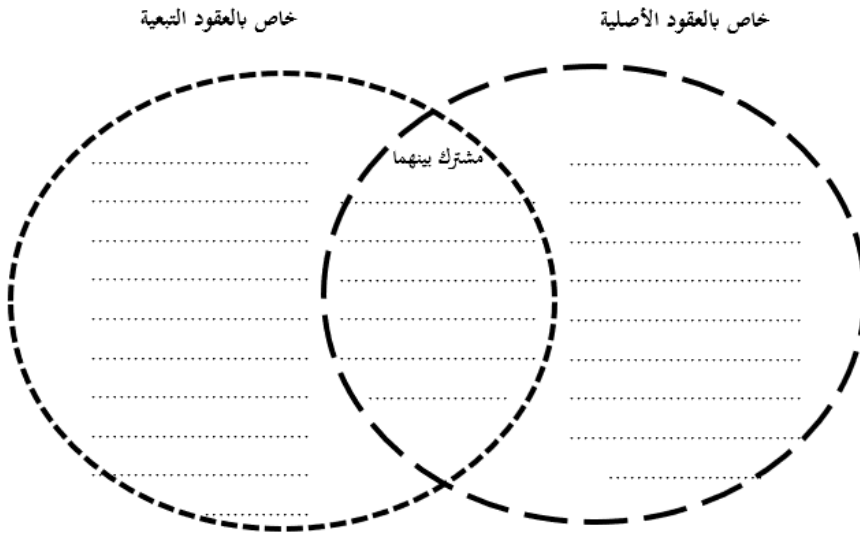
قارن بين عقود الفورية والعقود المستمرة من خلال المخطط الآتي:



ورقة عمل رقم: 64 المقارنة الثنائية المفتوحة بين العقود الأصلية والعقود التبعية

عزيزي الطالب:

قارن بين العقود الأصلية والعقود التبعية من خلال المخطط الآتي



مُشْرَكَ بَيْنَهُمَا

خاص بالعقود التبعية

ورقة عمل رقم: 65 تصنيف أنواع العقود

عزيزي الطالب:

صنّف العقود الآتية وفق الجدول أدناه:

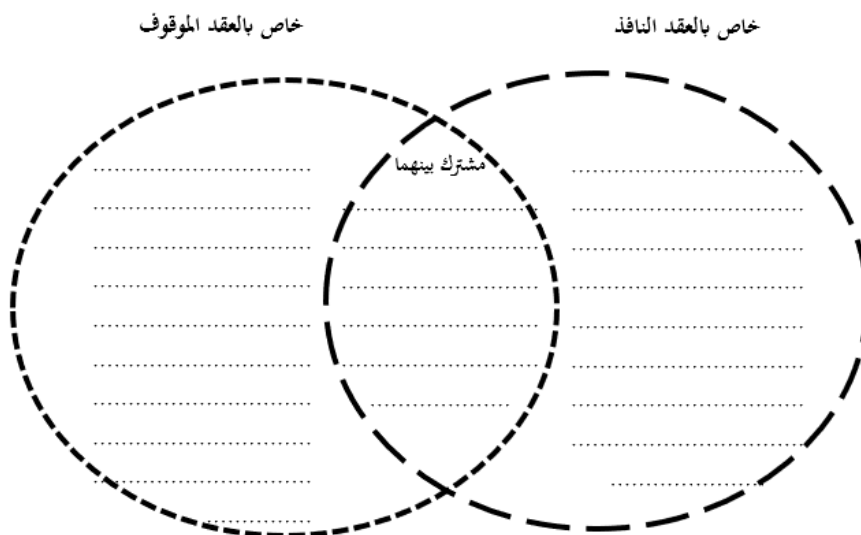
الرقم	العقد	الرقم	العقد	الرقم	العقد
1	القرض	8	الهبة	15	البيع
2	الكفالة	9	الحوالة	16	الوكالة
3	المضاربة	10	الوكالة	17	الرهن
4	المزارعة	11	المضاربة	18	الإجارة
5	المساقاة	12	الشركة	19	الوديعة
6	العارية	13	الوديعة	20	الصلح
7	الضمان	14	السلم	21	الهبة المعوضة

عقود لازمة من الجانبين	عقود غير لازمة من الجانبين	عقود لازمة لأحد العاقلين فقط

ورقة عمل رقم: 66 المقارنة الشائبة المفتوحة بين العقد النافذ والعقد الموقوف

عزيزي الطالب:

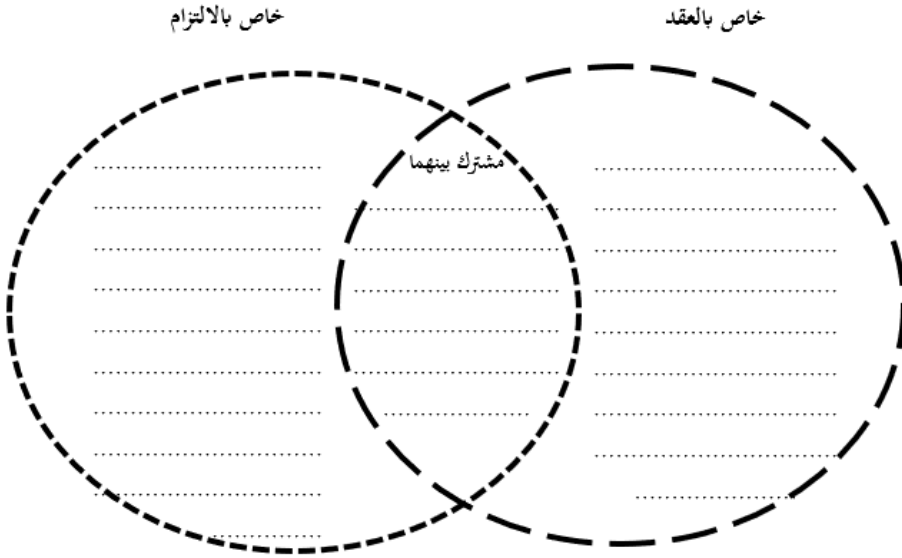
قارن بين العقد النافذ والعقد الموقوف من خلال المخطط الآتي



ورقة عمل رقم: 67 المقارنة الثنائية المفتوحة بين العقد والالتزام

عزيزي الطالب:

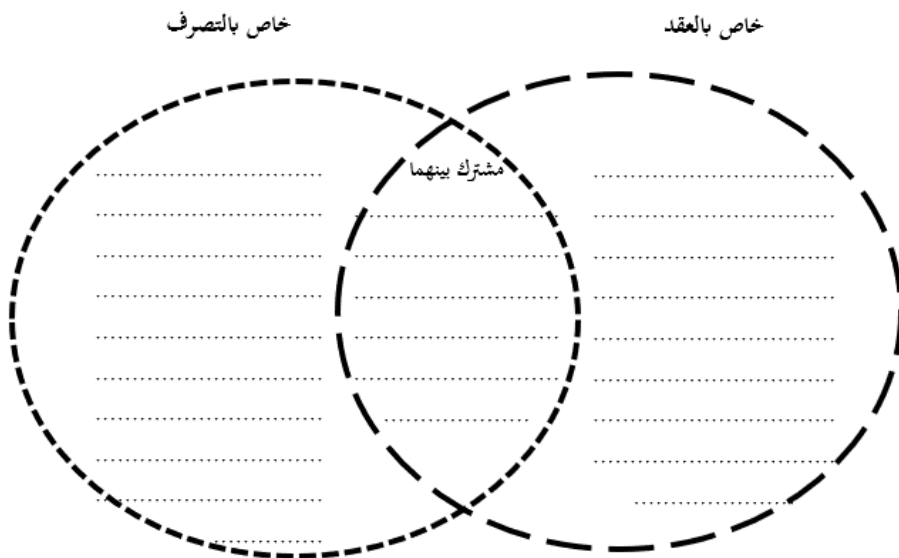
قارن بين العقد والالتزام من خلال المخطط الآتي:



ورقة عمل رقم: 68 المقارنة الشائبة المفتوحة بين العقد والتصرف

عزيزي الطالب:

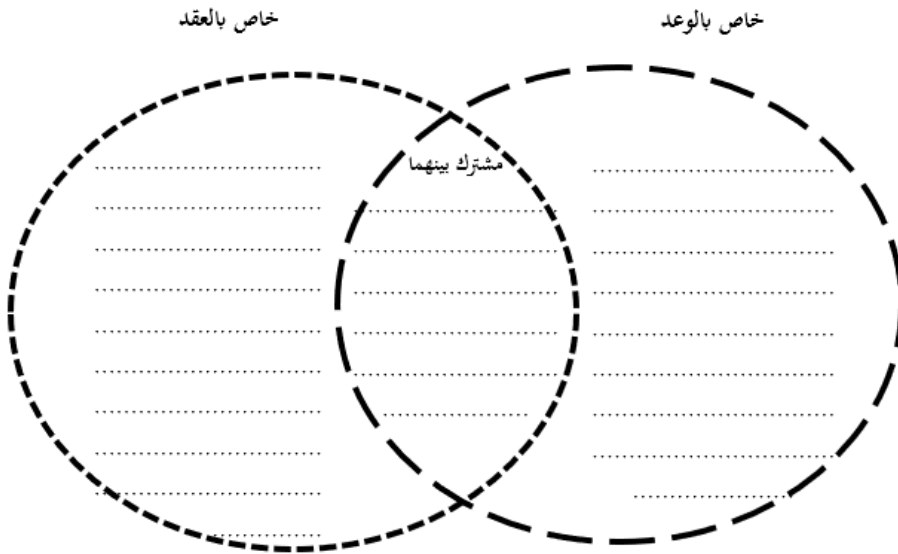
قارن بين العقد والتصرف من خلال المخطط الآتي:



ورقة عمل رقم: 69 المقارنة الشئائية المفتوحة بين العقد والوعد

عزيزي الطالب:

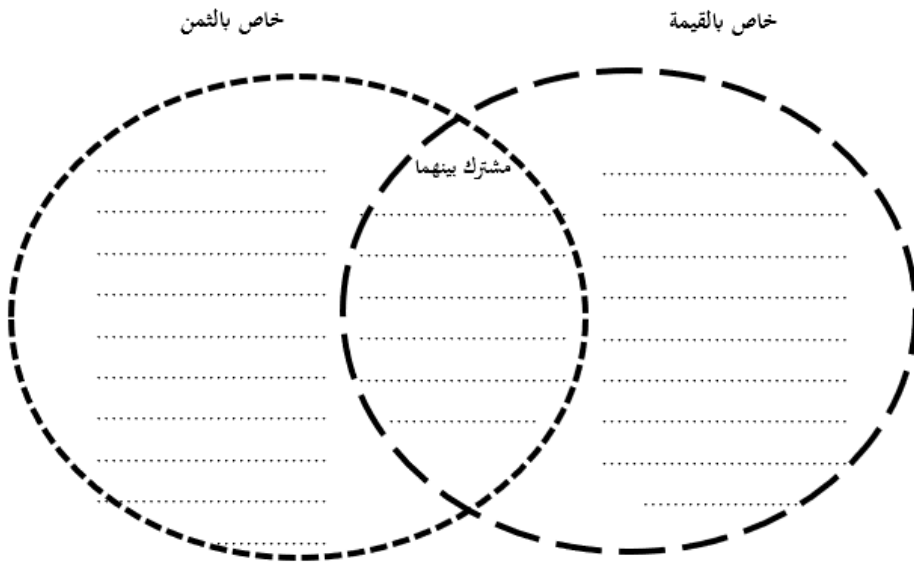
قارن بين العقد والوعد من خلال المخطط الآتي:



رقة عمل رقم: 70 المقارنة الثنائية المفتوحة بين القيمة والثن

عزيزي الطالب:

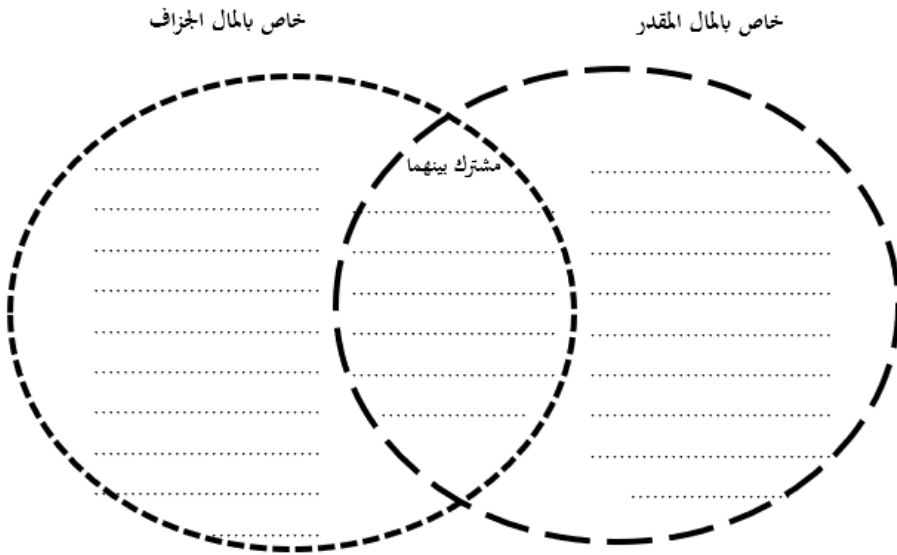
قارن بين القيمة والثن من خلال المخطط الآتي:



ورقة عمل رقم: 71 المقارنة الثنائية المفتوحة بين المال المقدر والمال الجراف

عزيزي الطالب:

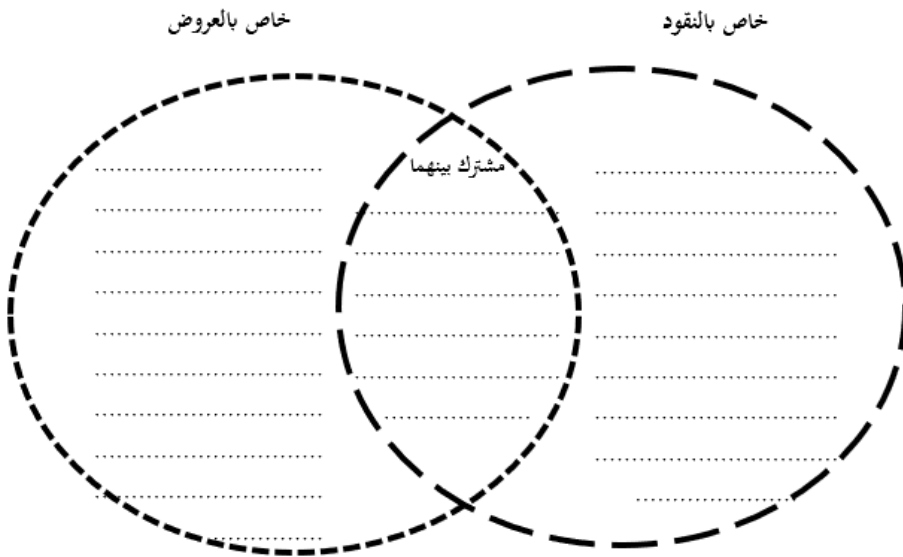
قارن بين المال المقدر والمال الجراف من خلال المخطط الآتي:



ورقة عمل رقم: 72 المقارنة الثنائية المفتوحة بين النقود والعروض

عزيزي الطالب:

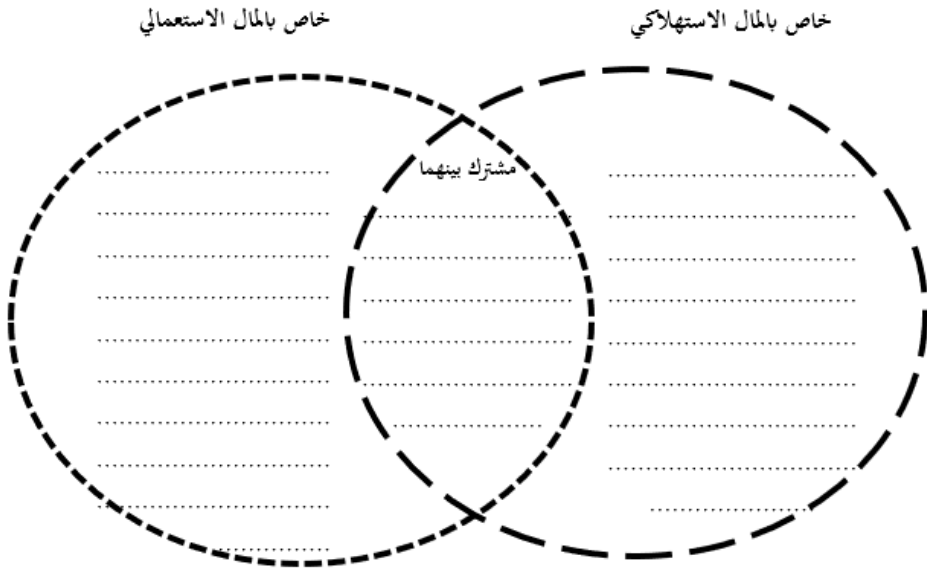
قارن بين النقود والعروض من خلال المخطط الآتي:



ورقة عمل رقم: 73 المقارنة الثنائية المفتوحة بين المال الاستهلاكي والمال الاستعمالي

عزيزي الطالب:

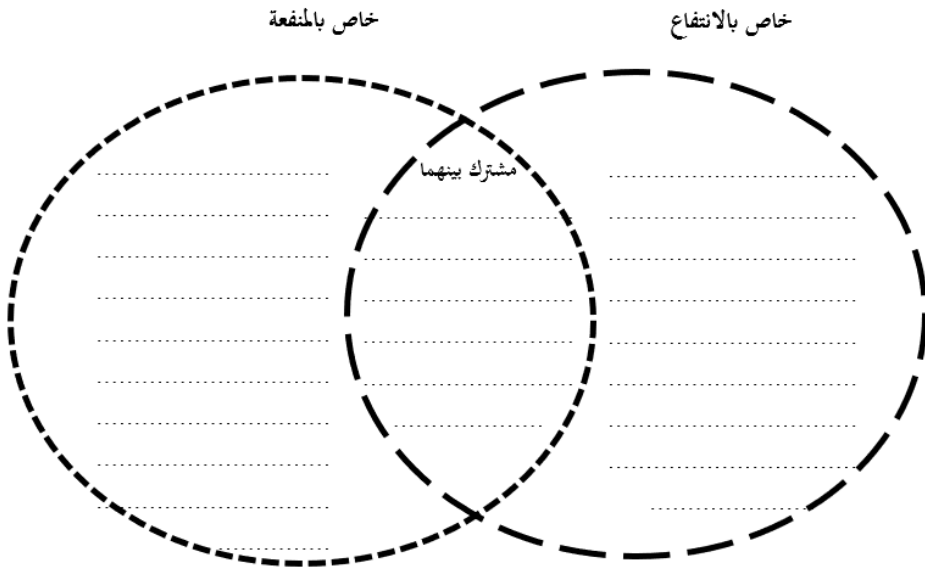
قارن بين المال الاستهلاكي والمال الاستعمالي من خلال المخطط الآتي:



ورقة عمل رقم: 74 المقارنة الثنائية المفتوحة بين الانتفاع والمنفعة

عزيزي الطالب:

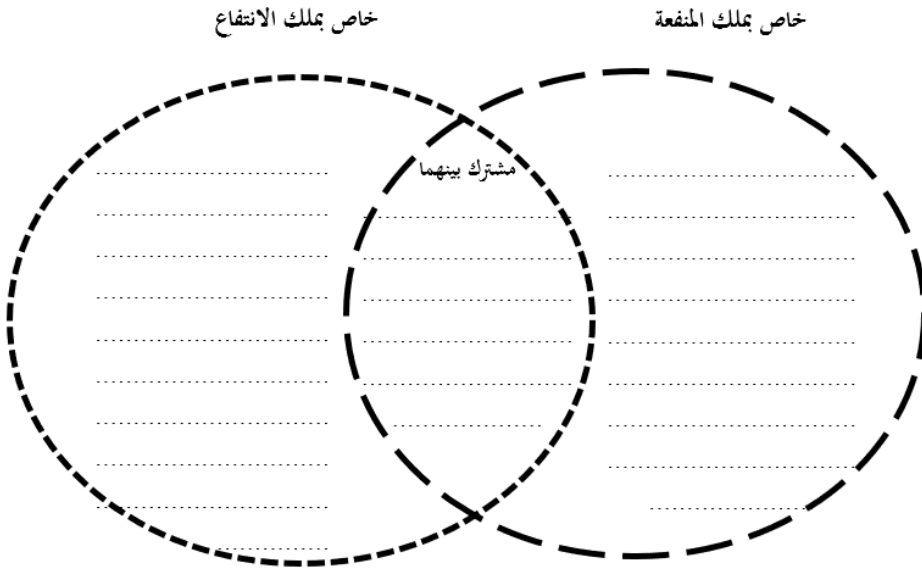
قارن بين الانتفاع والمنفعة من خلال المخطط الآتي:



ورقة عمل رقم: 75 المقارنة الثنائية المفتوحة بين ملك الانتفاع وملك المنفعة

عزيزي الطالب:

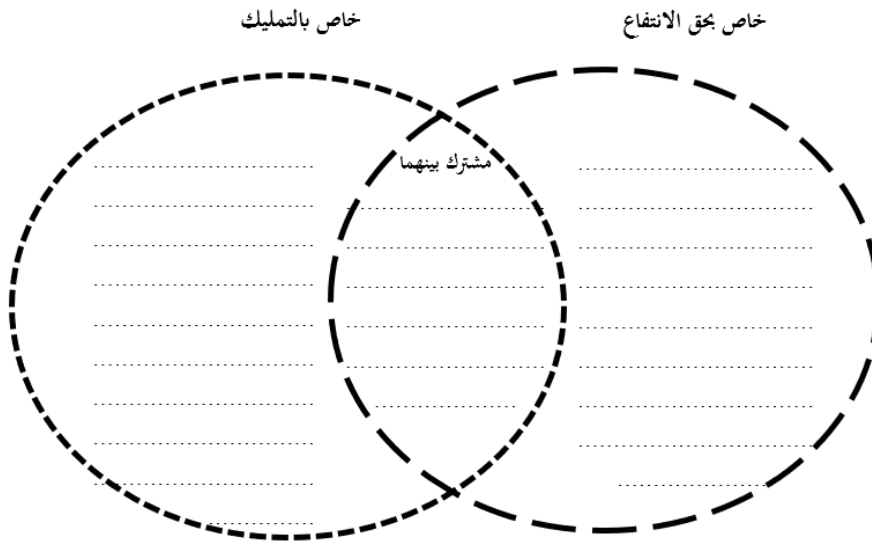
قارن بين ملك الانتفاع وملك المنفعة من خلال المخطط الآتي:



ورقة عمل رقم: 76 المقارنة الثنائية المفتوحة بين حق الانتفاع والتمليك

عزيزي الطالب:

قارن بين حق الانتفاع والتمليك من خلال المخطط الآتي:



خامساً: أوراق عمل البيع

ورقة عمل رقم: 77 تعريف البيع

عزيزي الباحث:

اختلف الفقهاء في تعريف البيع.

أي تعريف تختاره، ولماذا؟

وما الآثار العملية المترتبة على اختلاف الفقهاء في تعريف البيع؟

.....

.....

.....

.....

.....

.....

.....

.....

.....

.....

.....

.....

.....

.....

.....

ورقة عمل رقم: 78 أركان العقد

عزيزي الباحث:

اختلف الحنفية والجمهور في تعريف الإيجاب. برأيك ما الآثار العملية المترتبة على هذا الاختلاف؟

[illegible]

ورقة عمل رقم: 79 أركان البيع

عزیزی الباحث:

أركان البيع عند الجمهور ثلاثة الصيغة والعقيد انو المعقود عليه أما الحنفية فعندهم ركن البيع والإيجاب والقبول نقطة ما الآثار العملية المترتبة على هذا الاختلاف؟

[illegible]

ورقة عمل رقم: 80 تعريف الإيجاب

عزيزي الباحث:

اختلف الحنفية مع الجمهور في تعريف الإيجاب.

ما الآثار العملية المترتبة على هذا الاختلاف؟

This image shows a full page of white paper with horizontal dashed lines, typical of primary school writing paper. The lines are evenly spaced and run across the width of the page. There are no margins, text, or other markings on the paper.

ورقة عمل رقم: 81 المقارنة الرباعية المفتوحة بين شروط الانعقاد، والنفاذ، والصحة،
واللزوم

عزيزي الباحث:

قارن بين شروط الانعقاد، وشروط النفاذ، وشروط الصحة، وشروط اللزوم من خلال المخطط الآتي:

شروط الصحة، خاص بـ: 4		المشترك بين 1، و4		شروط الاعتقاد، خاص بـ: 1	
.....	
المشترك بين 3، و4		المشترك بين 2، و4		المشترك بين 1، و3	
.....	
شروط الصحة، خاص بـ: 3		المشترك بين 2، و3		شروط النفاذ، خاص بـ: 2	
.....	

ورقة عمل رقم: 82 تصنيف شروط عقد البيع عند الحنفية

عزيزي الباحث:

في ضوء دراستك لشروط عقد البيع عند الحنفية؛ قم بتصنيف الشروط الآتية -وفق الجدول أدناه-

الرقم	الشرط	الرقم	الشرط
1	اتحاد مجلس العقد	12	أن يكون المبيع متقوماً
2	سماع الصيغة	13	أن يكون الثمن الأول معلوماً في بيوع الأمانة
3	توافق الإيجاب والقبول	14	التقابض والتساوي في البدلين المتحدي الجنس
4	أن يكون المبيع معلوماً والثمن معلوماً	15	توافر شروط السلم الخاصة به
5	ألا يكون البيع مؤقتاً	16	أن يكون المبيع مملوكاً للبائع أو له عليه ولاية
6	خلو البيع من الخيار	17	أن يكون المبيع مقدور التسليم حين العقد
7	أن يكون العاقد متعدداً	18	أن يكون مالاً متقوماً قائماً
8	أن يكون للبيع فائدة	19	أن يكون المبيع مالاً
9	أن يكون المعقود عليه موجوداً حين التعاقد	20	أن يكون العاقد عاقلاً أو مميزاً
10	أن يخلو عن العقد الشرط المفسد	21	ألا يكون في المبيع حق لغير البائع

11	القبض في بيع المنقول والعقار	22	ألا يكون أحد البديلين دَيْنًا في بيع الدين إلى غير المدين
----	------------------------------	----	---

شروط الانعقاد			
شروط التعاقد	شروط الصيغة	شروط المعقود عليه	شرط البذل
شروط الصحة			
الشروط العامة		الشروط الخاصة	
شروط النفاذ			
شروط اللزوم			

ورقة عمل رقم: 83 تصنيف شروط عقد البيع عند الملكية

عزيزي الباحث:

في ضوء دراستك لشروط عقد البيع عند الملكية؛ قم بتصنيف الشروط الآتية -وفق الجدول أدناه-

الرقم	الشروط
1	أن يكون المثلثن مقدوراً على تسليمه
2	أن يتحد المجلس
3	أن يكون كل من البائع والمشتري مميزاً
4	ألا يفصل بين الإيجاب والقبول فاصل يدل على الإعراض عن البيع عرفاً
5	أن يكون المثلثن معلوماً للعاقدين: فلا يجوز بيع المجهول.
6	أن يكون كل من البائع والمشتري مالكين، أو وكيلين لمالكين، أو ناظرين عليهما
7	أن كل من البائع والمشتري طائعين
8	أن يكون الثمن والمثلثن غير منهي عنهما شرعاً
9	أن يكون المثلثن طاهراً
10	أن يكون البائع رشيداً
11	أن يكون المثلثن منتفعاً به شرعاً

شروط التعاقد	شروط الصيغة	شروط الثمن والمثمن

ورقة عمل رقم: 84 تصنيف شروط عقد البيع عند الشافعية

عزيزي الباحث:

في ضوء دراستك لشروط عقد البيع عند الشافعية؛ قم بتصنيف الشروط الآتية -وفق الجدول أدناه-

الرقم	الشرط	الرقم	الشرط
1	سماع الصيغة	12	أن يقصد كلا العاقلين معنى اللفظ الذي ينطق به
2	ألا يكون المشتري حربياً محارباً في بيع آلات الحرب	13	عدم الإكراه بغير حق
3	الخطاب	14	أن يكون معلوماً للعاقلين عيناً وقدرراً وصفة
4	الرشد	15	أن يصير البادئ على ما أتى به من الإيجاب إلى القبول، وأن تستمر أهلية العاقلين إلى تمام القبول
5	أن يقع الخطاب على جملة المخاطب	16	ألا يطول الفصل بين لفظي الإيجاب والقبول
6	أن يكون القبول ممن صدر معه الخطاب	17	إسلام من يشتري له مصحف ونحوه
7	أن يكون مقدور التسليم	18	أن يكون مملوكاً للعاقده أو له عليه ولاية

8	أن يذكر البادئ بالكلام الثمن والمثمن	19	ألا يعلق الصيغة بشيء لا يقتضيه العقد
9	ألا يتخلل بين الإيجاب والقبول كلام أجنبي عن العقد	20	ألا يكون العقد مؤقتاً
10	ألا يغير الموجب كلامه قبل قبول الآخر	21	أن يكون المعقود عليه طاهراً
11	أن يكون منتفعاً به شرعاً	22	أن يتوافق الإيجاب والقبول تماماً

شروط العاقد	شروط الصيغة	شروط المعقود عليه

ورقة عمل رقم: 85 تصنيف شروط عقد البيع عند الحنابلة

عزيري الباحث:

في ضوء دراستك لشروط عقد البيع عند الحنابلة؛ قم بتصنيف الشروط الآتية -وفق الجدول أدناه-

الرقم	الشرط
1	التراضي من المتبايعين والاختيار أو عدم الإكراه إلا بحق
2	خلو الثمن والمثلثن والمتعاقدين عن موانع الصحة كالربا
3	ألا يكون بين القبول والإيجاب فاصل يدل على الإعراض عن البيع عرفاً
4	أن يكون مالاً
5	الرشد
6	أن يكون المبيع مملوكاً لبائعه ملكاً تاماً
7	أن يكون المبيع مقدوراً على تسليمه حال العقد
8	اتحاد المجلس
9	أن يكون المبيع معلوماً للبائع والمشتري برؤية تحصل بها معرفته
10	ألا يكون العقد مؤقتاً ولا معلقاً بغير مشيئة الله تعالى
11	أن يكون الثمن معروفاً للعاقدين حال العقد أو قبله

شروط المعقود عليه مبيعاً أو ثمناً	شروط الصيغة	شروط العقد

ورقة عمل رقم: 86 الشروط في البيع وشروط البيع

عزيزي الباحث:

ما الفرق بين الشروط في البيع وشروط البيع؟

.....
.....
.....
.....
.....
.....
.....
.....
.....
.....
.....
.....
.....
.....
.....
.....
.....
.....
.....
.....
.....

ورقة عمل رقم: 87 اشتراط عدم رد البضاعة وعدم استبدالها

عزيزي الباحث:

ذهبت السيدة حفصة لشراء ملابس لها من أحد المحلات، وبعد أن اختارت ما ترغب به؛ ذهبت إلى المحاسب لدفع الثمن، وقد كان هناك لوحة كبيرة أمام المحاسب تقول: البضاعة المباعة لا ترد ولا تستبدل، وعندما رجعت السيدة إلى بيتها وجدت عيباً في اللباس.

برأيك:

هل يمكن لها إعادة الملابس للمحل واستبدالها، ولماذا؟

هل يحق للمحل ألا يرد البضاعة ولا يستبدلها بناء على اللافتة ولماذا؟

هل يجوز لها طلب استرداد المال ورد الملابس، ولماذا؟

.....

.....

.....

.....

.....

.....

.....

.....

.....

.....

ورقة عمل رقم: 88 البيع بشرط البراءة من العيوب

عزيزي الباحث:

ذهب السيد أحمد إلى محل سيارات مستعملة لشراء سيارة له، وأثناء حديثه مع مالك المحل؛ قال له البائع: السيارة أمامك افحصها كما تشاء، لكن إن خرجت السيارة من المحل؛ فأنا غير مسؤول عن أي عيب، وبالفعل فحصها أحمد، واشتراها، وبعد أسبوع ظهر بها خلل، وأكد له المكيانيكي أن العيب قديم. هل يمكن لأحمد الرجوع إلى المحل بخيار العيب، ولماذا؟

.....

.....

.....

.....

.....

.....

.....

.....

.....

.....

.....

.....

ورقة عمل رقم: 89 شروط البيع

عزيزي الباحث:

في ضوء دراستك لشروط البيع؛ قم بتصنيف الشروط الآتية وفق الجدول أدناه

الرقم	الشروط	الرقم	الشروط
1	موافقة الإيجاب القبول	8	ألا يكون في المبيع حق لغير البائع
2	المالك / الولاية	9	ألا يكون البيع مؤقتاً.
3	أن يكون المبيع موجوداً	10	معلومية المبيع والتمن.
4	خلو البيع عن الشروط الفاسدة	11	أن يكون المبيع ملك البائع فيما يبيعه لنفسه
5	أن يكون المبيع مقدور التسليم	12	أن يكون البيع بالتراضي
6	اتحاد المجلس	13	الخلو عن الخيارات
7	المالية في المبيع	14	أن يكون المبيع مالاً متقوماً

شروط الانعقاد	شروط النفاذ	شروط الصحة	شروط اللزوم

ورقة عمل رقم: 90 أحكام البيع

عزيزي الباحث:

هات مثلاً واحداً لكل نوع من أنواع البيوع الآتية:

النوع	المثال
بيع واجب	
بيع مندوب	
بيع مكروه	
بيع حرام	
بيع مباح	

ورقة عمل رقم: 91 المقارنة الرباعية المفتوحة بين بيع الملامسة والمحاقلة والمحاضرة
والخرابنة

عزيزي الباحث:

قارن بين بيع الملامسة والمحاقلة والمخاضرة والمزابنة من خلال المخطط الآتي:

<p>بيع الملامسة، خاص بـ: 1</p> <p>المشترك بين 1، و4</p> <p>بيع الحيازة، خاص بـ: 4</p>	<p>المشترك بين 1، و4</p> <p>المشترك بين 1، و3</p> <p>المشترك بين 2، و3</p>	<p>المشترك بين 1، و2</p> <p>المشترك بين 1، و3</p> <p>المشترك بين 1، و4</p>	<p>المشترك بين 1، و2</p> <p>المشترك بين 1، و3</p> <p>المشترك بين 1، و4</p>
<p>المشترك بين 1، و2</p> <p>المشترك بين 1، و3</p> <p>المشترك بين 1، و4</p>	<p>المشترك بين 1، و2</p> <p>المشترك بين 1، و3</p> <p>المشترك بين 1، و4</p>	<p>المشترك بين 1، و2</p> <p>المشترك بين 1، و3</p> <p>المشترك بين 1، و4</p>	<p>المشترك بين 1، و2</p> <p>المشترك بين 1، و3</p> <p>المشترك بين 1، و4</p>
<p>المشترك بين 1، و2</p> <p>المشترك بين 1، و3</p> <p>المشترك بين 1، و4</p>	<p>المشترك بين 1، و2</p> <p>المشترك بين 1، و3</p> <p>المشترك بين 1، و4</p>	<p>المشترك بين 1، و2</p> <p>المشترك بين 1، و3</p> <p>المشترك بين 1، و4</p>	<p>المشترك بين 1، و2</p> <p>المشترك بين 1، و3</p> <p>المشترك بين 1، و4</p>
<p>المشترك بين 1، و2</p> <p>المشترك بين 1، و3</p> <p>المشترك بين 1، و4</p>	<p>المشترك بين 1، و2</p> <p>المشترك بين 1، و3</p> <p>المشترك بين 1، و4</p>	<p>المشترك بين 1، و2</p> <p>المشترك بين 1، و3</p> <p>المشترك بين 1، و4</p>	<p>المشترك بين 1، و2</p> <p>المشترك بين 1، و3</p> <p>المشترك بين 1، و4</p>

ورقة عمل رقم: 92 الصور المعاصرة لبعض البيوع المنهي عنها

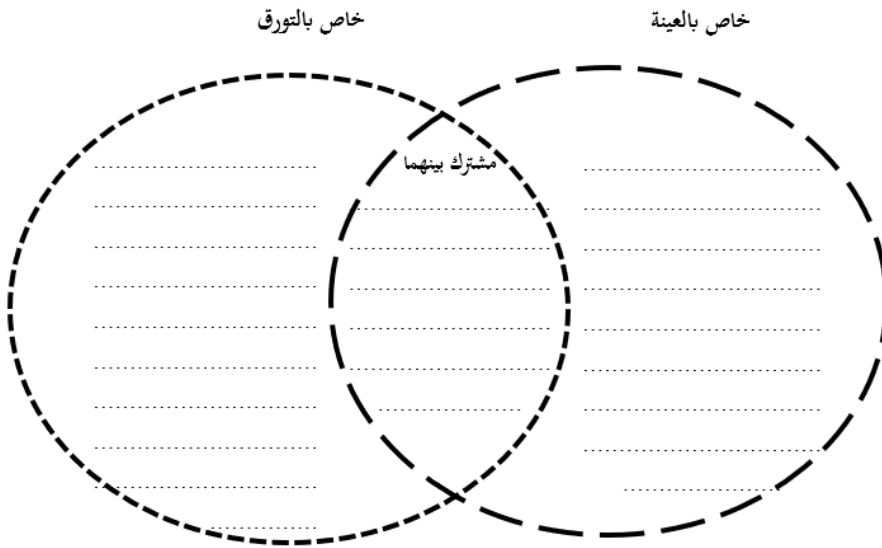
عزيزي الباحث: هات أمثلة معاصرة على كل بيع من البيوع الآتية:

البيع	الرقم	المثال
بيع الملامسة	1	
	2	
بيع المنابذة	1	
	2	
بيع الحصاة	1	
	2	

ورقة عمل رقم: 93 المقارنة الثنائية المفتوحة بين العينة والتورق

عزيزي الباحث:

قارن بين العينة والتورق من خلال المخطط الآتي:



ورقة عمل رقم: 94 البيوع المنهي عنها

عزيزي الباحث:

ذهب بعض الفقهاء إلى حرمة البيع وبطلانه فيما لو علم البائع قصد المشتري كمن يشتري العنب ليصنع منه خمرًا.

فإن قيل: إن العلاقة بين البائع والمشتري علاقة شرعية (عنب مقابل مال) فما علاقة البائع فيما سيفعله المشتري بالعنب؟ فالإثم على الفاعل فلماذا يحرم البيع ويبطل؟ ثم لو سلمنا بهذا التعليل لو تعاقد مكاول مع عدد من أصحاب المهن المسلمين؛ مثل (كهربي، نجار، حداد) لإصلاح كنيسة؛ فهل هذا العمل محرم هنا وباطل والفاعل آثم لأن الكنيسة يعبد فيها غير الله، ولماذا؟

.....

.....

.....

.....

.....

.....

.....

.....

.....

.....

.....

ورقة عمل رقم: 95 تصنيف أمثلة معاصرة للبيوع

عزيزي الباحث:

بين يديك بعض الأمثلة للبيوع؛ قم بتصنيفها وفق الجدول أدناه.

الرقم	البيع	الرقم	البيع
1	بيع الألعاب الجنسية	12	بيع الماء لشخص عطشان جداً.
2	بيع إطارات السيارات	13	بيع المخدرات لمن يتعاطاها
3	بيع "باروكة" الشعر.	14	بيع المخدرات لإجراء التجارب عليها
4	بيع مساحيق التجميل لامرأة منقبة	15	بيع مصمل تكبير الشفاه "فيلر"
5	بيع "الدخان"	16	بيع كبسولات تكبير المؤخرة والأرداف.
6	بيع "شفرات حلاقة" لرجل حليق اللحية.	17	بيع دمي الأطفال
7	بيع الأفلام الإباحية	18	بيع مساحيق التجميل لامرأة غير محجبة.
8	بيع كتب الإحاد	19	بيع الأرز يوم الأربعاء
9	بيع التماثيل	20	البيع وقت النداء يوم الجمعة.
10	بيع أدوات كهربائية لكنيسة	21	بيع العنب لمن يتخذه خمراً
11	بيع الخنزير للمختبرات الطبية	22	بيع الكلاب "البوليسية"

بيع واجب	بيع حرام	بيع مكروه	بيع مباح

ورقة عمل رقم: 96 المقارنة الرباعية المفتوحة بين خيار الشرط، وخيار المجلس، وخيار العيب، وخيار الرؤية

عزيزي الباحث:

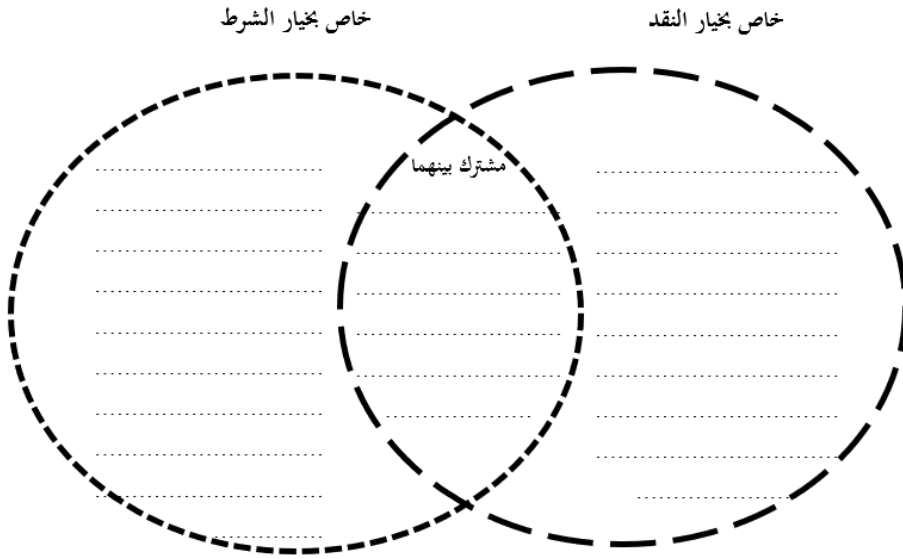
قارن بين خيار الشرط، وخيار المجلس، وخيار العيب، وخيار الرؤية من خلال المخطط الآتي:

<p>المشترك بين 1، و4</p> <p>خيار الرؤية، خاص بـ: 4</p>		<p>خيار الشرط، خاص بـ: 1</p>	
<p>المشترك بين 1، و3</p> <p>المشترك بين 2، و4</p> <p>المشترك بين 3، و4</p>		<p>المشترك بين 1، و2</p>	<p>المشترك بين 1، و3</p>
<p>المشترك بين 2، و3</p>		<p>خيار المجلس، خاص بـ: 2</p>	<p>خيار العيب، خاص بـ: 3</p>

ورقة عمل رقم: 97 المقارنة الثنائية المفتوحة بين خيار النقد وخيار الشرط

عزيزي الباحث:

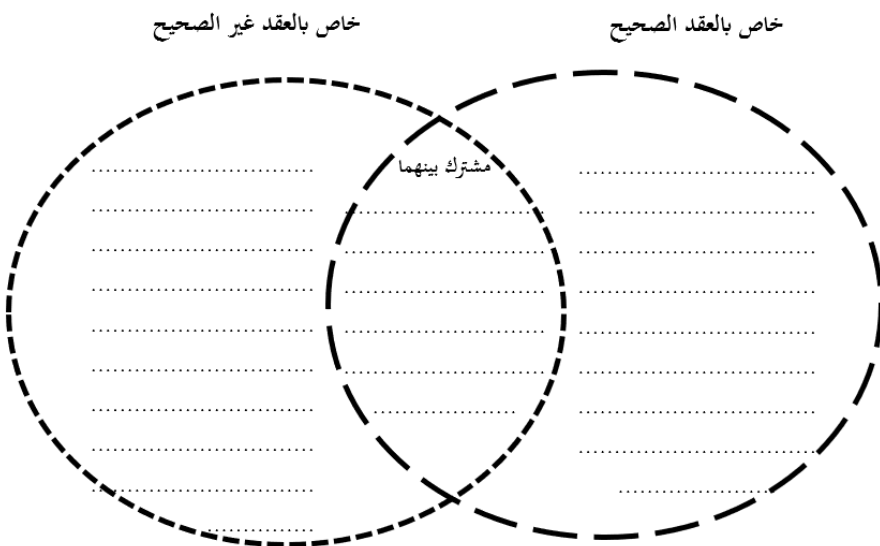
قارن بين خيار النقد وخيار الشرط من خلال المخطط الآتي:



ورقة عمل رقم: 98 المقارنة الشئائية المفتوحة بين العقد الصحيح والعقد غير الصحيح

عزيزي الباحث:

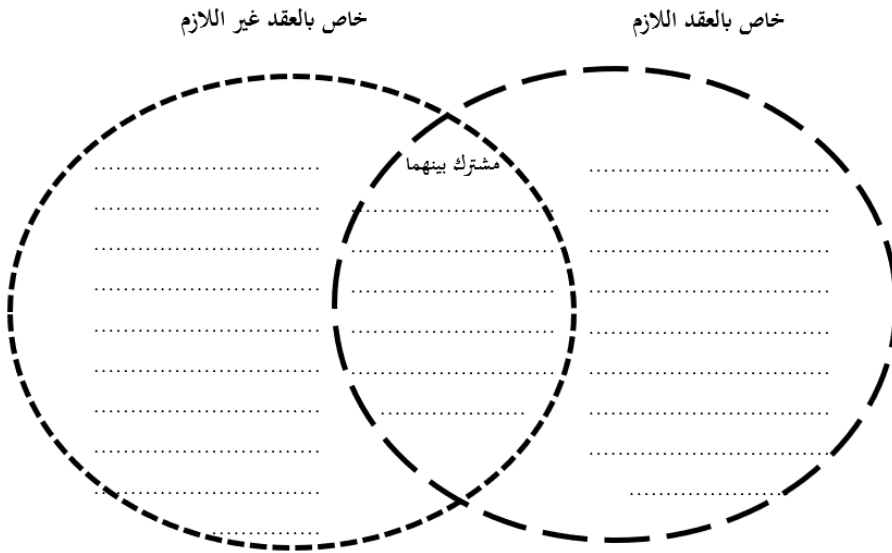
قارن بين العقد الصحيح والعقد غير الصحيح من خلال المخطط الآتي:



ورقة عمل رقم: 99 المقارنة الثنائية المفتوحة بين العقد اللازم والعقد غير اللازم

عزيزي الباحث:

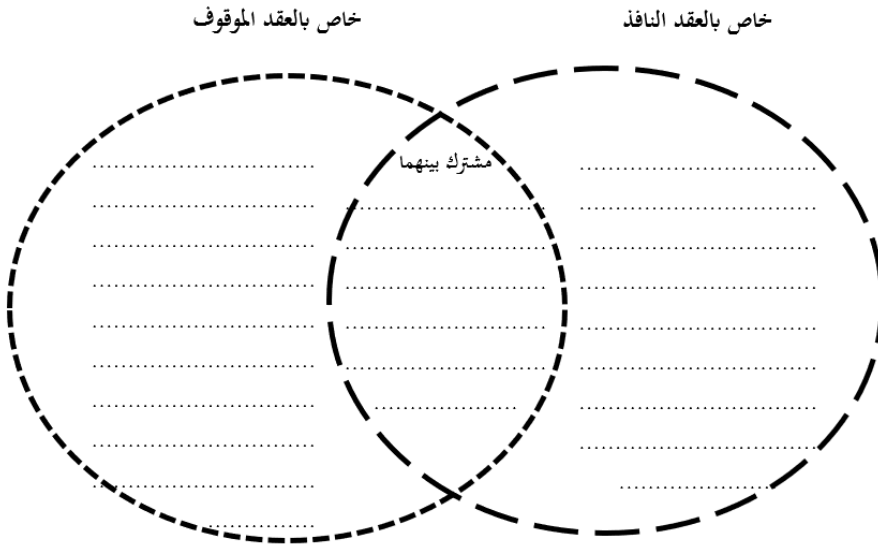
قارن بين العقد اللازم والعقد غير اللازم من خلال المخطط الآتي:



ورقة عمل رقم: 100 المقارنة الثنائية المفتوحة بين العقد النافذ والعقد الموقوف

عزيزي الباحث:

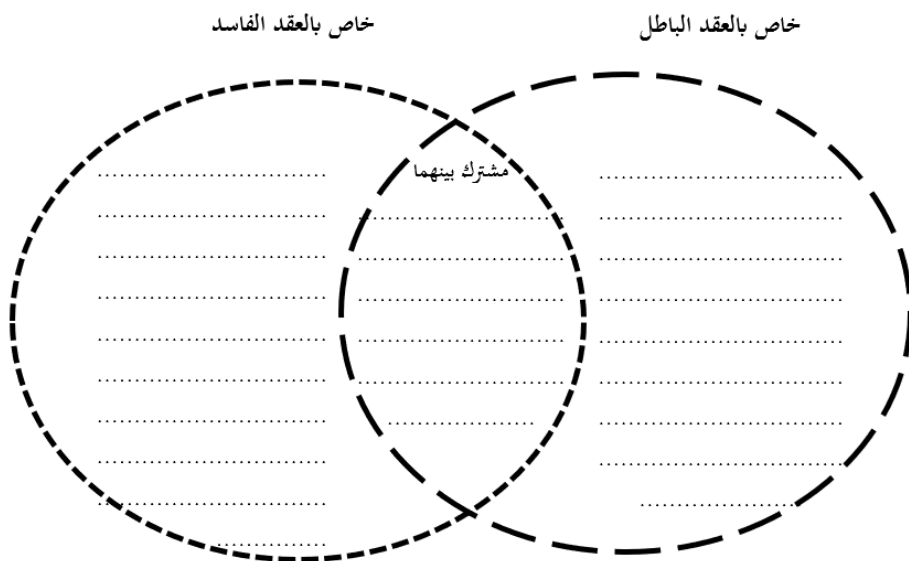
قارن بين العقد النافذ والعقد الموقوف من خلال المخطط الآتي:



ورقة عمل رقم: 101 المقارنة الثنائية المفتوحة بين العقد الباطل والعقد الفاسد

عزيزي الباحث:

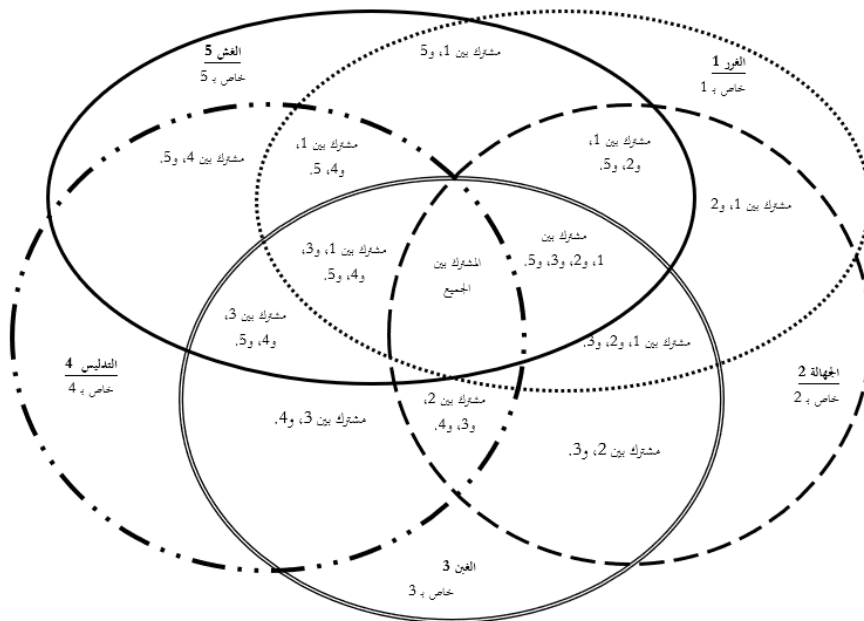
قارن بين العقد الباطل والعقد الفاسد من خلال المخطط الآتي:



ورقة عمل رقم: 102 المقارنة الخماسية المفتوحة بين الغرر والجهالة والغبن والتدليس والغش

عزيزي الباحث:

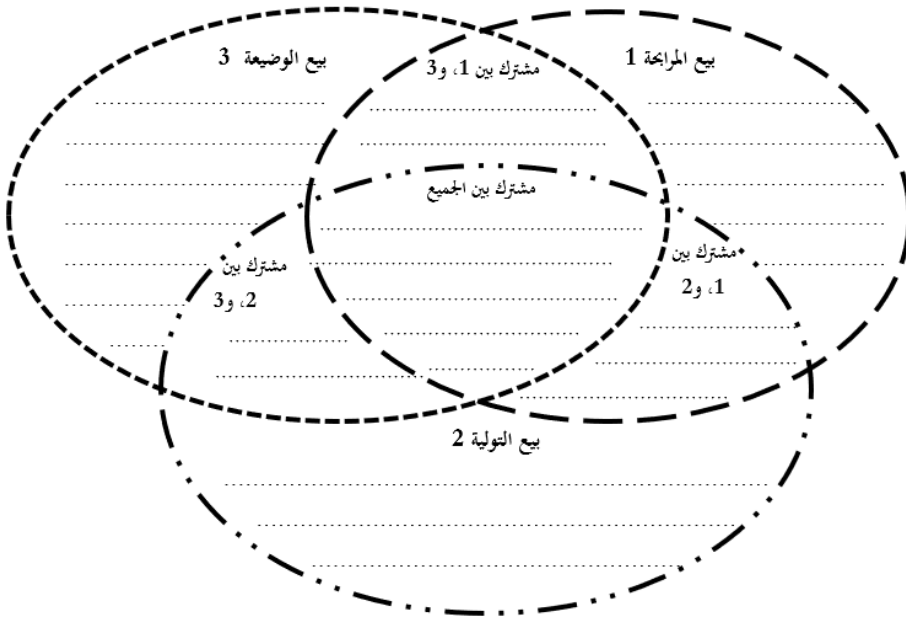
قارن بين الغرر والجهالة والغبن والتدليس والغش من خلال المخطط الآتي:



ورقة عمل رقم: 103 المقارنة الثلاثية المفتوحة بين بيع المراجعة، وبيع التولية، وبيع
الوضيعة

عزيزي الباحث:

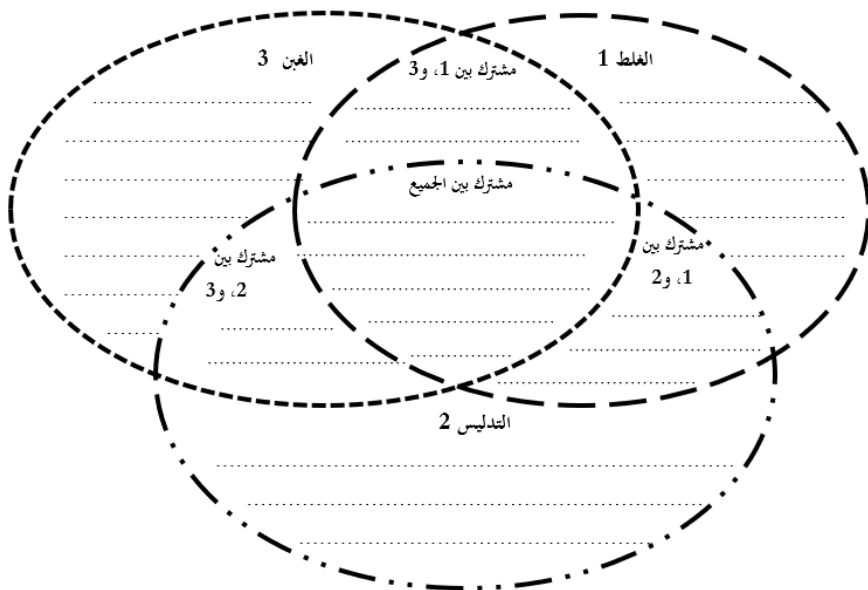
قارن بين بيع المراجعة، وبيع التولية، وبيع الوضعية من خلال المخطط الآتي:



ورقة عمل رقم: 104 المقارنة الثلاثية المفتوحة بين الغلط، والتدليس، والغبن

عزيزي الباحث:

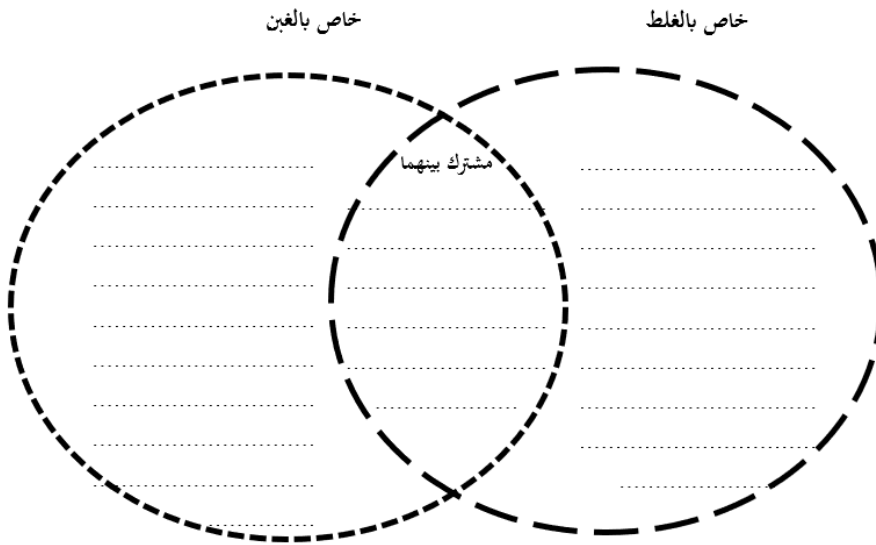
قارن بين الغلط، والتدليس، والغبن من خلال المخطط الآتي:



ورقة عمل رقم: 106 المقارنة الثنائية المفتوحة بين الغلط والغبن

عزيزي الباحث:

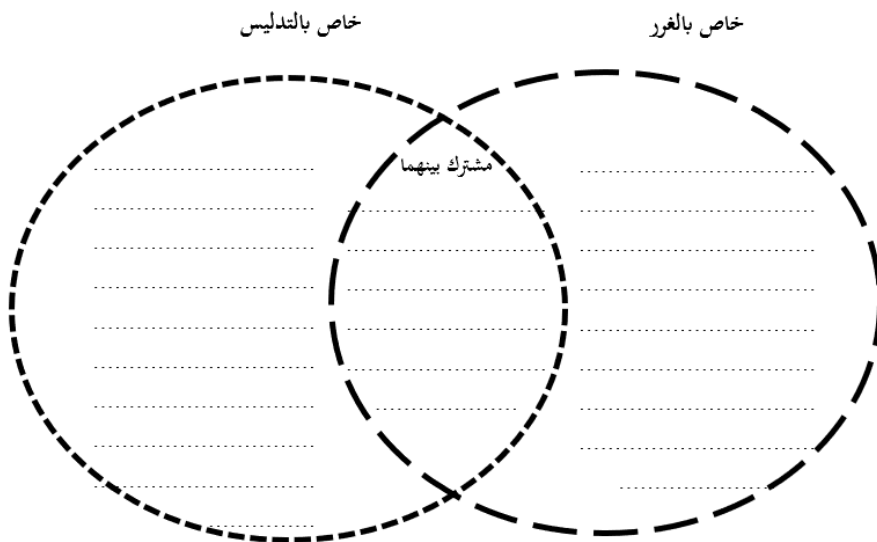
قارن بين الغلط، والغبن من خلال المخطط الآتي:



ورقة عمل رقم: 107 المقارنة الثنائية المفتوحة بين الغرر والتدليس

عزيزي الطالب:

قارن بين الغرر والتدليس من خلال المخطط الآتي:



ورقة عمل رقم: 108 التلاعب بصورة المنتج المباع عبر وسائل التواصل الاجتماعي

عزيزي الباحث:

رأت امرأة حقيقية نسائية على أحد موقع التواصل الاجتماعي فأعجبته فتواصلت مع البائع وتم الاتفاق، لكن لما جاء السائق لتوصيل الطلبات تفاجأت المرأة بأن حجم الحقيبة صغير جداً، وليس كما هو معروض في الصورة في الصورة، إذ قام البائع بتكبير الصورة.

ما الأحكام المترتبة على هذه الحالة، ولماذا؟

.....

.....

.....

.....

.....

.....

.....

.....

.....

.....

.....

.....

ورقة عمل رقم: 109 صور معاصرة للتغيير في العقود

عزيزي الباحث:

هات خمسة أمثلة معاصرة على التغيير في العقود.

الرقم	المثال
1	
2	
3	
4	
5	

ورقة عمل رقم: 110 شروط العاقدين

عزيزي الباحث:

عمرو طالب في المرحلة الابتدائية وعمره 9 سنوات، تواصل عبر صفحته على "الفيس بوك" مع أحد محلات الألعاب وقام بشراء عدد من الألعاب، وقام بدفع ثمنها من خلال بطاقة والده الإلكترونية -دون علم الوالد-، ما حكم هذا البيع، ولماذا؟

.....

.....

.....

.....

.....

.....

.....

.....

.....

.....

.....

.....

.....

.....

.....

ورقة عمل رقم: 111 اتحاد مجلس الإيجاب والقبول

عزيزي الباحث:

من شروط الصيغة اتحاد مجلس الإيجاب والقبول:

برأيك:

كيف يكون هذا الأمر في حالة الشراء عن طريق الفيس بوك مثلاً أو الواتساب أو مواقع التواصل الاجتماعي؟

هل يشترط فيها الفورية بمعنى أم أن المحادثة الواحدة تعد مجلساً واحداً بصرف النظر عن الوقت؛ بحيث لو أرسل ال البائع الساعة الواحدة ليلاً، وأجاب المشتري بالقبول الساعة العاشرة صباحاً هل يعد ذلك اتحاداً للمجلس، ولماذا؟

.....

.....

.....

.....

.....

.....

.....

.....

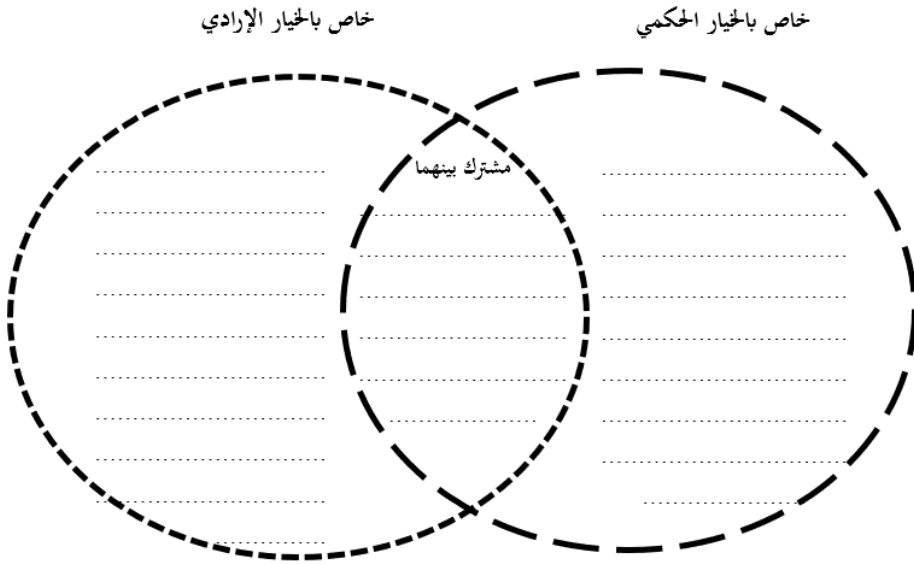
.....

.....

ورقة عمل رقم: 112 المقارنة الثنائية المفتوحة بين الخيار الحكمي والخيار الإرادي

عزيزي الباحث:

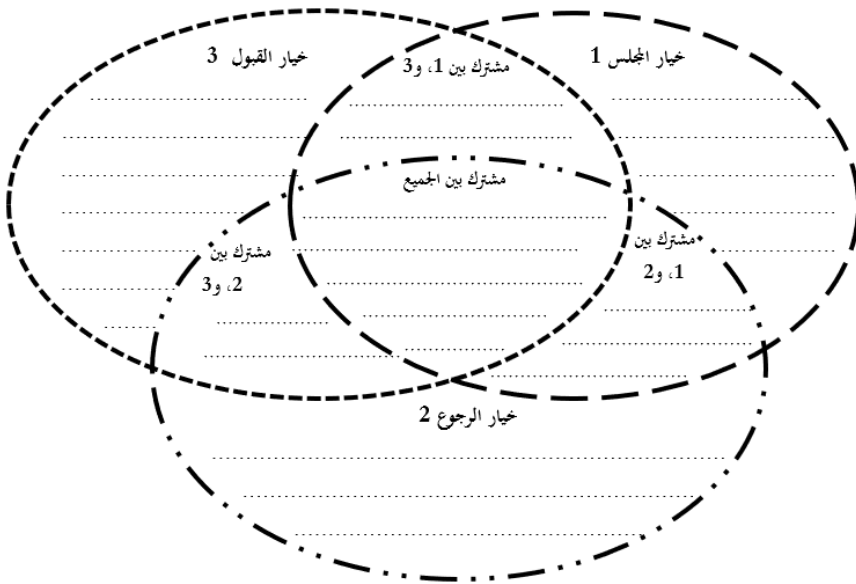
قارن بين الخيار الحكمي والخيار الإرادي من خلال المخطط الآتي:



ورقة عمل رقم: 113 المقارنة الثلاثية المفتوحة بين خيار المجلس، وخيار الرجوع، وخيار
القبول

عزيزي الباحث:

قارن بين خيار المجلس، وخيار الرجوع، وخيار القبول من خلال المخطط الآتي:



ورقة عمل رقم: 114 خيار المجلس و"الوتس أب"

عزيزي الباحث:

كيف يمكن تحقق خيار المجلس في حالة تم الشراء عن طريق "الوتس أب" ولماذا؟

.....

.....

.....

.....

.....

.....

.....

.....

.....

.....

.....

.....

.....

.....

.....

.....

.....

.....

.....

.....

.....

ورقة عمل رقم: 115 البيوع الباطلة/ الفاسدة

عزيزي الباحث:

هات أمثلة معاصرة على كل نوع من البيوع الآتي:

الرقم	البيع	المثال
1	بيع المعدوم	
2	البيوع التي فيها معنى للمقامرة والعرار نقطة	
3	بيع الدين بالدين	
4	بيع المجهول	
5	البيع المعلق على شرط	
6	بيع العين الغائبة	
7	اتخاذ عقد البيع وسيلة لتحقيق غرض غير مشروع	
8	بيع الحاضر للبادي	
9	تلقي الركبان	

ورقة عمل رقم: 116 الاحتكار

عزيزي الباحث:

ماذا تتوقع أن يحدث لو أباح الإسلام الاحتكار؟

.....
.....
.....
.....
.....
.....
.....
.....
.....
.....
.....
.....
.....
.....
.....
.....
.....
.....
.....
.....
.....

ورقة عمل رقم: 117 حِكم تحريم الربا

ماذا نتوقع أن يحصل لو أباح الإسلام الربا؟

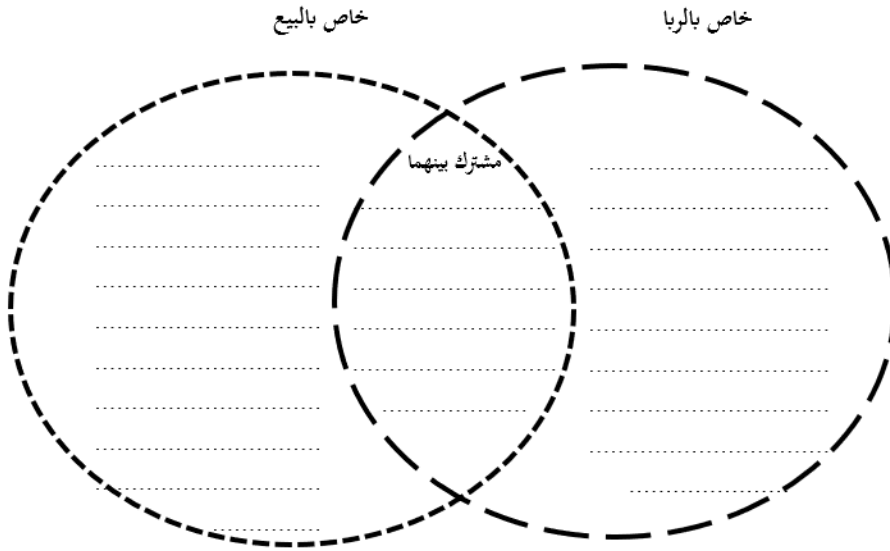
عزيزي الباحث:

ماذا تتوقع أن يحصل لو أباح الإسلام الربا؟

ورقة عمل رقم: 118 المقارنة الثنائية المفتوحة بين الربا والبيع

عزيزي الطالب:

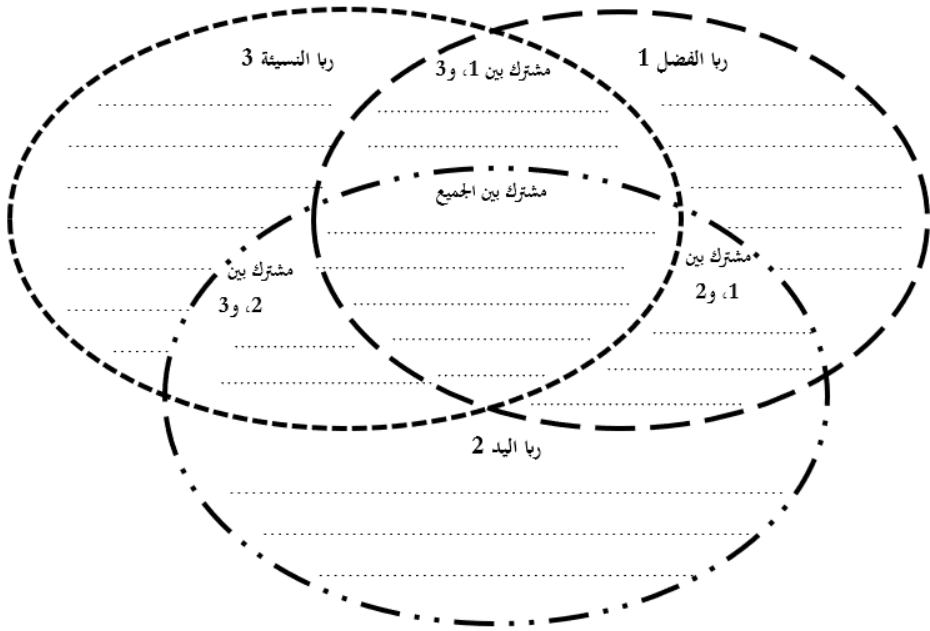
قارن بين الربا والبيع من خلال المخطط الآتي:



ورقة عمل رقم: 119 المقارنة الثلاثية المفتوحة بين أنواع الربا عند الشافعية

عزيزي الطالب:

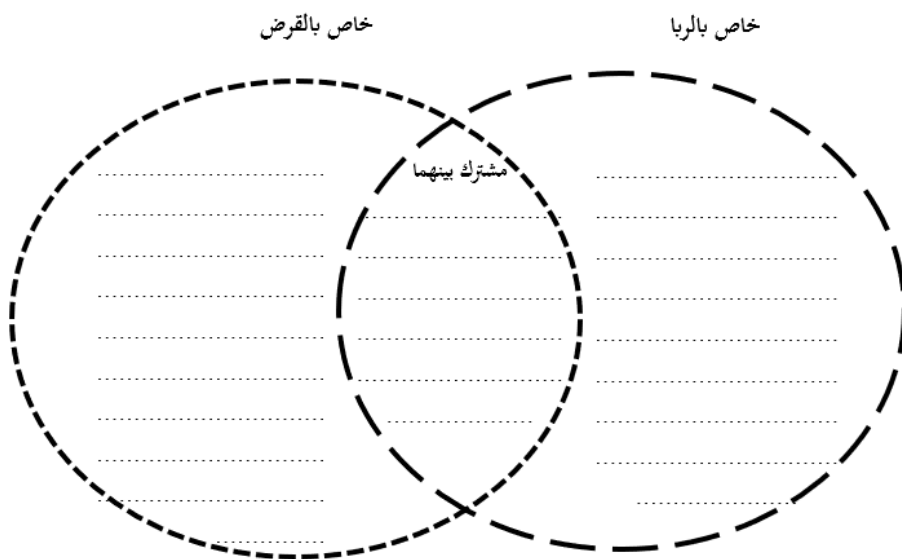
قارن بين ربا الفضل، وربي اليد، وربي النسيئة من خلال المخطط الآتي:



ورقة عمل رقم: 120 المقارنة الثنائية المفتوحة بين الربا والقرض

عزيزي الطالب:

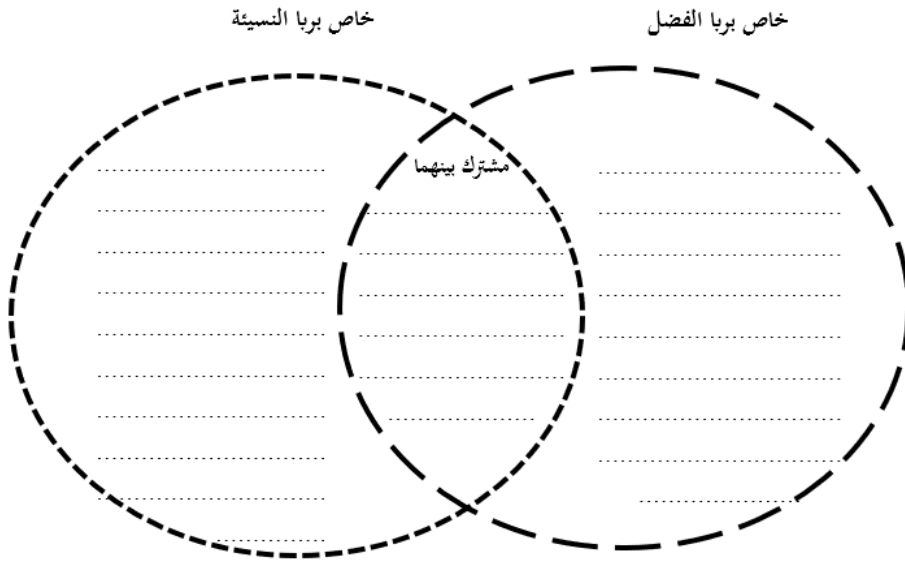
قارن بين الربا والقرض من خلال المخطط الآتي:



ورقة عمل رقم: 121 المقارنة الشئانية المفتوحة بين ربا الفضل وربا النسيئة

عزيزي الطالب:

قارن بين ربا الفضل وربا النسيئة من خلال المخطط الآتي:



ورقة عمل رقم: 122 علة الربا

عزيزي الباحث:

اختلف الفقهاء في علة الربا.

برأيك: ما الآثار العملية المعاصرة المترتبة على هذا الاختلاف؟

.....

.....

.....

.....

.....

.....

.....

.....

.....

.....

.....

.....

.....

.....

.....

.....

.....

.....

.....

.....

.....

ورقة عمل رقم: 123 الفرق بين ربا الديون وبيع التقسيط

عزيزي الباحث:

ما الفروق بين ربا الديون وبيع التقسيط؟

.....
.....
.....
.....
.....
.....
.....
.....
.....
.....
.....
.....
.....
.....
.....
.....
.....
.....
.....
.....
.....

ورقة عمل رقم: 124 الربا في تبادل المركبات

عزيزي الباحث:

يرغب سعيد باستبدال سيارة جديدة بسيارتين قديمتين.

هل يعدُّ ذلك من الربا، ولماذا؟

.....

.....

.....

.....

.....

.....

.....

.....

.....

.....

.....

.....

.....

.....

.....

.....

.....

.....

.....

.....

.....

ورقة عمل رقم: 125 الربا في تبادل مزرعة حمضيات بمزرعة زيتون

عزيزي الباحث:

يملك أحمد مزرعة حمضيات في منطقة الأغوار بالأردن، ويرغب باستبدالها بمزرعتين صغيرتين من أشجار الزيتون في منطقة جرش بالأردن.

هل يعدُّ ذلك من الربا، ولماذا؟

.....

.....

.....

.....

.....

.....

.....

.....

.....

.....

.....

.....

.....

.....

.....

ورقة عمل رقم: 126 الآثار العملية المترتبة على الاختلاف في علة الربا

عزيزي الباحث:

اختلف الفقهاء في علة الربا.

برأيك ما الآثار العملية المترتبة على هذا الاختلاف؟

.....

.....

.....

.....

.....

.....

.....

.....

.....

.....

.....

.....

.....

.....

.....

.....

.....

.....

.....

.....

.....

ورقة عمل رقم: 127 الربا في بيع الزيتون بزيت الزيتون

عزيزي الباحث:

في ضوء دراستك لعدة الربا بين الفقهاء:

هل يجوز بيع الزيتون بزيت الزيتون ولماذا؟

وهل يجوز بيع السمسم بزيت السمسم ولماذا؟

.....

.....

.....

.....

.....

.....

.....

.....

.....

.....

.....

.....

.....

.....

.....

ورقة عمل رقم: 128 جريان الربا في الدول الأجنبية اليوم

عزيزي الباحث:

سافر مسلم للعمل في دول أجنبية، وعمل هناك فترة طويلة وأصبح من الأغنياء، وكان أهل مدينته أناس من غير المسلمين؛ فكان يقرضهم المال ويأخذ منه ربا على هذا الإقراض.

وقد ناقشه غير مسلم في تلك الدولة بأن الإسلام حرم الربا؛ فأجاب المسلم: بأن بعض الفقهاء أجاز الربا في دار الحرب.

ما رأيك بهذه الحجة؟ وهل الدول الأجنبية اليوم دار حرب، ولماذا؟

.....

.....

.....

.....

.....

.....

.....

.....

.....

.....

.....

ورقة عمل رقم: 129 التكيف الفقهي لـ "تظهير/ تحجير الشيط"

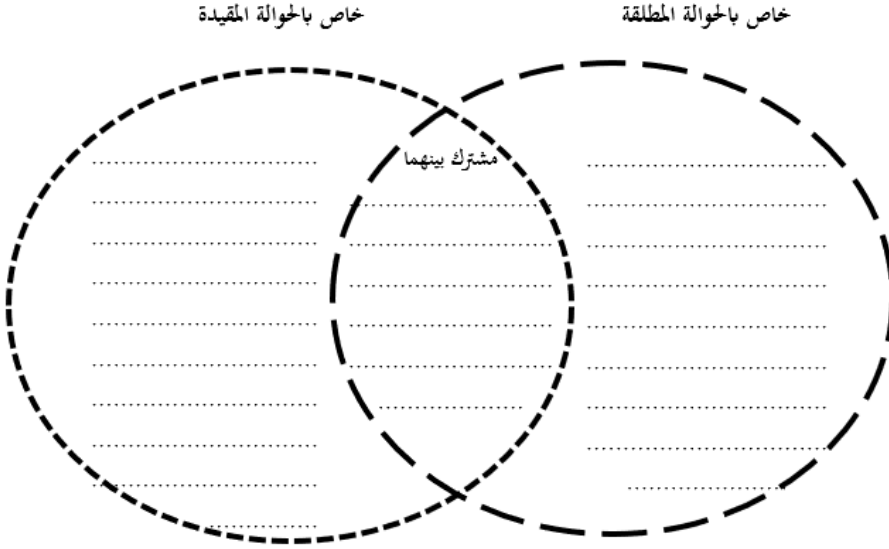
هل يمكن تكييف موضوع "تجيير الشيك أو تظهير الشيك" على أنه حوالة.

This image shows a full page of white paper with horizontal dotted lines. The lines are evenly spaced and run across the width of the page, providing a guide for handwriting practice. There are no margins, text, or other markings on the page.

ورقة عمل رقم: 130 المقارنة الثنائية المفتوحة بين الحوالة المطلقة والحوالة المقيدة

عزيزي الطالب:

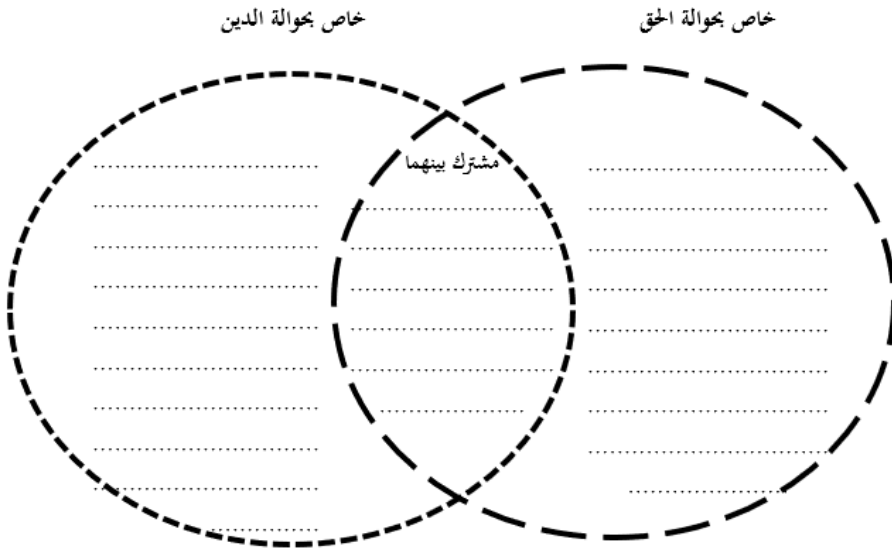
قارن بين الحوالة المطلقة والحوالة المقيدة من خلال المخطط الآتي:



ورقة عمل رقم: 131 المقارنة الثنائية المفتوحة بين حوالة الحق وحوالة الدين

عزيزي الطالب:

قارن بين حوالة الحق وحوالة الدين من خلال المخطط الآتي:



ثامناً: أوراق عمل السلم

ورقة عمل رقم: 132 جريان السلم في شراء المركبات

عزيزي الباحث:

مركبة قيمتها السوقية 10 آلاف دينار، قام مسلم بشرائها بقيمة 8 آلاف دينار شرط أن يدفع 5 آلاف عند العقد، و3 آلاف عند الاستلام الذي سيكون بعد 3 أشهر من تاريخ العقد.

برأيك: هل يمكن تكيف هذا العقد على أنه عقد سلم، ولماذا؟ وما حكم هذا العقد، ولماذا؟

.....

.....

.....

.....

.....

.....

.....

.....

.....

.....

.....

ورقة عمل رقم: 133 السلم في الأبقار والأغنام

عزيزي الباحث:

قام أحد أصحاب المحلات التجارية الكبيرة بزيارة لمزرعة "أبقار وأغنام" ورأى العديد من الأغنام في عمر صغير، فاتفق مع صاحب المزرعة أنه سيشتري 100 رأس من الأغنام، وسيدفع نصف السعر الآن، والباقي بعد 6 أشهر عندما يكون عمر الأغنام قرابة سنة واحدة.

برأيك: هل يمكن تكيف هذا العقد على أنه عقد سلم، ولماذا؟ وما حكم هذا العقد، ولماذا؟

.....

.....

.....

.....

.....

.....

.....

.....

.....

.....

.....

ورقة عمل رقم: 134 السلم في لحم "البقر"

عزيزي الباحث:

قام أحد أصحاب المحلات التجارية الكبيرة بزيارة لمزرعة "أبقار"، ورأى العديد من العجول في عمر صغير، ، فاتفق مع صاحب المزرعة أنه سيشتري 10.000 كيلو غرام من لحم العجول، وسيدفع نصف السعر الآن، والباقي بعد 3 أشهر عندما يكون عمر العجول قرابة 6 أشهر.

برأيك: هل يمكن تكييف هذا العقد على أنه عقد سلم، ولماذا؟ وما حكم هذا العقد، ولماذا؟

.....

.....

.....

.....

.....

.....

.....

.....

.....

.....

.....

ورقة عمل رقم: 135 السلم في السمك

قام أحد أصحاب المحلات التجارية الكبيرة بزيارة "مزرعة..... للأسمك" الموجودة في منطقة الأغوار في الأردن، واتفق مع صاحب المزرعة بأنه سيشترى منه ألف كيلو من "الجمبري البحري"، وألف كيلو من "سمك المشط" وسيدفع نصف السعر الآن، والباقي بعد 3 أشهر عند استلام الكمية.

برأيك: هل يمكن تكييف هذا العقد على أنه عقد سلم، ولماذا؟ وما حكم هذا العقد، ولماذا؟

.....

.....

.....

.....

.....

.....

.....

.....

.....

.....

.....

.....

ورقة عمل رقم: 136 السلم في الخبز "الكيك"

عزيزي الباحث:

زار أحد أصحاب صالات الأفراح محلاً لصناعة "الكيك"، وتذوق بعض الأصناف من "الكيك" وأعجبه أحدها، فاتفق مع صاحب المحل أنه سيشتري ألف قطعة من هذا الصنف، وسيدفع نصف السعر الآن، والباقي عند الاستلام الذي تم تحديده نهاية الشهر القادم.

برأيك: هل يمكن تكيف هذا العقد على أنه عقد سلم، ولماذا؟ وما حكم هذا العقد، ولماذا؟

.....

.....

.....

.....

.....

.....

.....

.....

.....

.....

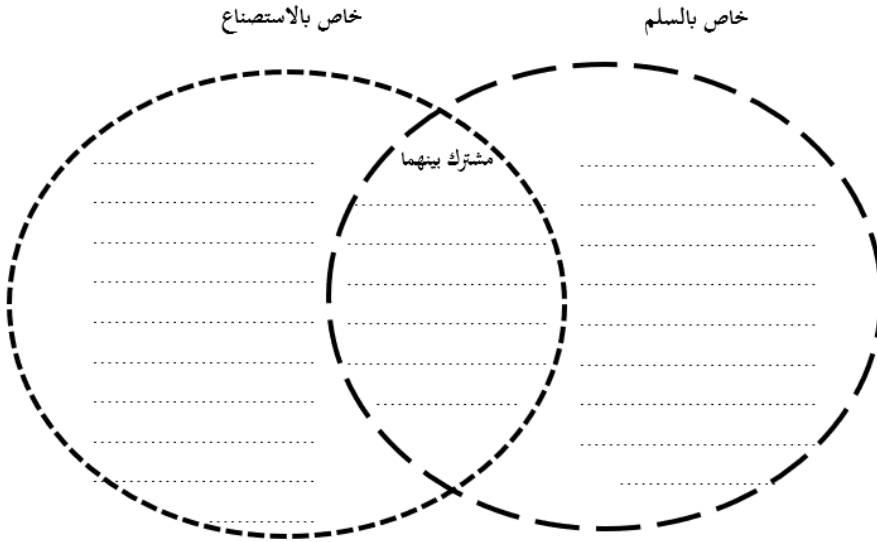
.....

.....

ورقة عمل رقم: 137 المقارنة الثنائية المفتوحة بين السلم والاستصناع

عزيزي الطالب:

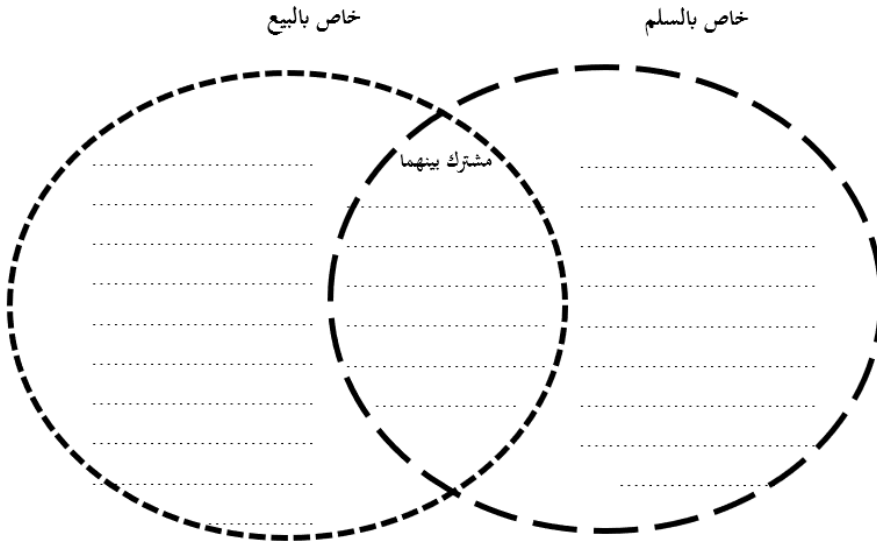
قارن بين السلم والإستصناع من خلال المخطط الآتي:



ورقة عمل رقم: 138 المقارنة الثنائية المفتوحة بين السلم والبيع

عزيزي الطالب:

قارن بين السلم والبيع من خلال المخطط الآتي:

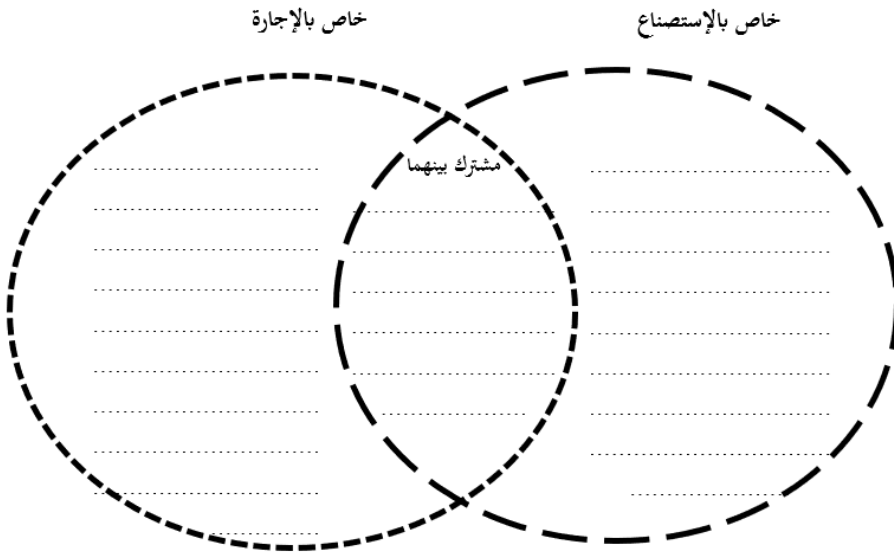


تاسعاً: أوراق عمل الاستصناع

ورقة عمل رقم: 139 المقارنة الثنائية المفتوحة بين الاستصناع والإجارة

عزيزي الطالب:

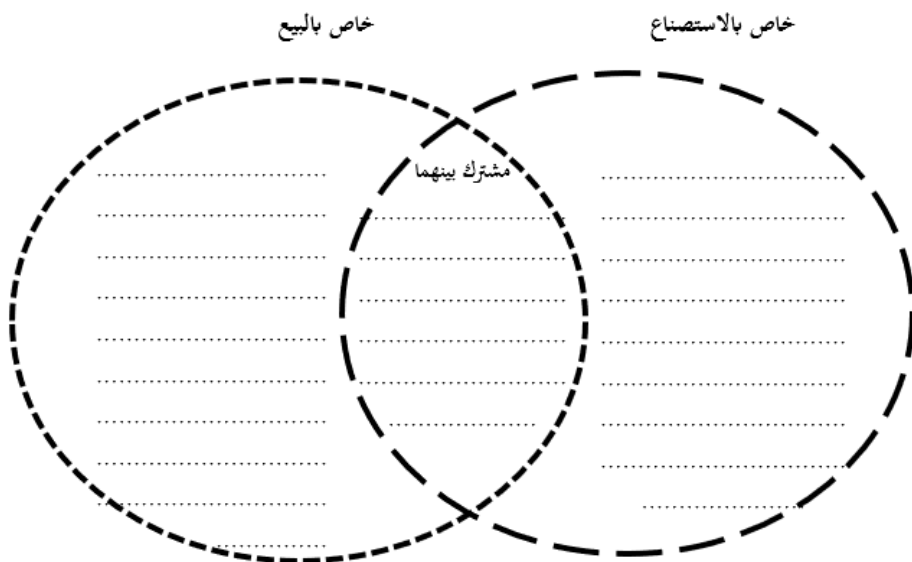
قارن بين الاستصناع والإجارة من خلال المخطط الآتي:



ورقة عمل رقم: 140 المقارنة الثنائية المفتوحة بين الاستصناع والبيع

عزيزي الطالب:

قارن بين الاستصناع والبيع من خلال المخطط الآتي:



ورقة عمل رقم: 141 تخرج عقد الاستصناع

عزيزي الباحث:

اختلف بعض الفقهاء في تخرج عقد الاستصناع:

أهو: عقد بيع، أم وعد بالبيع، أم إجارة.

ثم إن كان بيعاً: فهل المبيع هو العين التي ستم صنعها، أم العمل الذي سقوم به الصانع.

برأيك: ما الآثار العملية المترتبة على الاختلاف في التخرج؟

.....

.....

.....

.....

.....

.....

.....

.....

.....

.....

.....

.....

.....

.....

.....

ورقة عمل رقم: 142 التكييف الفقهي لعقد إجراء عملية جراحية

عزيزي الباحث:

دخل رجل إلى مستشفى لإجراء "قسطرة قلبية"

برأيك: هل بالإمكان تكييف هذا العمل على أنه استئصال، ولماذا؟

.....

.....

.....

.....

.....

.....

.....

.....

.....

.....

.....

.....

.....

.....

.....

.....

.....

.....

.....

.....

.....

.....

ورقة عمل رقم: 143 تكييف العمل الطبي لمريض دخل الطوارئ

عزيزي الباحث:

دخل رجل إلى الطوارئ، يعاني من ألم شديد في بطنه، ولم يستطع الطبيب معرفة السبب ابتداءً؛ فطلب إجراء فحوصات للدم، ثم عمل صورة أشعة، ثم عمل صورة "تلفزيونية" وبعد ذلك ظهر للطبيب سبب الألم، ووصف للمريض العلاج.
برأيك: هل بالإمكان تكييف هذا العمل على أنه استصناع، ولماذا؟

.....

.....

.....

.....

.....

.....

.....

.....

.....

.....

.....

.....

.....

.....

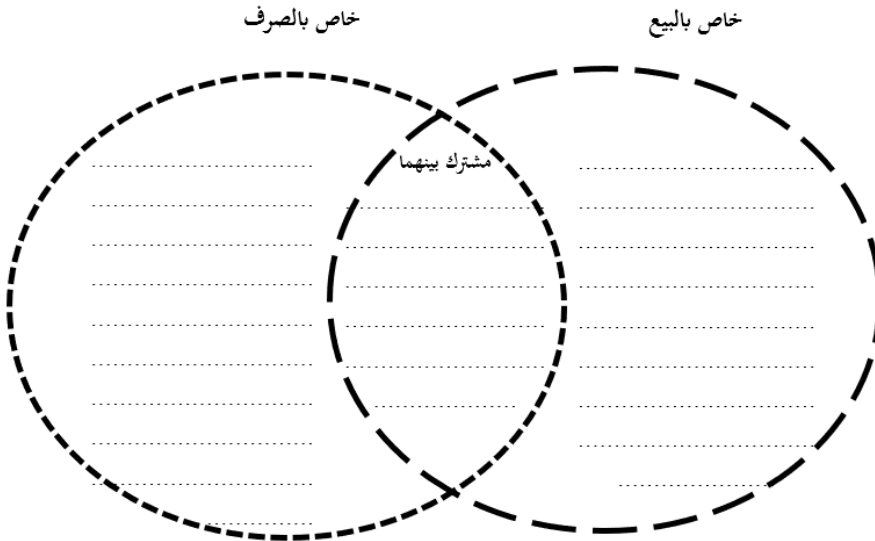
.....

عاشراً: أوراق عمل الصرف

ورقة عمل رقم: 144 المقارنة الثنائية المفتوحة بين البيع والصرف

عزيزي الطالب:

قارن بين البيع والصرف من خلال المخطط الآتي:

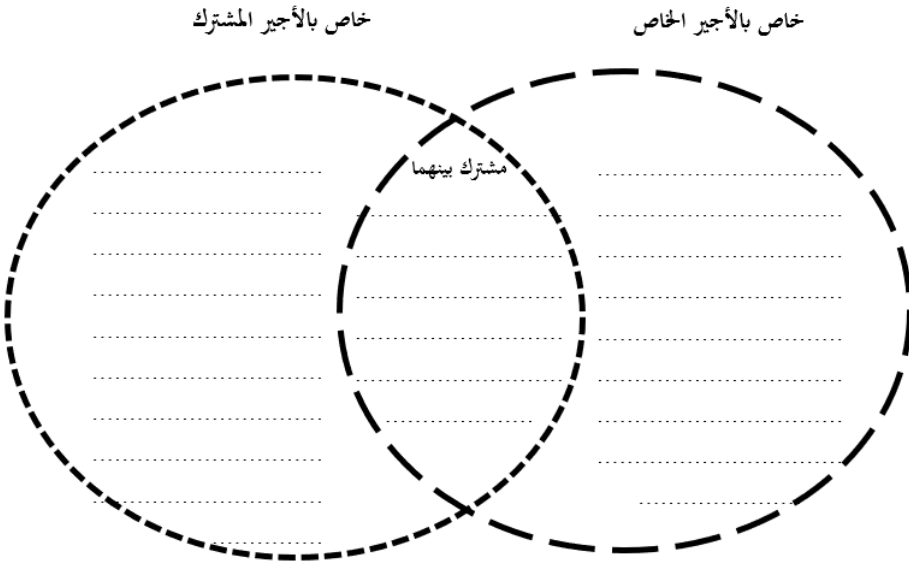


حادى عشر: أوراق عمل الإجارة

ورقة عمل رقم: 145 المقارنة الثنائية المفتوحة بين الأجير الخاص والأجير المشترك

عزيزى الطالب:

قارن بين الأجير الخاص والأجير المشترك من خلال المخطط الآتى:

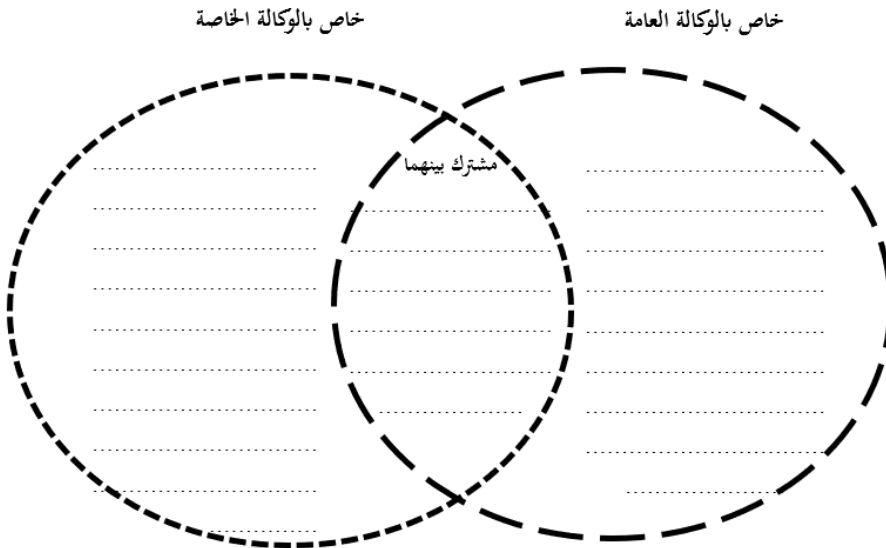


ثاني عشر: أوراق عمل الوكالة

ورقة عمل رقم: 146 المقارنة الثنائية المفتوحة بين الوكالة العامة والوكالة الخاصة

عزيزي الطالب:

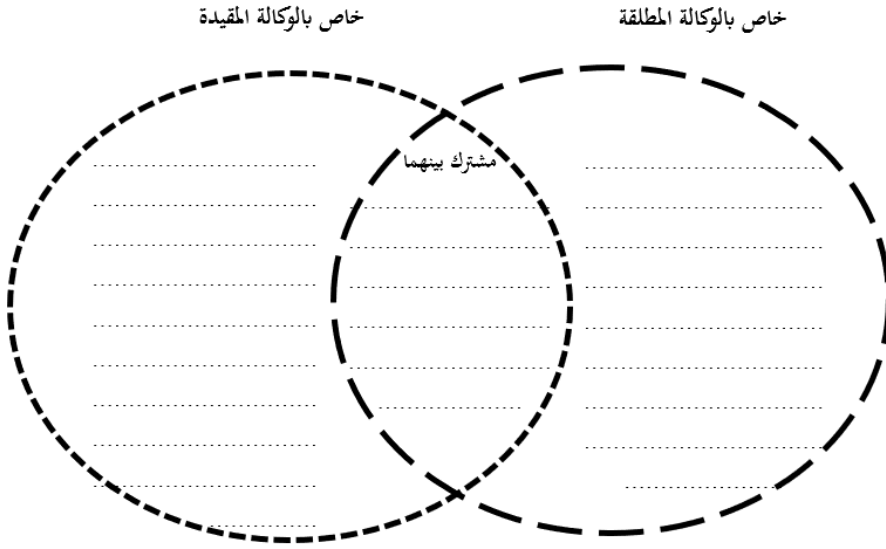
قارن بين الوكالة العامة والوكالة الخاصة من خلال المخطط الآتي:



ورقة عمل رقم: 147 المقارنة الثنائية المفتوحة بين الوكالة المطلقة والوكالة المقيدة

عزيزي الطالب:

قارن بين الوكالة المطلقة والوكالة المقيدة من خلال المخطط الآتي:



ورقة عمل رقم: 148 أفعال لا تقبل الوكالة

عزیزى الباحت:

يرى بعض الفقهاء بأن الوكالة هي: تفويض شخص ماله فعله مما يقبل النيابة إلى غيره ليفعله في حياته.

هات أمثلة على أفعال أو أمور لا تقبل النيابة.

This image shows a full page of white paper with horizontal dashed lines, typical of primary school writing paper. The lines are evenly spaced and run across the width of the page. There are no margins, text, or other markings on the paper.

ورقة عمل رقم: 149 الحكم التكليفي للوكالة

عزيزي الطالب:

في ضوء دراستك للحكم التكليفي للوكالة؛ هات مثلاً على كل حكم من الأحكام الآتية:
قارن بين الوكالة المطلقة والوكالة المقيدة من خلال المخطط الآتي:

الرقم	الحكم	المثال
1	الإباحة	
2	مندوبة	
3	مكروهة	
4	حراماً	

ورقة عمل رقم: 150 توكيل غير المسلم

عزيزي الباحث:

مسلم من الأردن سافر إلى كندا؛ للدراسة والعمل، وخلال تلك الفترة أخذ الجنسية الكندية، وأقام مشروعاً خاصاً به، ومساعدته في العمل رجل غير مسلم. فإن أراد المسلم زيارة الأردن؛ فهل يجوز له توكيل مساعدته غير المسلم، ولماذا؟

.....

.....

.....

.....

.....

.....

.....

.....

.....

.....

.....

.....

.....

.....

.....

ورقة عمل رقم: 151 تعريف الكفالة

برأيك: ما الآثار العملية المترتبة على هذا الاختلاف، ولماذا؟

[illegible]

ورقة عمل رقم: 152 التكييف الفقهي لخطاب الضمان المستندي

عزيزي الباحث:

برأيك: هل يمكن تكييف خطاب الضمان المستندي على أنه كفالة، ولماذا؟

.....

.....

.....

.....

.....

.....

.....

.....

.....

.....

.....

.....

.....

.....

.....

.....

.....

.....

.....

.....

.....

ورقة عمل رقم: 153 أخذ مبالغ مالية على الكفالة

عزيزي الباحث:

عامل وافد في إحدى الدول، يتقاضى منه الكفيل مبلغاً مقداره.....، لمجرد إبقاء الإقامة على اسم الشخص المواطن، والمواطن لا يشترك مع العامل بأي شيء، بل إن العامل يعمل في مكان بعيد عن إقامة الكفيل.
فما حكم ما يأخذه لكفيل من مبالغ مالية، ولماذا؟

.....

.....

.....

.....

.....

.....

.....

.....

.....

.....

.....

.....

.....

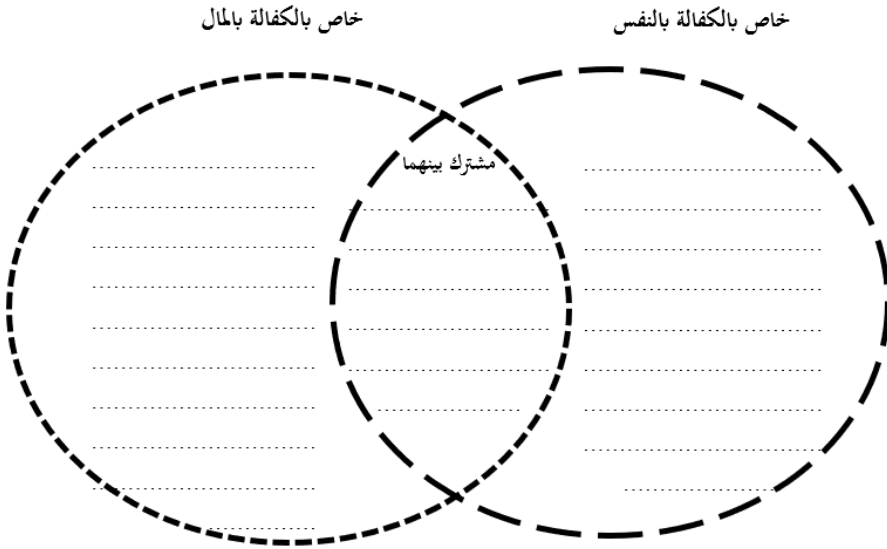
.....

.....

ورقة عمل رقم: 154 المقارنة الثنائية المفتوحة بين الكفالة بالنفس والكفالة بالمال

عزيزي الطالب:

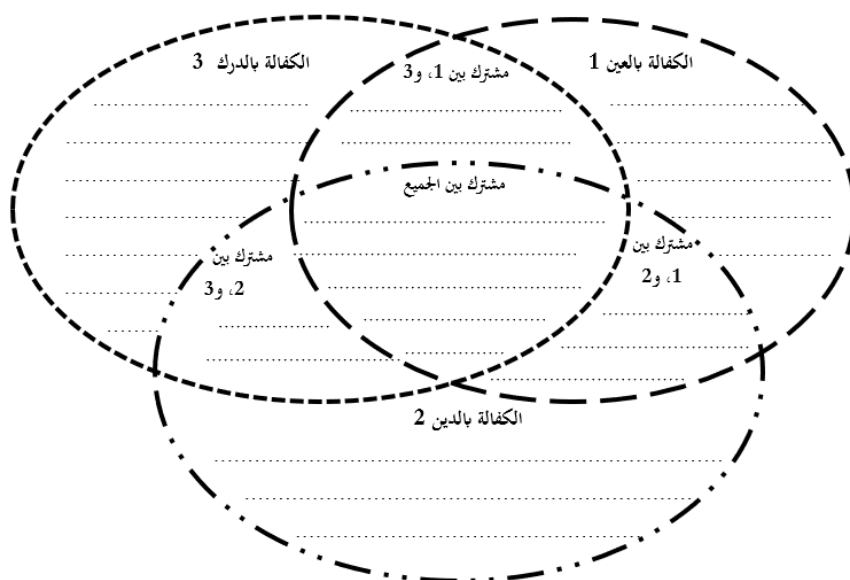
قارن بين الكفالة بالنفس والكفالة بالمال من خلال المخطط الآتي:



ورقة عمل رقم: 155 المقارنة الثنائية المفتوحة بين الكفالة بالدين والكفالة بالعين
والكفالة بالدرك

عزيزي الطالب:

قارن بين الكفالة بالدين والكفالة بالعين والكفالة بالدرك من خلال المخطط الآتي:

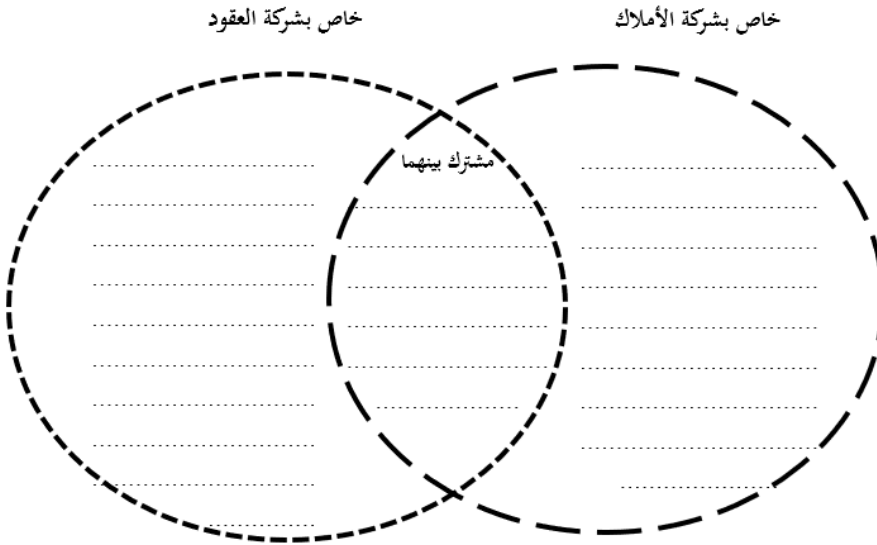


رابع عشر: أوراق عمل الشركات

ورقة عمل رقم: 156 المقارنة الثنائية المفتوحة بين شركة الأملاك وشركة العقود

عزيزي الطالب:

قارن بين شركة الأملاك وشركة العقود من خلال المخطط الآتي:



عزيري الطالب:

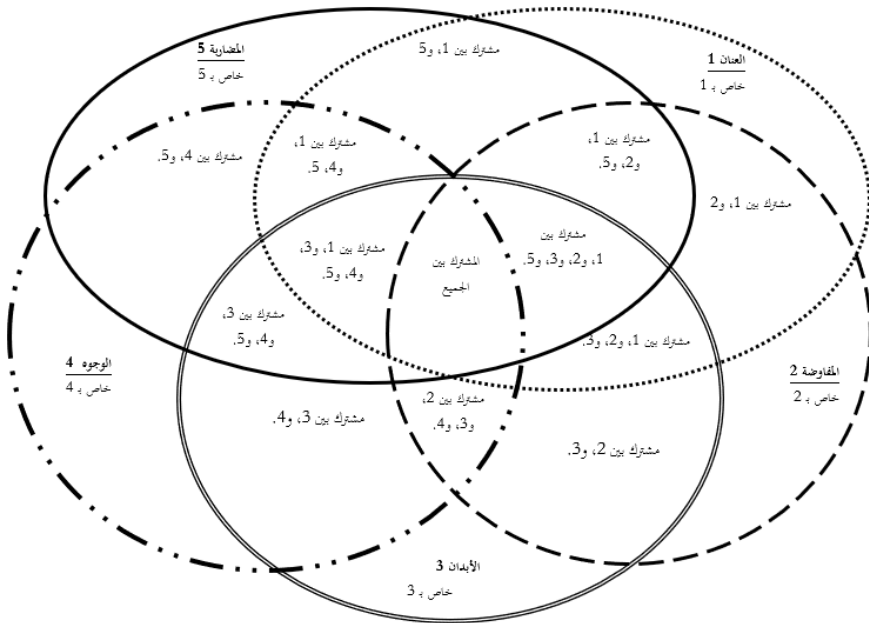
قارن بين شركة العنان وشركة المفاوضة وشركة الأبدان وشركة الوجوه من خلال المخطط الآتي:

<p>العنان، خاص بـ: 1</p> <p>.....</p> <p>.....</p>		<p>المشترك بين 1، و4</p> <p>.....</p> <p>.....</p>		<p>الوجود، خاص بـ: 4</p> <p>.....</p> <p>.....</p>	
<p>المشترك بين 1، و2</p> <p>.....</p> <p>.....</p>		<p>المشترك بين 1، و3</p> <p>.....</p> <p>.....</p>		<p>المشترك بين الجميع</p> <p>.....</p> <p>.....</p>	
<p>المفاوضة، خاص بـ: 2</p> <p>.....</p> <p>.....</p>		<p>المشترك بين 2، و3</p> <p>.....</p> <p>.....</p>		<p>الأبدان، خاص بـ: 3</p> <p>.....</p> <p>.....</p>	

ورقة عمل رقم: 158 المقارنة الخماسية المفتوحة بين أنواع الشركات: العنان، والمفاوضة، والأبدان، والوجوه، والمضاربة

عزيزي الطالب:

قارن بين أنواع الشركات: العنان، والمفاوضة، والأبدان، والوجوه، والمضاربة؛ من خلال المخطط الآتي:



خامس عشر: أوراق عمل الرهن

ورقة عمل رقم: 159 الاستفادة من الشقة المرهونة بحسم الإجرة من الدين

عزيزي الباحث:

قام رجل برهن شقة يملكها لمدة سنة مقابل مبلغ كبير من المال.
وأراد صاحب المال تزويج ابنه، فهل يجوز لصاحب المال جعل ابنه يقيم في الشقة
ويحسم مبلغ الأجرة من الدين، ولماذا؟

.....

.....

.....

.....

.....

.....

.....

.....

.....

.....

.....

.....

.....

.....

.....

ورقة عمل رقم: 160 رهن قلادة ذهبية فيها صليب

عزیزى الباحت:

أرادت امرأة مسيحية ديناً من جارقتها المسلمة، ووضعت عندها قلادة ذهبية فيها صليب رهناً مقابل الدين.

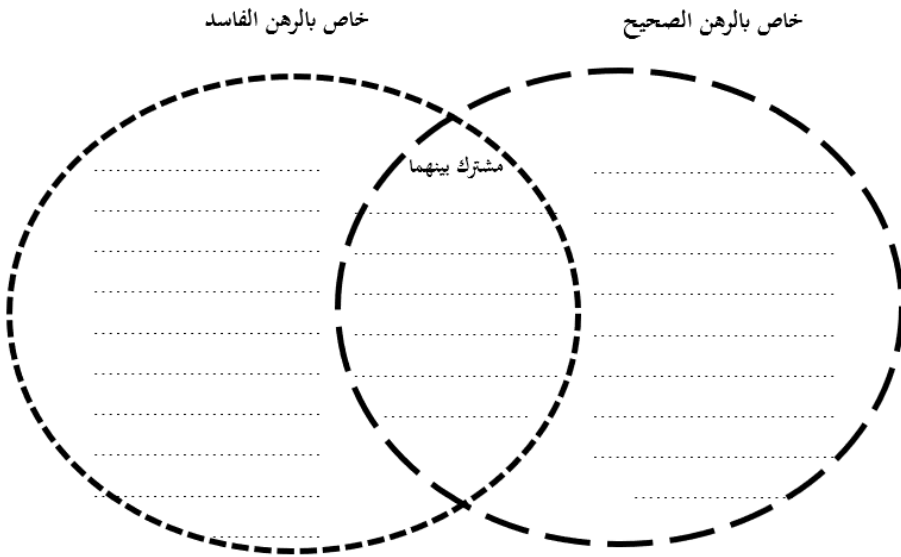
فهل يصح هذا الرهن، ولماذا؟

This image shows a full page of white paper with horizontal dashed lines, typical of primary-ruled notebook paper. The lines are evenly spaced and extend across the entire width of the page. There are no margins, text, or other markings present.

ورقة عمل رقم: 161 المقارنة الثنائية المفتوحة بين الرهن الصحيح والرهن الفاسد

عزيري الباحث:

قارن بين الرهن الصحيح والرهن الفاسد من خلال المخطط الآتي:



سادس عشر: أوراق عمل الجعالة

ورقة عمل رقم: 162 صور معاصرة للجعالة

عزيزي الباحث:

في ضوء دراستك لأحكام الجعالة؛ هات خمسة أمثلة معاصرة لها.

الرقم	المثال
1	
2	
3	
4	
5	

ورقة عمل رقم: 163 عمرة مجاناً للفائز في مسابقة حفظ القرآن الكريم

عزيزي الباحث:

أعلنت إحدى جمعيات تحفيظ القرآن الكريم عن مسابقة لحفظ القرآن الكريم، والفائز في المسابقة سيذهب إلى أداء العمرة مجاناً.

هل يمكن تكييف العقد على أنه جعالة، ولماذا؟

.....

.....

.....

.....

.....

.....

.....

.....

.....

.....

.....

.....

.....

.....

.....

ورقة عمل رقم: 164 – 10 درجات لتخريج حديث

عزيزي الباحث:

قال مدرس مساق تخريج الأحاديث: أي طالب سيقوم بتخريج حديث.....، ورسم شجرته؛ سأعطيه 10 درجات.

هل يمكن تكييف العقد على أنه جعالة، ولماذا؟

.....

.....

.....

.....

.....

.....

.....

.....

.....

.....

.....

.....

.....

.....

.....

ورقة عمل رقم: 165 جعالة على الرقية

عزيزي الباحث:

ظن الأب أن ابنه مصاب بمس من الجن؛ فذهب إلى أحد المعروفين بالقراءة والرقية الشرعية، وقال له: إن شُفي ابني؛ فلك 100 دينار.
هل يمكن تكييف العقد على أنه جعالة، ولماذا؟

.....

.....

.....

.....

.....

.....

.....

.....

.....

.....

.....

.....

.....

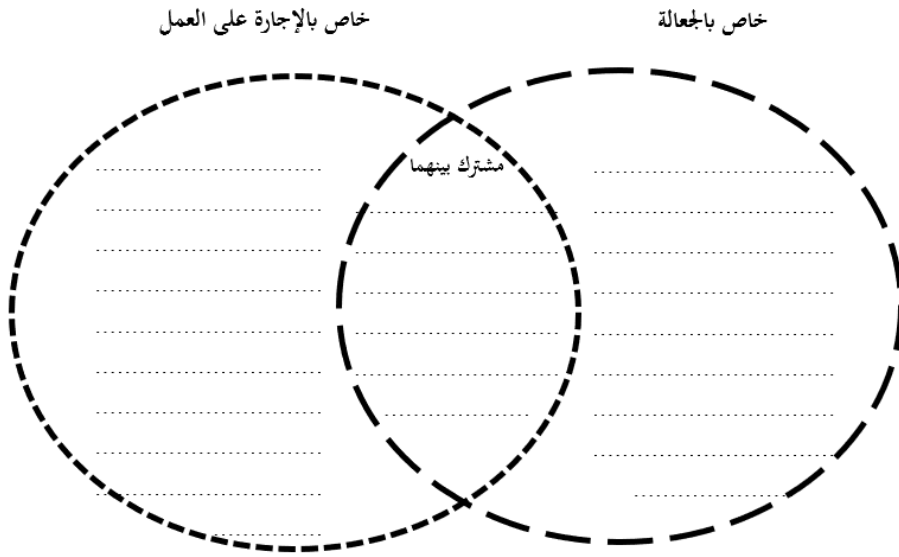
.....

.....

ورقة عمل رقم: 166 المقارنة الثنائية المفتوحة بين الجعالة والإجارة على العمل

عزيزي الباحث:

قارن بين الجعالة والإجارة على العمل من خلال المخطط الآتي:



سابع عشر: أوراق عمل الإقالة

ورقة عمل رقم: 167 حكمة مشروعية الإقالة

عزيزي الباحث:

ماذا تتوقع أن يحدث لو لم تشرع الإقالة؟

.....

.....

.....

.....

.....

.....

.....

.....

.....

.....

.....

.....

.....

.....

.....

.....

.....

.....

.....

.....

.....

ورقة عمل رقم: 168 الاختلاف في ماهية الإقالة

عزيزي الباحث:

اختلف الفقهاء في ماهية الإقالة.

برأيك: ما الآثار العملية المترتبة على هذا الاختلاف؟

.....

.....

.....

.....

.....

.....

.....

.....

.....

.....

.....

.....

.....

.....

.....

.....

.....

.....

.....

.....

.....

.....

ثامن عشر: أوراق عمل عقود التبرعات
ورقة عمل رقم: 169 خصائص عقود التبرعات

عزيزي الباحث:
في ضوء دراستك لعقود التبرعات؛ استنبط خمس خصائص لهذه العقود.

الرقم	الخصائص
1	
2	
3	
4	
5	

ورقة عمل رقم: 170 التبرعات مبنية على التسامح

عزيزي الباحث:

عقود المعاوضات مبنية على المشاحة بينما عقود التبرعات مبنية على المسامحة.

برأيك: لماذا بُنيت المعاوضات على المشاحة بينما بُنيت التبرعات على المسامحة؟

هل بالإمكان أن تُبنى عقود التبرعات على المشاحة، ولماذا؟ وماذا تتوقع أن يحصل لو تم ذلك؟

.....

.....

.....

.....

.....

.....

.....

.....

.....

.....

.....

.....

.....

.....

.....

ورقة عمل رقم: 171 تصنيف عقود التبرعات إلى لازمة وغير لازمة

عزيزي الباحث:

صنف العقود الآتية حسب الجدول أدناه

الرقم	العقد	الرقم	العقد
1	الهبة	6	القرض
2	الكفالة	7	الكفالة
3	الوديعة	8	العارية
4	الوكالة	9	الصدقة
5	الوقف	10	الإبراء

عقود تبرعات لازمة	عقود تبرعات غير لازمة

تاسع عشر: أوراق عمل الهبة

ورقة عمل رقم: 172 تعريف الهبة

عزيزي الباحث:

اختلف الفقهاء في تعريف الهبة، برأيك:

ما أسباب اختلاف الفقهاء في التعريف؟

ما الآثار العملية المترتبة على هذا الاختلاف؟

.....

.....

.....

.....

.....

.....

.....

.....

.....

.....

.....

.....

.....

.....

.....

ورقة عمل رقم: 173 المقارنة الرباعية المفتوحة بين الهبة والصدقة والهدية والعطية

عزيزي الطالب:

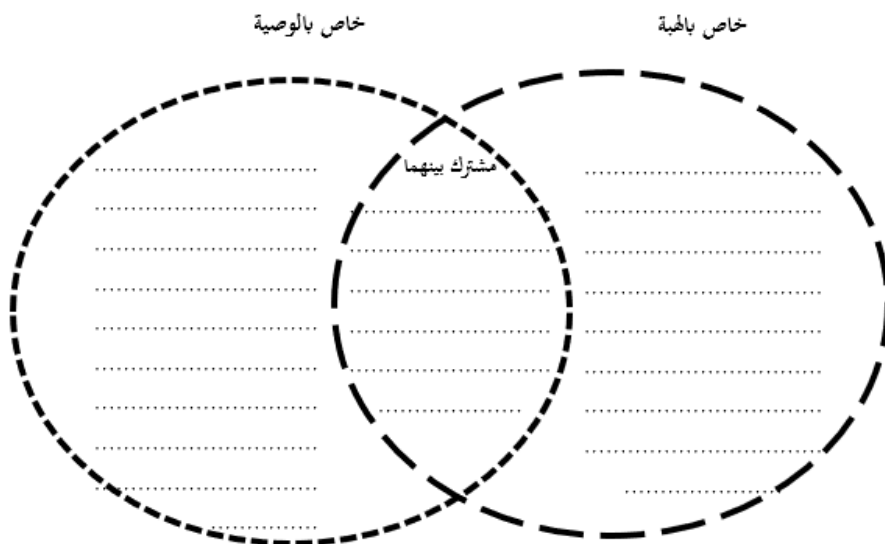
قارن بين: الهبة والصدقة والهدية والعطية من خلال المخطط الآتي:

[illegible]

ورقة عمل رقم: 174 المقارنة الثنائية المفتوحة بين الهبة والوصية

عزيزي الطالب:

قارن بين الهبة والوصية من خلال المخطط الآتي:



ورقة عمل رقم: 175 الصدقة والهدية في حق النبي صلى الله عليه وسلم

عزيزي الباحث:

كان النبي صلى الله عليه وسلم يقبل الهدية ولا يقبل الصدقة.

لماذا، مع أن -الصدقة والهدية- تمليك بلا عوض؟

.....

.....

.....

.....

.....

.....

.....

.....

.....

.....

.....

.....

.....

.....

.....

.....

.....

.....

.....

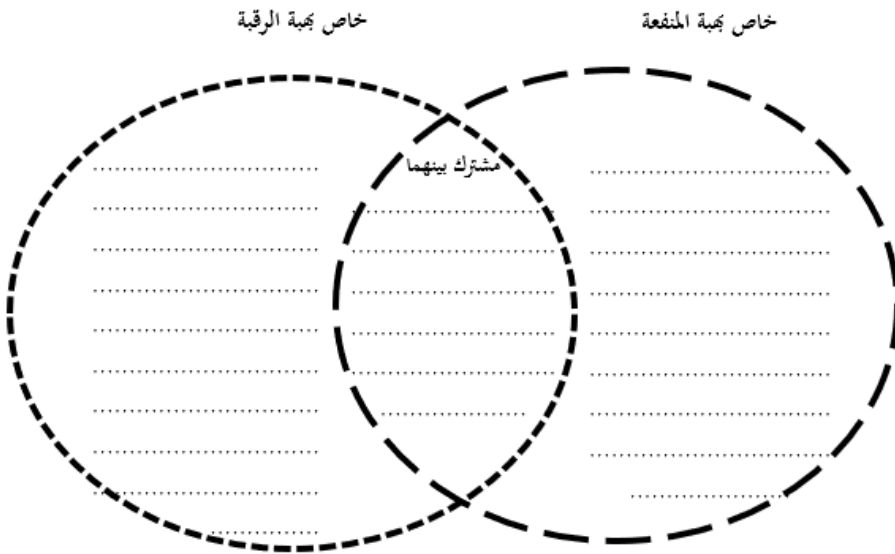
.....

.....

ورقة عمل رقم: 176 المقارنة الثنائية المفتوحة بين هبة الرقبة وهبة المنفعة

عزيزي الطالب:

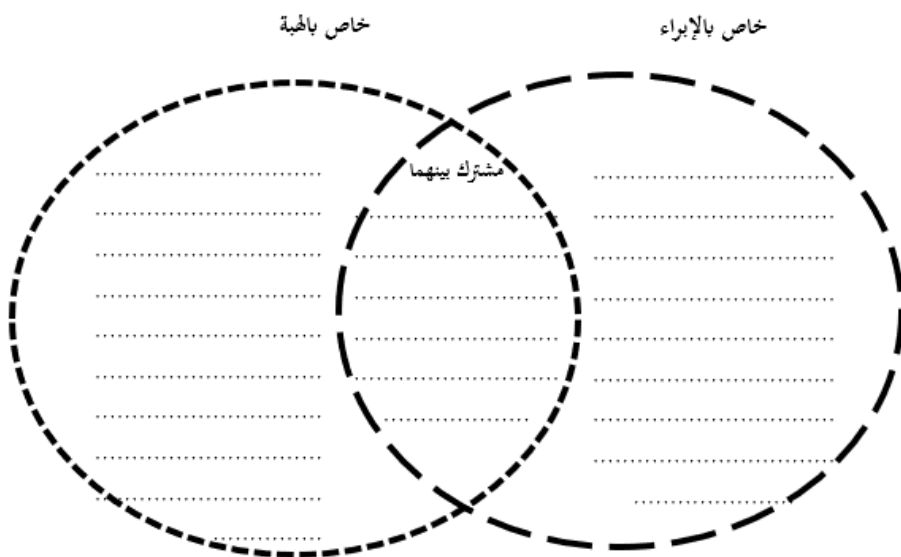
قارن بين هبة الرقبة وهبة المنفعة من خلال المخطط الآتي:



ورقة عمل رقم: 177 المقارنة الثنائية المفتوحة بين الإبراء والهبة

عزيزي الطالب:

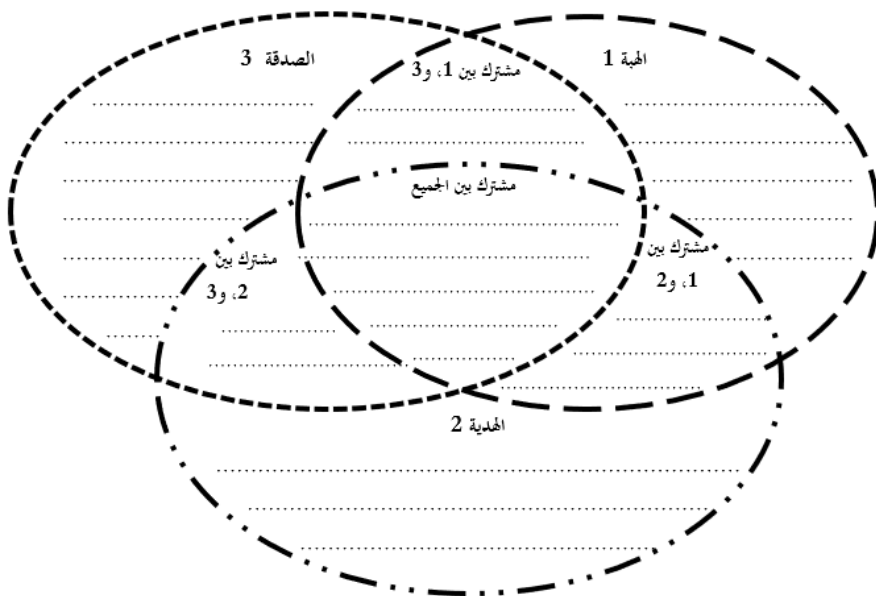
قارن بين الإبراء والهبة من خلال المخطط الآتي:



ورقة عمل رقم: 178 المقارنة الثلاثية المفتوحة بين الهبة والهدية والصدقة

عزيزي الطالب:

قارن بين الهبة والهدية والصدقة من خلال المخطط الآتي:



عشرون: أوراق عمل العارية

ورقة عمل: 179 الحكم التكملي للعارية

عززي الباحث

حكم العارية يأخذ الأحكام التكميلية الخمسة، هات مثلاً واحداً لكل حكم

الرقم	الحكم	المثال
1	عارية مندوبة	
2	عارية واجبة	
3	عارية محرمة	
4	عارية مكروهة	
5	عارية مباحة	

ورقة عمل رقم: 180 إعاره المصحف لغير المسلم

عزیزى الباحت:

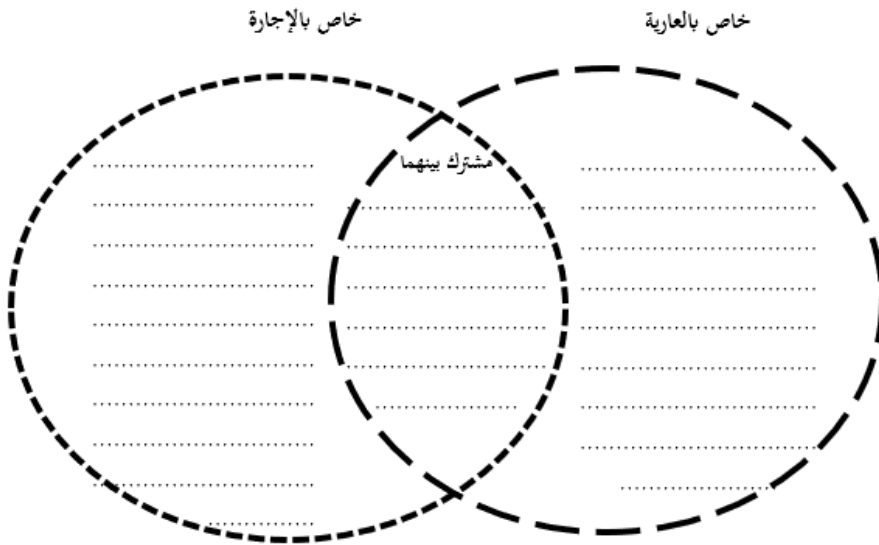
أراد أحد الباحثين في اللغة العربية غير المسلمين استعارة مصحف من مسلم فما الحكم ولماذا؟

This image shows a full page of white paper with horizontal dotted lines, typical of primary-ruled notebook paper. The lines are evenly spaced and run across the width of the page. There are no margins, text, or other markings present.

ورقة عمل رقم: 181 المقارنة الثنائية المفتوحة بين العارية والإجارة

عزيزي الطالب:

قارن بين العارية والإجارة من خلال المخطط الآتي:



حادي وعشرون: أوراق عمل الوقف

ورقة عمل رقم: 182 تاريخ الوقف

عزيزي الباحث:

تتبع كتب التاريخ للوقوف على جواب لسؤال هو: هل نظام الوقف نظام أنشأه الإسلام، أم كان معروفاً في الأمم والأديان السابقة؟

.....

.....

.....

.....

.....

.....

.....

.....

.....

.....

.....

.....

.....

.....

.....

ورقة عمل رقم: 183 كتابة اسم الواقف على الموقوف

عزيزي الباحث:

قام أبناء رجل متوفى ببناء مسجد وجعلوه وقفاً على روح والدهم.
برأيك أيهما أفضل: كتابة اسم الشخص الميت - الموقوف عليه - على المسجد أم عدم
كتابة الاسم، ولماذا؟

.....

.....

.....

.....

.....

.....

.....

.....

.....

.....

.....

.....

.....

.....

.....

ورقة عمل رقم: 184 نقل الوقف للمنفعة

عزيزي الباحث:

أوقف رجل ثلاثة ماء لأحد مساجد المنطقة، وبعد مدة من الزمن كثرت ثلاثيات الماء الموقوفة لهذا المسجد، فهل يجوز نقل بعضها إلى مسجد آخر يعاني من نقص الثلاثيات، ولماذا؟

.....

.....

.....

.....

.....

.....

.....

.....

.....

.....

.....

.....

.....

.....

.....

ورقة عمل رقم: 185 الأفضلية للوقف أم الصدقة

عزيزي الباحث:

برأيك: أيهما أفضل الوقف أم الصدقة، ولماذا؟

.....

.....

.....

.....

.....

.....

.....

.....

.....

.....

.....

.....

.....

.....

.....

.....

.....

.....

.....

.....

.....

ورقة عمل رقم: 186 استعمال الوقف لغير الحاجة التي وقف عليها

عزيزي الباحث:

قام رجل بحفر بئر في المسجد وجعله وقفاً على المسجد، لكن سكان المنطقة يعانون من نقص حاد في مياه الشرب، فهل يجوز لهم أخذ الماء من البئر لبيوتهم، ولماذا؟

.....

.....

.....

.....

.....

.....

.....

.....

.....

.....

.....

.....

.....

.....

.....

.....

.....

.....

.....

.....

.....

.....

ورقة عمل رقم: 187 استعمال الوقف لغير الحاجة التي وقف عليها

عزيزي الباحث:

أوقف رجل مزرعة زيتون لصالح أحد المساجد في المنطقة، وبعد مدة احتاج أهل المنطقة إلى مقبرة، فهل يجوز اقتطاع جزء من تلك المزرعة ليكون مقبرة، ولماذا؟

.....

.....

.....

.....

.....

.....

.....

.....

.....

.....

.....

.....

.....

.....

.....

.....

.....

.....

.....

.....

.....

.....

ورقة عمل رقم: 188 الأخذ من الأرض الموقوفة للشارع العام

عزیزى الباحت:

احتاجت البلدية إلى توسيع أحد الشوارع للمصلحة العامة، فهل يجوز لها اقتطاع جزء من أرض موقوفة لهذه الغاية، ولماذا؟

This image shows a full page of white paper with horizontal dotted lines, typical of primary-ruled notebook paper. The lines are evenly spaced and run across the width of the page. There are no margins, text, or other markings on the paper.

ورقة عمل رقم: 189 التصرف في الكتب الموقوفة لأحد المساجد

عزيزي الباحث:

أوقف رجل 100 نسخة من كتاب المجموع للنووي لأحد مساجد المنطقة التي يسكنها،
فهل يجوز للإمام التصرف في بعض هذه النسخة بإرسالها إلى مساجد أخرى، أو مكتبات
المدارس، ولماذا؟

.....

.....

.....

.....

.....

.....

.....

.....

.....

.....

.....

.....

.....

.....

.....

.....

.....

.....

.....

.....

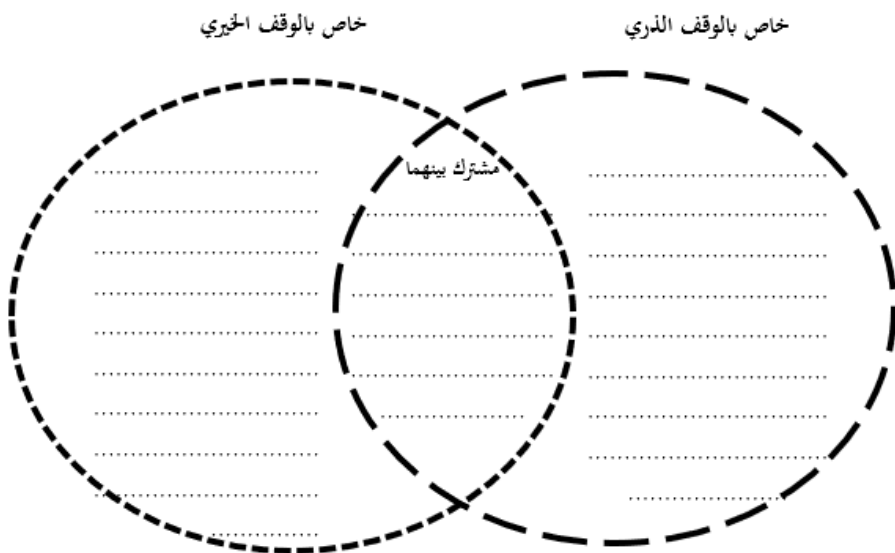
.....

.....

ورقة عمل رقم: 190 المقارنة الشئائية المفتوحة بين الوقف الذري والوقف الخيري

عزيزي الطالب:

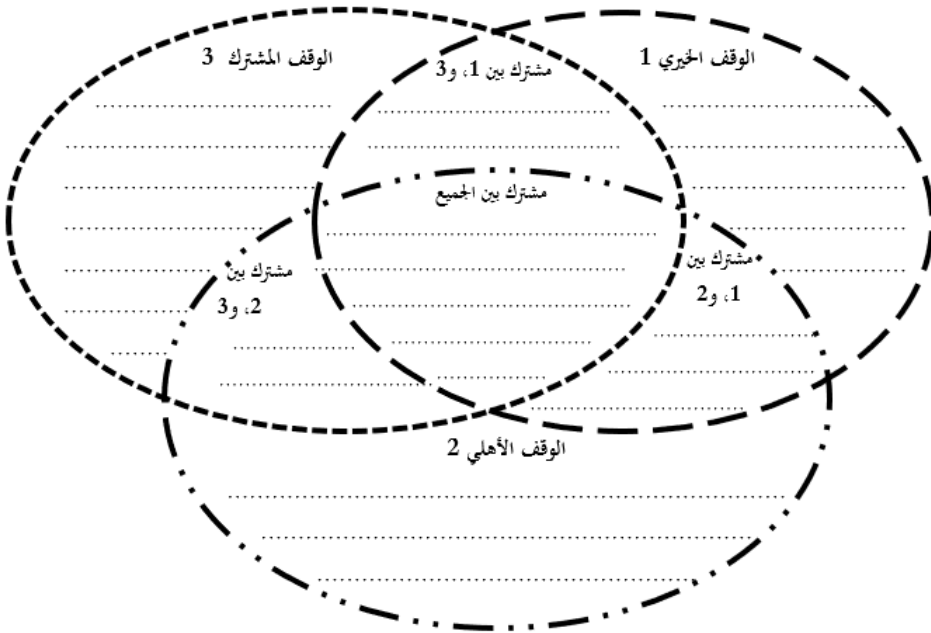
قارن بين الوقف الذري والوقف الخيري من خلال المخطط الآتي:



ورقة عمل رقم: 191 المقارنة الثلاثية المفتوحة بين الوقف الخيري والوقف الأهلي والوقف المشترك

عزيزي الطالب:

قارن بين الوقف الخيري والوقف الأهلي والوقف المشترك من خلال المخطط الآتي:



ثاني وعشرون: أوراق عمل اللقطة

ورقة عمل رقم: 192 اللقطة في دولة أجنبية

عزيزي الباحث:

يرى بعض الفقهاء بأن مال الحربي ليس بلقطة.

هل تعد الدول الأجنبية اليوم - بعضها يحارب دولاً مسلمة - دولاً حربية، ولماذا؟
لو وجد مسلم يحمل جنسية تلك الدولة مالاً لرجل غير مسلم، فهل هذه لقطة
لواجدها، ولماذا؟

.....

.....

.....

.....

.....

.....

.....

.....

.....

.....

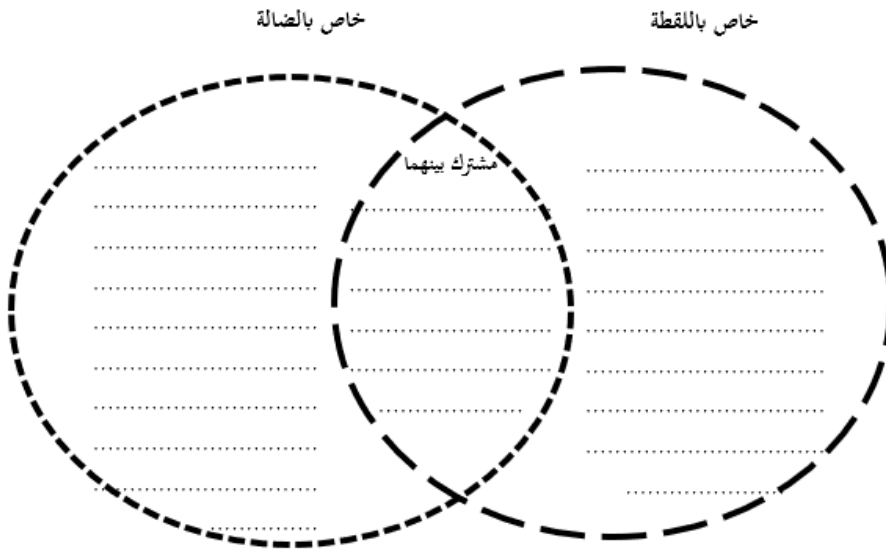
.....

.....

ورقة عمل رقم: 193 المقارنة الشائبة المفتوحة بين اللقطة والضالة

عزيزي الطالب:

قارن بين اللقطة والضالة من خلال المخطط الآتي:



ورقة عمل رقم: 194 الحكم التكليفي لالتقاط اللقطة

عزيري الباحث

يرى بعض الفقهاء أن التقاط اللقطة يأخذ الأحكام التكليفية الخمسة، هات مثالاً واحداً لكل حكم

الرقم	الحكم	المثال
1	الالتقاط مندوب	
2	الالتقاط واجب	
3	الالتقاط حرام	
4	الالتقاط مكروه	
5	الالتقاط مباح	

ورقة عمل رقم: 195 لقطة الحرم المكي والمدني

عزيزي الباحث:

هل لقطة الحرم المكي مثل لقطة الحرم المدني، ولماذا؟

.....

.....

.....

.....

.....

.....

.....

.....

.....

.....

.....

.....

.....

.....

.....

.....

.....

.....

.....

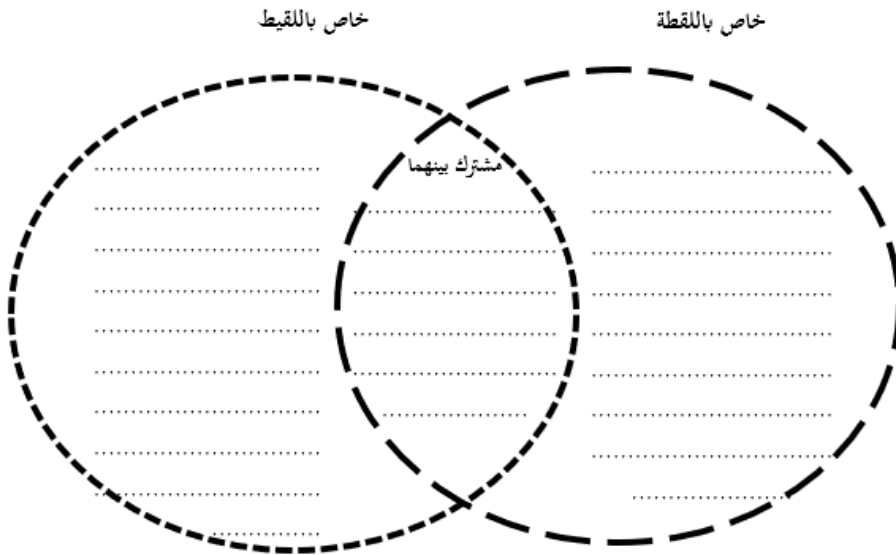
.....

.....

ورقة عمل رقم: 196 المقارنة الشئائية المفتوحة بين اللقطة واللقيط

عزيزي الطالب:

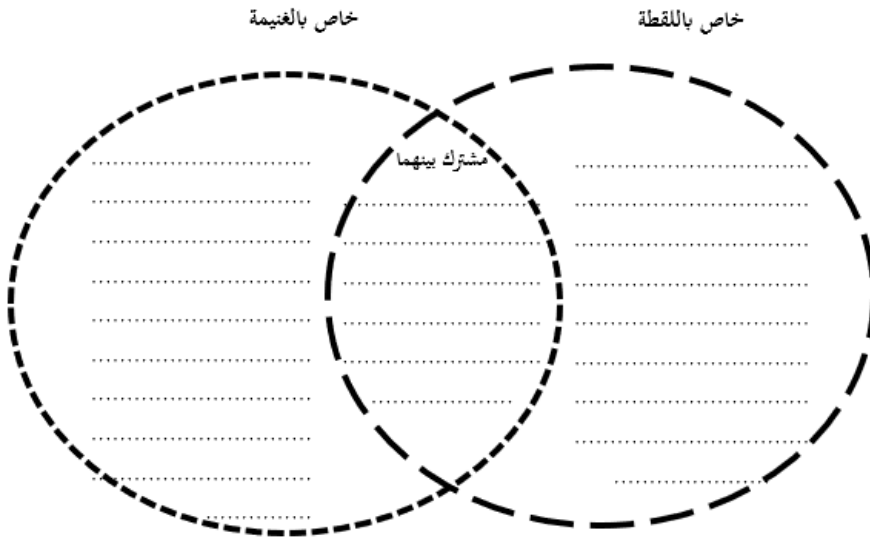
قارن بين اللقطة واللقيط من خلال المخطط الآتي:



ورقة عمل رقم: 197 المقارنة الثنائية المفتوحة بين اللقطة والغنيمة

عزيزي الطالب:

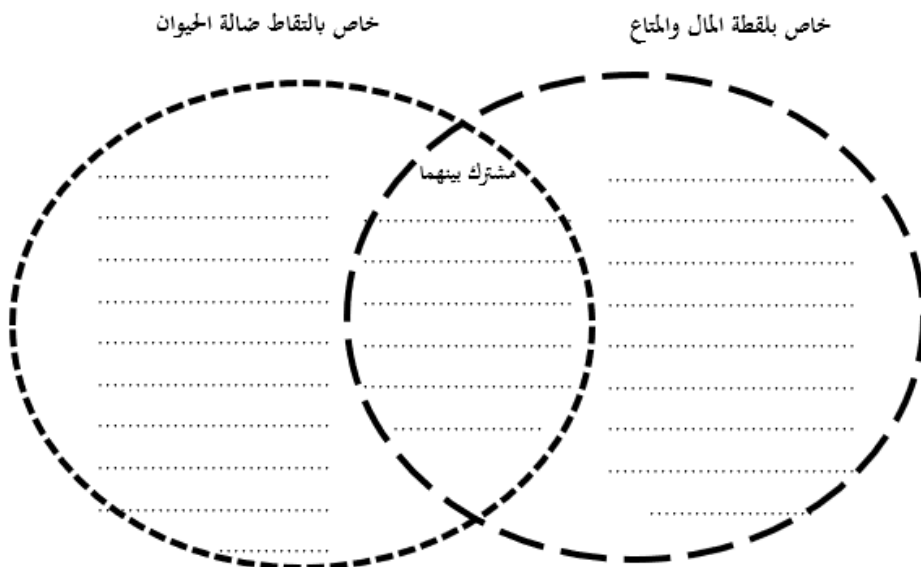
قارن بين اللقطة والغنيمة من خلال المخطط الآتي:



ورقة عمل رقم: 198 المقارنة الثنائية المفتوحة بين لقطة المال والمتاع والتقاط ضالة الحيوان

عزيزي الطالب:

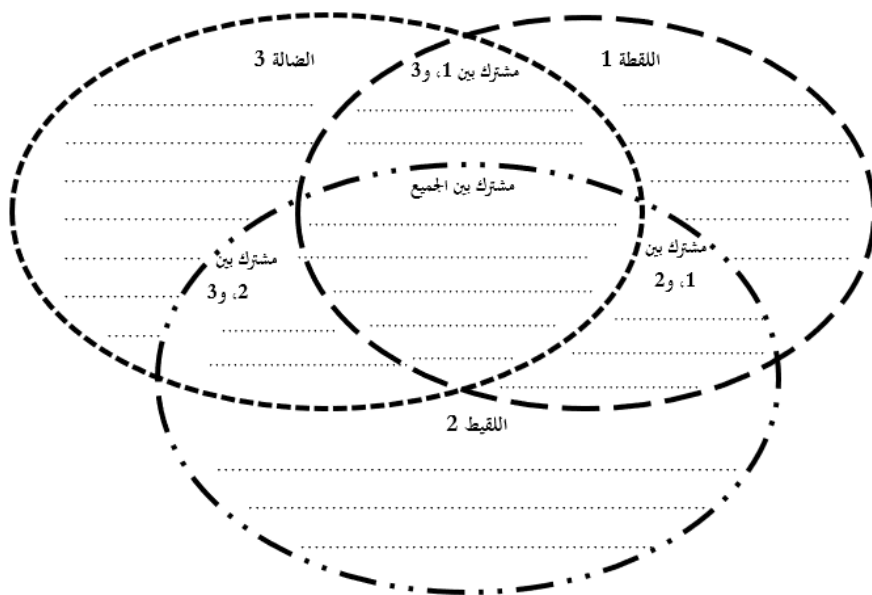
قارن بين لقطة المال والمتاع والتقاط ضالة الحيوان من خلال المخطط الآتي:



ورقة عمل رقم: 199 المقارنة الثلاثية المفتوحة بين اللقطة واللقيط والضالة

عزيزي الطالب:

قارن بين اللقطة واللقيط والضالة من خلال المخطط الآتي:



ورقة عمل رقم: 200 لقطة "علبة سجائر"

عزيزي الباحث:

وجد رجل علبة سجائر من النوع غالي الثمن، فهل تعدُّ لقطة، ولماذا؟

.....

.....

.....

.....

.....

.....

.....

.....

.....

.....

.....

.....

.....

.....

.....

.....

.....

.....

.....

.....

.....

ورقة عمل رقم: 201 الأحكام المترتبة على استثمار اللقطة

عزيزي الباحث:

تاجر وجد قلادة ذهبية، وعرف بها، واحتفظ بصور لها (صور، وفيديو) ولم يأت أحد يطالب بها، وبعد مدة باع القلادة وأدخل ثمنها ضمن استثماراته، وبعد سنوات طويلة جاءت امرأة تطالب بالقلادة ووصفتها وصفاً دقيقاً، وأخبرت التاجر بأنها من دولة أخرى، وأضاعت هذه القلادة أثناء عودتها إلى بلدها.

ما الأحكام المترتبة على هذه الحالة؟

.....

.....

.....

.....

.....

.....

.....

.....

.....

.....

.....

.....

ثالث وعشرون: أوراق عمل الوصية

ورقة عمل رقم: 202 الحكم التكليفي للوصية

عزيزي الباحث

هات مثلاً واحداً لكل حكم تكليفي من أحكام الوصية:

الرقم	الحكم	المثال
1	وصية واجبة	
2	وصية مندوبة	
3	وصية مباحة	
4	وصية مكروهة	
5	وصية محرمة	

ورقة عمل رقم: 203 الوصية بعدم حضور الجنازة

عزيزي الباحث:

أوصى رجل ألا يحضر جزء جنازته (أحمد أو محمود أو محمد) هل يلزم الورثة تنفيذ الوصية ولماذا؟

.....

.....

.....

.....

.....

.....

.....

.....

.....

.....

.....

.....

.....

.....

.....

ورقة عمل رقم: 204 الوصية بالدفن في مكة المكرمة

عزيزي الباحث:

أوصى رجل أن يدفن في المدينة المنورة ومكة المكرمة أو المسجد الأقصى هل يلزم على الورثة تنفيذ الوصية ولماذا؟

.....

.....

.....

.....

.....

.....

.....

.....

.....

.....

.....

.....

.....

.....

.....

.....

.....

.....

.....

.....

.....

.....

ورقة عمل رقم: 205 الوصية بحرمان الابن العاق من الميراث

عزيزي الباحث:

رجل له عدد من الأولاد أحدهم كان عاقاً به، فأوصى الرجل بحرمان الابن العاق من الميراث، ما الأحكام المترتبة على هذه الوصية، ولماذا؟

.....

.....

.....

.....

.....

.....

.....

.....

.....

.....

.....

.....

.....

.....

.....

.....

.....

.....

.....

.....

.....

رابع وعشرون: أوراق عمل الغضب

ورقة عمل رقم: 206 تعريف الغضب

عزيزي الباحث:

عُرف الغضب بأنه أخذ مال متقوم محترم بلا إذن بلا خفية.

برأيك هل يعدُّ أخذ الخمر بالقوة من غير المسلم المقيم في الدولة المسلمة غصباً، ولماذا؟

.....

.....

.....

.....

.....

.....

.....

.....

.....

.....

.....

.....

.....

.....

.....

ورقة عمل رقم: 207 تعريف الغضب

عزيزي الباحث:

اختلف الفقهاء في تعريف الغضب/ ضابط الغضب.

ما الآثار العملية المترتبة على هذا الاختلاف؟

.....

.....

.....

.....

.....

.....

.....

.....

.....

.....

.....

.....

.....

.....

.....

.....

.....

.....

.....

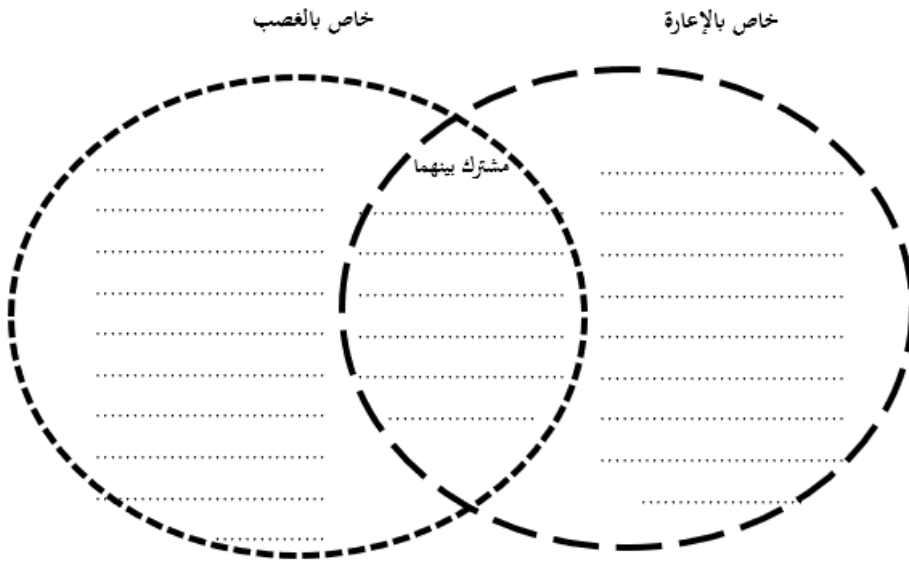
.....

.....

ورقة عمل رقم: 208 المقارنة الثنائية المفتوحة بين الإعارة والغصب

عزيزي الطالب:

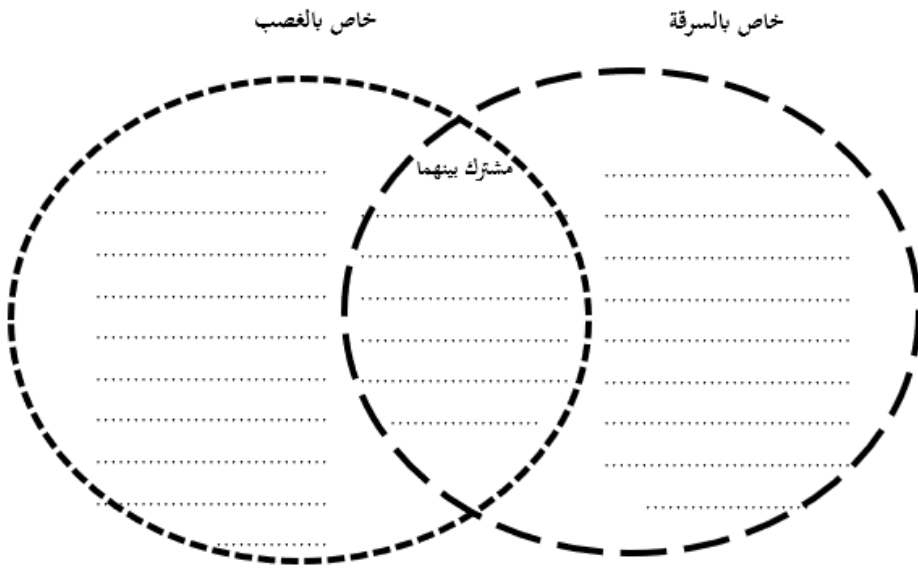
قارن بين الإعارة والغصب من خلال المخطط الآتي:



ورقة عمل رقم: 209 المقارنة الثنائية المفتوحة بين السرقة والغضب

عزيزي الطالب:

قارن بين السرقة والغضب من خلال المخطط الآتي:



ورقة عمل رقم: 210 هل الموت يطيب المال المغصوب؟

عزيزي الباحث:

أخذ رجل مالاً من آخر ثم مات الغاصب.

إن علم الورثة قبل توزيع التركة بذلك، فهل يحل لهم أخذ المال، ولماذا؟

إن علم الورثة بعد مدة طويلة بذلك، فما الأحكام المترتبة هنا، ولماذا؟

.....

.....

.....

.....

.....

.....

.....

.....

.....

.....

.....

.....

.....

.....

.....

ورقة عمل رقم: 211 منفعة المغصوب

عزيزي الباحث:

غضب رجل سيارة من آخر واستعمل السيارة لنقل الركاب وبعد مدة استعادت الأجهزة
الأمنية السيارة وأعادتها إلى صاحبها.

هل يجوز للغاصب أخذ المال الذي ربحه جراء استعمال السيارة المغصوبة، ولماذا؟

.....

.....

.....

.....

.....

.....

.....

.....

.....

.....

.....

.....

.....

.....

.....

ورقة عمل رقم: 212 تقدير قيمة المغصوب

عزيزي الباحث:

اختلف الفقهاء في تقدير قيمة المغصوب؛ أي رأي ترجح ولماذا؟

.....

.....

.....

.....

.....

.....

.....

.....

.....

.....

.....

.....

.....

.....

.....

.....

.....

.....

.....

.....

.....

ورقة عمل رقم: 213 تقدير قيمة القلادة المغصوبة

عزيزي الباحث:

غصب رجل قلادة ذهبية من امرأة ثم ذهب بالقلادة إلى صائغ وحوّلها إلى سبيكة. فإذا علمت أن سعر القلادة يوم الغصب كان 1000 ديناراً، وسعر السبيكة وقت إلزام الغاصب بالرد كان 1500 ديناراً؛ فأبي سعر يلزم الغاصب برده، ولماذا؟

.....

.....

.....

.....

.....

.....

.....

.....

.....

.....

.....

.....

.....

.....

.....

ورقة عمل رقم: 214 غضب الخنزير

عزیزى الباحت:

قامت إحدى شركات تصنيع الأدوية بشراء عدد من الخنازير بهدف تصنيف أدوية منها، ثم قام أحد المسلمين بغصب تلك الخنازير وقتلها، فهل يضمن أم لا، ولماذا؟

[illegible]

ورقة عمل رقم: 215 غصب التماثيل

عزيزي الباحث:

أحد علماء المسلمين متخصص في دراسة الآثار؛ قام بشراء عدد من التماثيل لدراستها، ثم قام أحد المسلمين بغصب تلك التماثيل وتخطيطها، فهل يضمن أم لا، ولماذا؟

.....

.....

.....

.....

.....

.....

.....

.....

.....

.....

.....

.....

.....

.....

.....

.....

.....

.....

.....

.....

.....

.....

ورقة عمل رقم: 216 اتلاف الدم

عزيزي الباحث:

اقتحم رجل أحد بنوك الدم، ثم قام بغصب العديد من عبوات الدم وإتلافها.
ما الحكم الشرعي، ولماذا؟ وماذا يترتب على الفاعل، ولماذا؟

.....

.....

.....

.....

.....

.....

.....

.....

.....

.....

.....

.....

.....

.....

.....

.....

.....

.....

.....

.....

.....

.....

خامس وعشرون: أوراق عمل الوديعة

ورقة عمل رقم: 217 الحكم التكليفي للوديعة

عزيزي الباحث

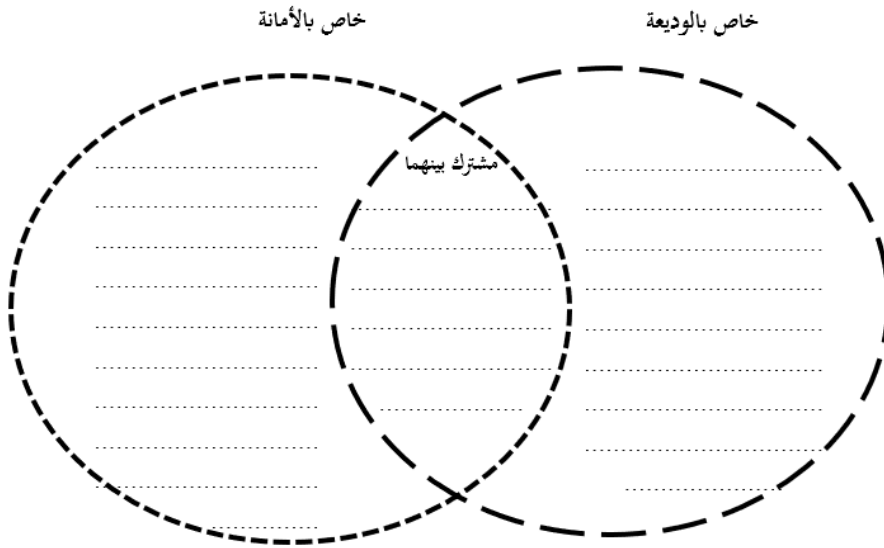
هات مثلاً واحداً لكل حكم تكليفي من أحكام الوديعة:

الرقم	الحكم	المثال
1	وديعة حكمها الاستحباب	
2	وديعة حكمها الوجوب	
3	وديعة حكمها الحرمة	

ورقة عمل رقم: 218 المقارنة الثنائية المفتوحة بين الوديعة والأمانة

عزيزي الطالب:

قارن بين الوديعة والأمانة من خلال المخطط الآتي:



ورقة عمل رقم: 219 الاتجار بمال الوديعة

عزيزي الباحث:

أدوع رجل مبلغاً من المال لدى أحد التجار، وسافر صاحب المال وغاب سنة كاملة،
وخلال فترة غيابه قام التاجر باستثمار مال الوديعة في تجارته.

فلمن الربح: للتاجر أم لصاحب المال، ولماذا؟

وإن حصلت خسارة؛ فمن يتحملها، ولماذا؟

.....

.....

.....

.....

.....

.....

.....

.....

.....

.....

.....

.....

.....

.....

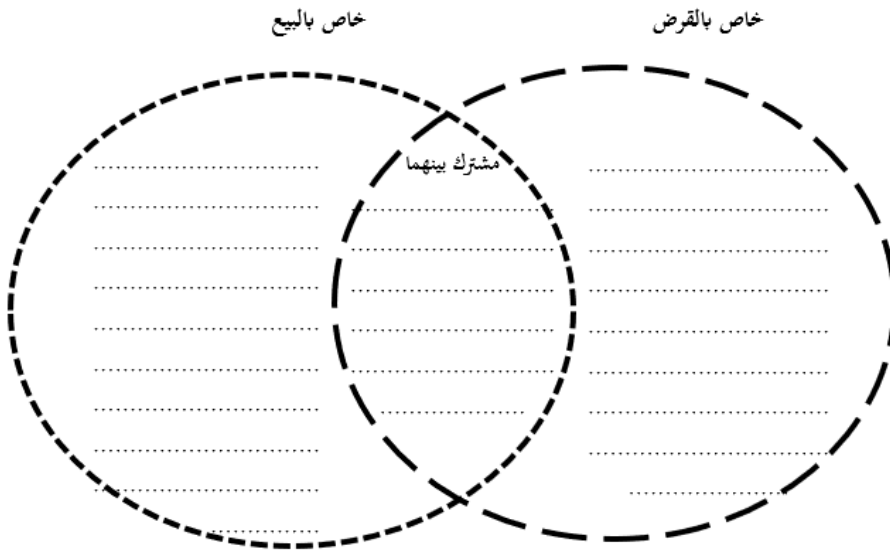
.....

سادس وعشرون: أوراق عمل القرض

ورقة عمل رقم: 220 المقارنة الثنائية المفتوحة بين القرض والبيع

عزيزي الطالب:

قارن بين القرض والبيع من خلال المخطط الآتي:



ورقة عمل رقم: 221 التوبة من القرض الربوي

عزیزى الباحت:

اشترى رجل بيتاً له عن طريق القرض الربوي وبعد سداد كل الأقساط الربوية أراد الرجل التوبة فكيف تكون التوبة من القرض الربوي، ولماذا؟

[illegible]

ورقة عمل رقم: 222 أداء القرض النقدي من مال غيره

عزيزي الباحث:

استدان صاحب مزرعة أموالاً من أحد التجار، ولما حان وقت السداد؛ قال صاحب المزرعة للتاجر: ما رأيك أن أوفيك حقلك من الزيتون. ما الحكم الشرعي ولماذا؟

.....

.....

.....

.....

.....

.....

.....

.....

.....

.....

.....

.....

.....

.....

.....

.....

.....

.....

.....

.....

.....

.....

ورقة عمل رقم: 223 انخفاض القيمة السوقية للقرض

عزيزي الباحث:

استدان مسلم مقيم في كندا مبلغاً مقداره..... بالدولار الكندي، والذي كان يساوي.... بالدولار الأمريكي من قريب له مقيم في أمريكي.
لكن بعد فترة انخفضت قيمة الدولار الكندي تجاه الدولار الأمريكي.
فما الواجب فعله في هذه الحالة، ولماذا؟

.....

.....

.....

.....

.....

.....

.....

.....

.....

.....

.....

.....

.....

.....

.....

ورقة عمل رقم: 224 وضع شرط جزائي عند التأخر عن سداد القرض

عزيزي الباحث:

تقوم إحدى الجهات بمنح قروض بدون أية فوائد، ويسدد هذا القرض على شكل دفعات شهرية لكن من بين شروط هذا القرض: من يتأخر عن تسديد أي دفعة شهرية سيتحمل المقرض مبلغا مقداره....جاء هذا التأخير.
ما الحكم الشرعي، ولماذا؟

.....

.....

.....

.....

.....

.....

.....

.....

.....

.....

.....

.....

.....

.....

.....

ورقة عمل رقم: 225 حكمة وجود الشفاعة

ماذا تتوقع أن يحدث لو لم تُشرع الشفعة؟

عزيزي الباحث:

ماذا تتوقع أن يحدث لو لم تُشرع الشفعة؟

ورقة عمل رقم: 226 الشفعة في الشقق السكنية

عزيزي الباحث:

بناية مكونة من 10 شقق، موزعة على 5 طوابق، ولها مدخل واحد.
أراد صاحب الشقة رقم 10 والواقعة في الطابق رقم 5 بيعها، فهل تثبت الشفعة
لصاحب الشقة رقم 1 والواقعة في الطابق رقم 1، ولماذا؟

.....

.....

.....

.....

.....

.....

.....

.....

.....

.....

.....

.....

.....

.....

.....

.....

ورقة عمل رقم: 227 تعدد الشفعاء في البنايات السكنية

عزيزي الباحث:

بناية مكونة من عدة طوابق، وفي كل طابق 4 شقق، فالطابق الأول يتكون من الشقق

ذوات الأرقام: 1، 2، 3، 4.

أراد صاحب شقة رقم 1 بيعها، وعرض كل من أصحاب الشقق 2، و3، و4 الشراء.

فلمن تحكم بالشفعة، ولماذا؟

.....

.....

.....

.....

.....

.....

.....

.....

.....

.....

.....

.....

.....

.....

.....

الخاتمة:

الحمد لله الذي بنعمته تتم الصالحات، فقد انتهى الباحث من إعداد هذا الكتاب، وذلك بتناول موضوعات مساق فقه المعاملات من خلال عرض بعض النماذج التطبيقية لدمج بعض المهارات التفكير في تدريس هذا المساق؛ إيماناً من الباحث بعدم الاقتصار على الدعوات النظرية لتطوير مناهج العلوم الشرعية، بل بعرض نماذج تطبيقية متكاملة لأوراق عملية لتوظيف بعض مهارات التفكير؛ لتكون بين يدي مدرس المساق لتفعيلها في الموقف التعليمي.

وفي ختام هذا المطاف: إنّ هذا الجهد جهد بشري يتعثره النقص والخطأ والزلل، وأكون شاكراً ومقدراً لمن يتلطف بتزويدي بأية ملحوظات على هذا العمل.

والحمد لله رب العالمين

د. حمزة عبد الكريم حماد

hamza041@yahoo.com